

www.freemaths.fr

STI2D

BACCALAURÉAT

SUJET

Bac 2I2D : SIN



POLYNÉSIE

2023

BACCALAURÉAT TECHNOLOGIQUE

ÉPREUVE D'ENSEIGNEMENT DE SPÉCIALITÉ

SESSION 2023

SCIENCES ET TECHNOLOGIES DE L'INDUSTRIE ET DU DÉVELOPPEMENT DURABLE

Ingénierie, Innovation et Développement Durable

SYSTÈMES D'INFORMATION ET NUMÉRIQUE

Durée de l'épreuve : **4 heures**

L'usage de la calculatrice avec mode examen actif est autorisé.

L'usage de la calculatrice sans mémoire, « type collège » est autorisé.

Dès que ce sujet vous est remis, assurez-vous qu'il est complet.

Ce sujet comporte 34 pages numérotées de 1/34 à 34/34.

Constitution du sujet :

Partie commune (durée indicative 2h30)	12 points
Partie spécifique (durée indicative 1h30)	8 points

**Le candidat traite les 2 parties en suivant les consignes contenues dans le sujet.
Ces 2 parties sont indépendantes et peuvent être traitées dans un ordre indifférent.**

Tous les documents réponses sont à rendre avec la copie.

PARTIE COMMUNE (12 points)

Analyse thermique et gestion de l'éclairage d'une école



UNE ÉCOLE OÙ IL FAIT BON GRANDIR (Crédit photo DSA)

- **Présentation de l'étude et questionnement** pages 3 à 8
- **Documents techniques** pages 9 à 18
- **Documents réponses** pages 19 à 20

Mise en situation

Dans le cadre de sa compétence en énergie, la Métropole Européenne de Lille (MEL) gère les réseaux de chaleur publics répartis sur son territoire. Six réseaux de chaleur publics existent actuellement.

Ils se situent sur les communes de Lille, Mons-en-Barœul, Villeneuve d'Ascq, Roubaix, Wattignies et Wattrelos. Les équipements sont alimentés à partir de plusieurs combustibles comme la biomasse ou le gaz.

Les réseaux appartiennent à la MEL, mais ils sont gérés par des concessionnaires qui ont en charge l'exploitation, l'entretien et le développement de ces infrastructures.



Figure 1 : chaufferie urbaine de Mons-en-Barœul

En 2015, le réseau de 82 km a distribué 575 GWh sur 450 points de livraison (45 % habitat, 55 % tertiaire), soit l'équivalent de 40 000 logements. La chaleur produite était d'origine biomasse à 20 % ; l'objectif à atteindre pour 2023 est de dépasser 50 %.

Les investissements se poursuivent en février 2017 avec l'attribution par la MEL d'une nouvelle concession. Ce contrat prévoit une extension du réseau de chaleur de Lille / Roubaix vers Halluin. Ce projet permettra de valoriser l'énergie fatale (énergie non utile aux procédés industriels, mais récupérable) issue du processus d'incinération du centre de valorisation énergétique d'Halluin. Ce réseau de chaleur alimentera de nouveaux édifices publics tels que les équipements sportifs ou encore les établissements scolaires.

Dans le même temps, les communes approvisionnées de la métropole mènent une campagne de réhabilitation des bâtiments publics et d'habitation.

C'est dans ce contexte que la ville de Mons-en-Barœul a entrepris des travaux de rénovation de l'école maternelle Charles de Gaulle, située en centre-ville.

Dans cette partie commune, nous nous intéresserons à l'étude thermique de la salle de classe n°1 et au projet de gestion d'éclairage de la salle de jeux (voir Figure 2 ci-dessous).

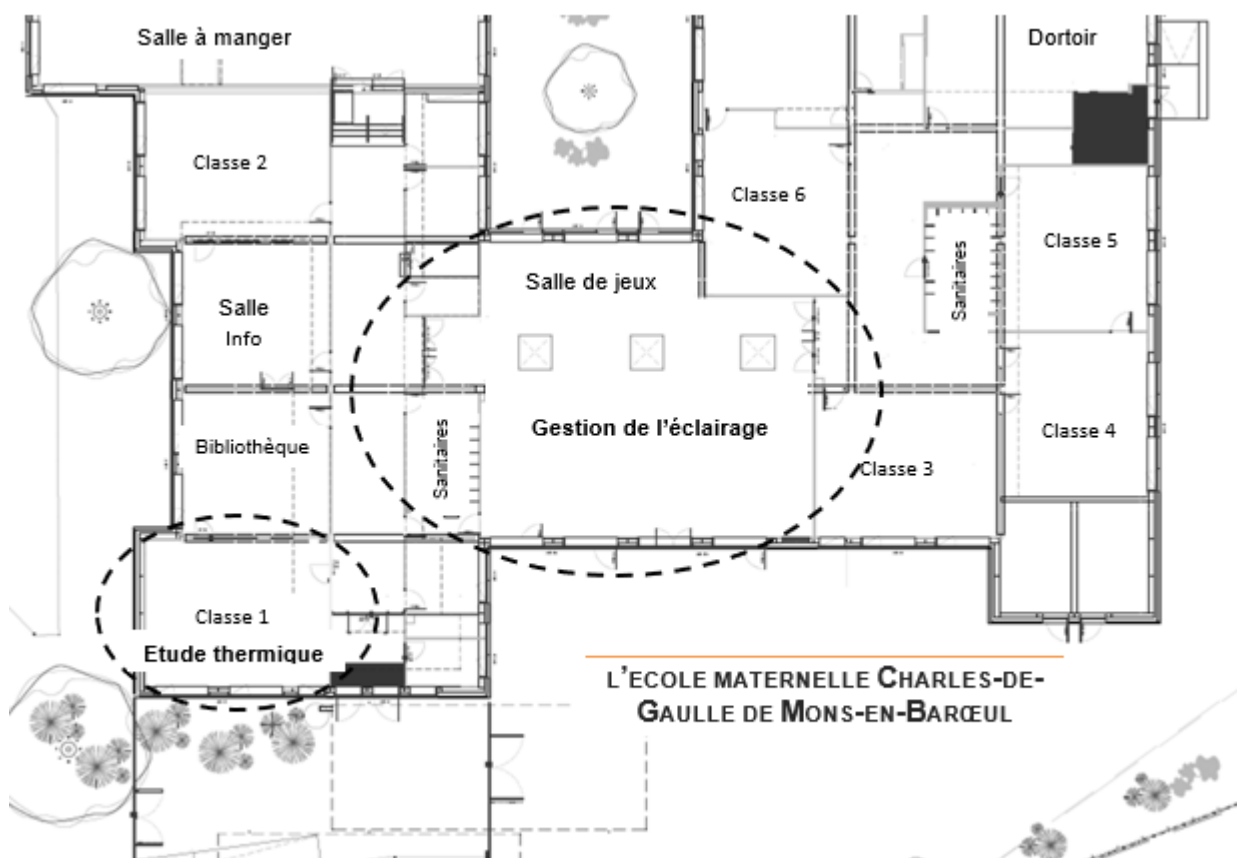


Figure 2 : vue en plan partielle

Travail demandé

Partie 1 : l'isolation des bâtiments anciens par l'extérieur (ITE) constitue-t-elle un bon investissement ?

Objectif : estimer les gains en énergie thermique pouvant être obtenus par isolation des parois extérieures de l'école.

Question 1.1 | La rénovation de l'école s'inscrit-elle dans une démarche de développement durable ?

Mise en situation
DT1

À l'aide de la mise en situation et du diagramme des exigences (document technique DT1), **énoncer** pour chacun des 3 piliers du développement durable :

- 1 argument inscrivant le projet dans une démarche environnementale ;
- 1 argument inscrivant le projet dans une démarche sociétale ;
- 1 argument inscrivant le projet dans une démarche économique.

Question 1.2 | À partir des documents techniques DT1 et DT2, **identifier** la réglementation thermique qui s'applique au projet de rénovation énergétique de l'école. **Justifier** votre réponse.

DT1, DT2

Question 1.3 | À partir du document technique DT3, **résumer** les critères d'exigences qui doivent être respectés pour satisfaire la réglementation RT2012, puis à l'aide du DT4, **justifier** le scénario d'étude thermique qui devra être retenu.

DT3, DT4

Afin de constater l'impact sur la régulation du chauffage, on souhaite estimer par une modélisation les déperditions de chaleur d'une salle de classe avant et après rénovation. Pour cela, il est nécessaire de déterminer la résistance thermique équivalente des parois.

Question 1.4 | À partir du document réponse DR1, **calculer** les résistances thermiques de chaque composant. **Compléter** le tableau en indiquant les valeurs trouvées.

DR1

Question 1.5 | **En déduire** la résistance globale R_{therm} de la paroi verticale rénovée. **Compléter** le DR1.

DR1, DT5

À l'aide du DT5, **vérifier** que la réglementation pour ce projet de rénovation est respectée.

On utilise la valeur calculée précédemment pour paramétrer le modèle de simulation relatif à l'évolution de la température intérieure de la salle de classe 1. Il s'agit de montrer l'impact de la rénovation des parois extérieures sur la régulation du chauffage. La modélisation proposée tient compte du volume de la pièce, de la surface des parois extérieures et de l'évolution de la température extérieure.

- Question 1.6
DR2
- Sur le DR2, **positionner** sur le modèle de simulation, les blocs A, B et C au regard de leur description.
- Indiquer** dans le tableau le type des variables (interne ou externe) associées aux composants.
- Question 1.7
DT4, DT6
DR2
- À la lecture du DT6, **commenter** les résultats des simulations de la régulation de chauffage avant et après rénovation.
- La puissance installée des radiateurs est inchangée.
- À l'aide du DT6, **calculer** le rapport « R_t » des temps de fonctionnement du chauffage : $R_t = t_{\text{avant rénovation}} / t_{\text{après rénovation}}$.
- À l'aide du DT4, **calculer** le rapport « R_c » des consommations en énergie primaire du chauffage : $R_c = E_{\text{avant rénovation}} / E_{\text{après rénovation}}$.
- Analyser** les écarts entre R_t et R_c puis **identifier** les hypothèses simplificatrices retenues pour le modèle proposé.

La paroi d'origine est composée d'un voile de béton plein et d'une fine épaisseur de polystyrène expansé. L'isolation par l'extérieur va permettre de diminuer le flux de chaleur s'échappant par les parois.

- Question 1.8
DT1, DT7
- En vous référant aux performances des matériaux du DT7 d'une part et au diagramme des exigences en DT1 d'autre part, **déterminer** le panneau sandwich le plus adapté au regard de la charge additionnelle acceptée.
- Confirmer** ce choix au regard de l'impact environnemental lié au changement climatique et au regard des performances thermiques attendues.
- Question 1.9
- Conclure** sur les choix constructifs retenus pour l'isolation thermique des parois extérieures de l'école, au regard du cahier des charges et du développement durable.

Partie 2 : l'investissement dans de nouveaux luminaires de technologie DEL est-il nécessaire ?

Objectif : mener une étude préliminaire pour estimer la rentabilité de l'investissement.

Avec le remplacement des luminaires à tubes fluorescents existants, un gain non négligeable est attendu au regard de leur consommation et en termes de cycle de vie. Le choix se porte sur des luminaires à technologie. Trois puits de lumière naturelle sont également prévus.

Question 1.10 | **Justifier**, à partir du DT8, la pertinence du choix de la technologie en
DT8 fonction de son coût global et de sa durée de vie.

L'éclairement **E** en Lux peut être calculé avec l'équation :
$$\mathbf{E} = \frac{\Phi * \cos\left(\frac{\alpha}{2}\right)}{d^2}$$

Φ : flux lumineux initial en lumen (lm)

α : angle d'ouverture du faisceau de lumière en degré (°)

d : distance entre le plafond d'installation et le plan d'activité en mètre (m)

Question 1.11 | Pour le modèle *Philips CoreLine Downlight* présenté dans le DT9, **relever**
DT9 les valeurs du flux lumineux initial en lumen ainsi que la valeur de l'angle d'ouverture du faisceau de lumière.

Calculer l'éclairement (en Lux) d'un luminaire sur le plan utile d'activité. Dans notre cas le sol est situé à 2,8 mètres du luminaire.

La surface d'éclairement d'un luminaire **S** en m² peut être calculée à partir de la relation :

$$\mathbf{E} = \Phi / \mathbf{S}$$

Φ : flux lumineux initial en lumen (lm)

E : éclairement en lux

Question 1.12 | **Calculer** la surface d'éclairement d'un luminaire sur le plan d'activité en
utilisant les données de la question précédente.

Question 1.13 | **Comparer** cet éclairement en Lux à celui de l'exigence de confort visuel
DT1, DT10 exprimée dans le DT1. **Conclure** quant au choix de ce modèle de luminaire.

On définit le facteur d'insuffisance comme étant le rapport entre l'exigence de confort visuel et l'éclairement du luminaire sur le plan d'activité, ces deux valeurs étant exprimées en lux.

Calculer le facteur d'insuffisance.

L'essentiel de l'activité se déroule au centre de la pièce.

À partir des résultats des simulations « Dialux » sur le DT10, **choisir** et **justifier** l'implantation optimale des luminaires pour compenser cette insuffisance et satisfaire le critère d'exigence de confort visuel.

Question 1.14 | Pour la suite de l'étude, le facteur d'insuffisance est fixé à 2,15. **Déterminer** le nombre minimal théorique de luminaires *Philips CoreLine Downlight* nécessaires sachant que la salle de jeux totalise une surface de 215 m².

Les anciens tubes fluorescents avaient une efficacité lumineuse d'environ 80 lm·W⁻¹ (lumen par watt).

Question 1.15 | En vous référant au DT9, **indiquer** l'efficacité lumineuse des luminaires *Philips CoreLine Downlight* et **déterminer** le gain (en %) obtenu grâce au passage à la technologie DEL.

Dans les bâtiments, la consommation d'énergie liée à l'éclairage est conséquente. Son impact environnemental n'est pas négligeable. Dans cette école, les luminaires fonctionnent durant les périodes d'ouverture hebdomadaire à raison de 5 jours pendant 10 h, 36 semaines par an.

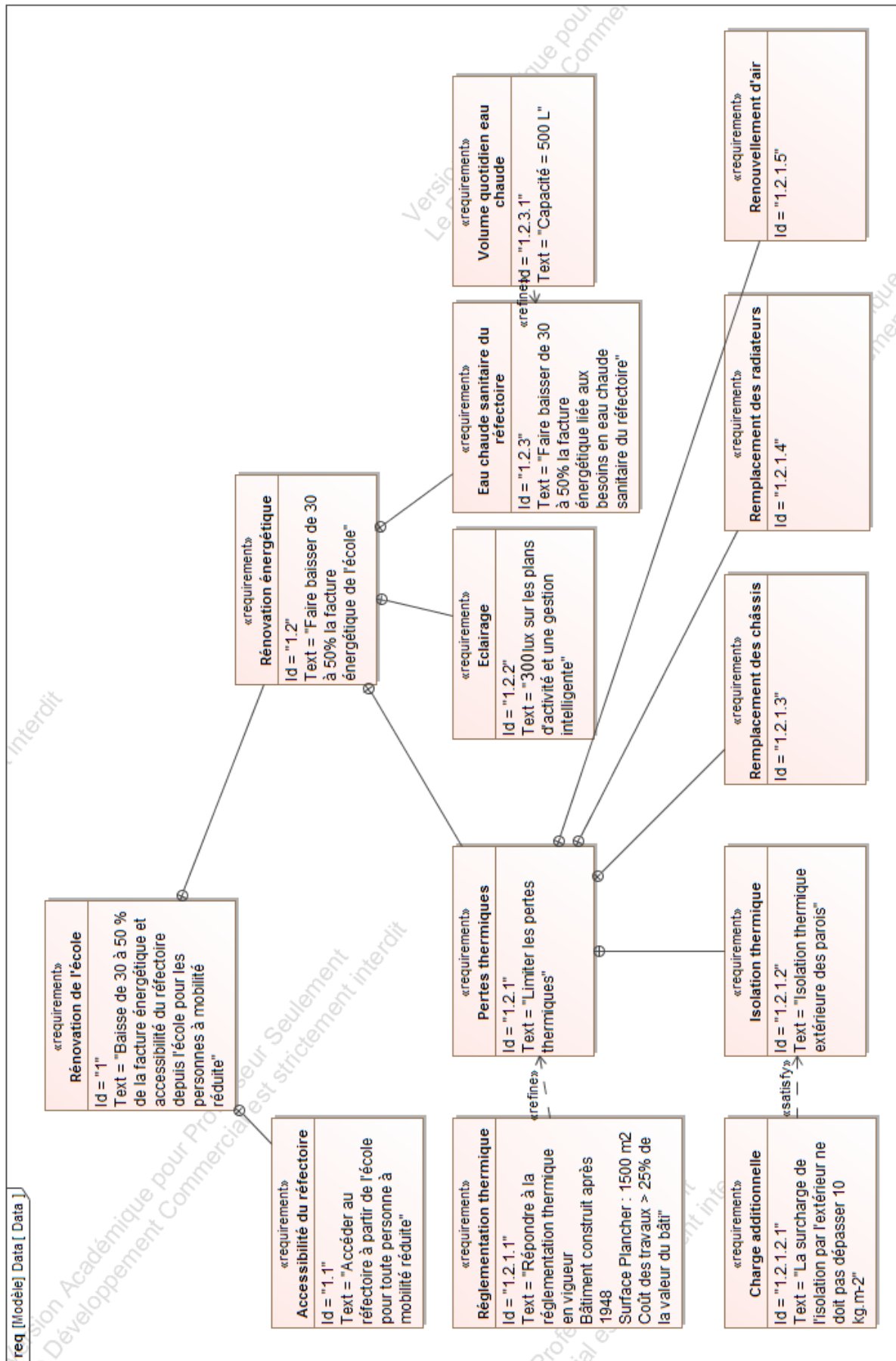
On estime qu'une gestion intelligente du bâtiment peut permettre une économie de 60 % de la consommation d'énergie liée à l'éclairage. Cette gestion tient compte de lumière naturelle ambiante, des horaires d'ouverture et de la présence des usagers.

Question 1.16 | À partir du DT9, **calculer** pour 30 luminaires *Philips CoreLine Downlight*, l'énergie consommée (en kWh) sur une période d'un an avec cette gestion d'éclairage intelligente.

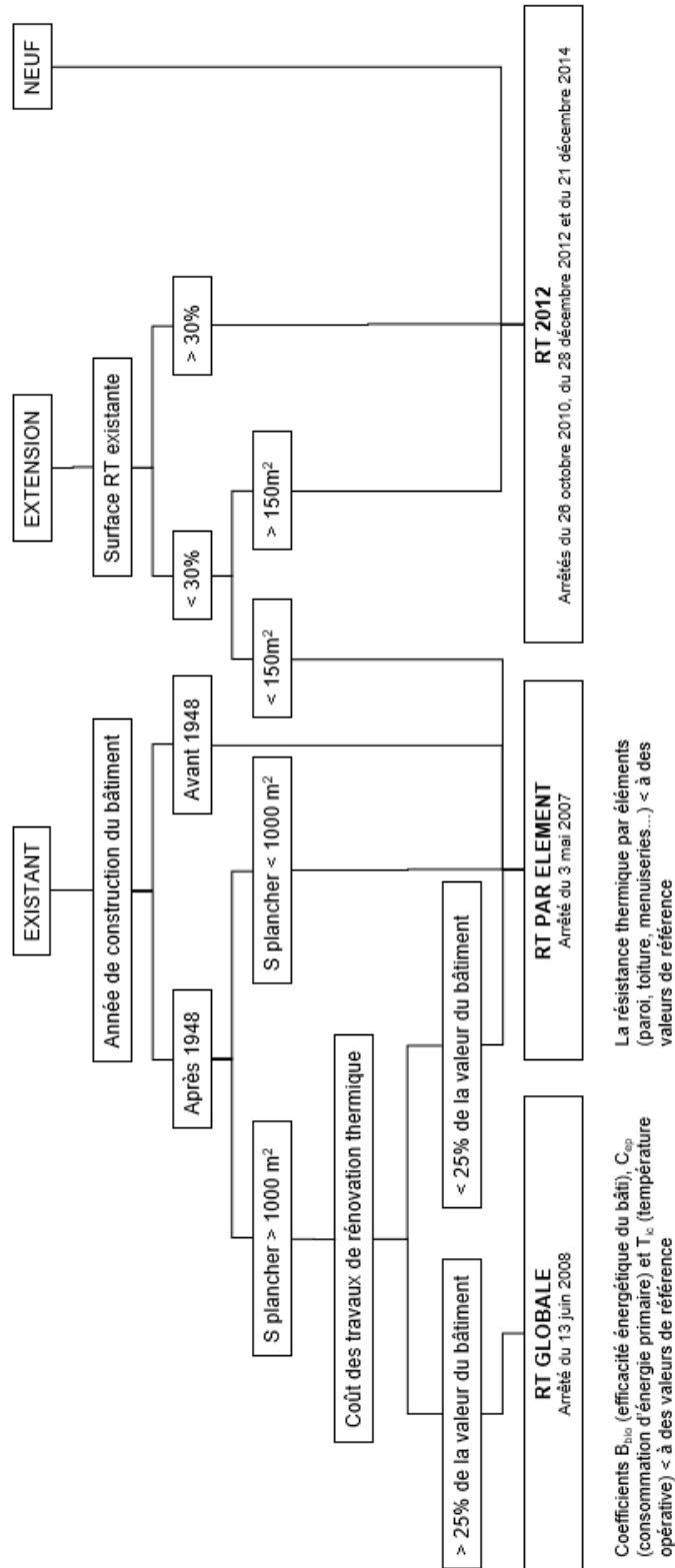
Calculer alors l'économie annuelle réalisée en Euros sachant que le kWh coûte 0,20 €.

Question 1.17 | À partir du DT1, **conclure** sur le respect des exigences quant aux choix de la technologie retenue pour l'éclairage et pour sa gestion.

DT1 : diagramme des exigences



DT2 : organigramme d'application de la réglementation thermique



DT3 : RT globale, critères à satisfaire

La méthode de calcul Th-BCE 2012 est une méthode de calcul réglementaire définie par le centre scientifique et technique du bâtiment. Elle est utilisée obligatoirement pour toute étude thermique de bâtiments soumis à la RT2012. La méthode se base sur un modèle horaire d'occupation du bâtiment et des données climatiques locales. La RT 2012 s'articule autour de trois exigences principales.

- Le besoin bioclimatique Bbio caractérise l'efficacité énergétique du bâti. Le Bbio vise à réduire la consommation de chauffage, de rafraîchissement et d'éclairage artificiel du bâtiment en optimisant sa conception. Le coefficient Ubât permet d'évaluer le niveau d'isolation global du bâtiment.
- La consommation d'énergie primaire Cep, exprimée en kWh_{ep}·m⁻², représente les consommations d'énergie primaire en chauffage, climatisation, ventilation, éclairage, eau chaude sanitaire et auxiliaires du bâtiment. La Cep du projet doit être au moins inférieure de 30 % à la Cep initiale et inférieure à une Cep de référence préconisée par le moteur de calcul.
- La température opérative maximale Tic est calculée en période d'occupation pour un jour chaud. La Tic du projet doit être inférieure à la Tic de référence préconisée par le moteur de calcul.

Des performances minimales (des garde-fous) sont également requises pour une série de composants (isolation, ventilation, système de chauffage...).

DT4 : RT globale, résultats des études thermiques

Scénario n°1 : réfection de l'isolation des murs extérieurs et de la toiture, et remplacement des menuiseries.

Conformité du bâtiment selon le moteur : 1.0.3

Condition	Satisfaite	Bâtiment	Usage	SHONinit (m²)	SHONproj. (m²)	Surf. utile (m²)
Cepproj <= 0,7xCepi	OUI	OBJECTIF -30%	non résidentiel	1496.00	1496.00	1496.00
Cepprojet <= Cepréf	NON	UBâtinit (W/m².K)	UBâtproj (W/m².K)	UBâtréf (W/m².K)	UBâtbase (W/m².K)	UBâtmax (W/m².K)
UBât <= Ubâtmax	OUI	1.239	0.576	0.623	0.623	0.934
Garde-fous conformes	OUI	Cepinit (Kwep/m²)	Cepproj (Kwep/m²)	Cepréf (Kwep/m²)	Cep_p (Kwep/m²)	Cepmax (Kwep/m²)
Tic conforme	OUI	253.69	171.04	144.26	-	-
		Gain Cepproj/Cepinit	Gain Cepproj/Cepréf	Gain Cep_p/Cepmax	Gain UBât/UBâtréf	Gain UBât/UBâtmax
Bâtiment non conforme		32.58 %	-18.57 %	-	7.48 %	38.32 %

Comparatif des consommations en énergie primaire (kWh/m²)

	Chauffage	Refroid.	ECS	Ventil.	Aux.	Eclair.	PhotoV.	Total
initial	188.176	0.000	17.209	1.719	1.292	45.291	0.000	253.687
projet	124.334	0.000	17.209	1.125	0.677	27.699	0.000	171.044
référence	81.688	0.000	16.571	14.193	1.383	30.424	0.000	144.260

Scénario n°2 : réfection de l'isolation des murs extérieurs et de la toiture, remplacement des menuiseries, installation d'une VMC double flux et remplacement des systèmes d'éclairage.

Conformité du bâtiment selon le moteur : 1.0.3

Condition	Satisfaite	Bâtiment	Usage	SHONinit (m²)	SHONproj. (m²)	Surf. utile (m²)
Cepproj <= 0,7xCepi	OUI	OBJECTIF -50%	non résidentiel	1496.00	1496.00	1496.00
Cepprojet <= Cepréf	OUI	UBâtinit (W/m².K)	UBâtproj (W/m².K)	UBâtréf (W/m².K)	UBâtbase (W/m².K)	UBâtmax (W/m².K)
UBât <= Ubâtmax	OUI	1.239	0.576	0.623	0.623	0.934
Garde-fous conformes	OUI	Cepinit (Kwep/m²)	Cepproj (Kwep/m²)	Cepréf (Kwep/m²)	Cep_p (Kwep/m²)	Cepmax (Kwep/m²)
Tic conforme	OUI	253.69	99.43	133.47	-	-
		Gain Cepproj/Cepinit	Gain Cepproj/Cepréf	Gain Cep_p/Cepmax	Gain UBât/UBâtréf	Gain UBât/UBâtmax
Bâtiment conforme		60.81 %	25.50 %	-	7.48 %	38.32 %

Comparatif des consommations en énergie primaire (kWh/m²)

	Chauffage	Refroid.	ECS	Ventil.	Aux.	Eclair.	PhotoV.	Total
initial	188.176	0.000	17.209	1.719	1.292	45.291	0.000	253.687
projet	53.841	0.000	17.209	5.902	0.559	21.915	0.000	99.427
référence	72.368	0.000	16.571	12.766	1.388	30.424	0.000	133.467

DT5 : extrait de la réglementation thermique RT 2012

La réglementation thermique RT 2012 spécifie pour les bâtiments neufs une consommation maximale de $50\text{kWh.m}^{-2}.\text{an}^{-1}$ (à moduler suivant les régions) et une isolation respectant des valeurs seuils minimales pour chaque élément. Le tableau ci-dessous récapitule ces valeurs :

Élément	Valeur R par élément (pour une construction neuve et bénéficiaire d'un crédit d'impôt)	Valeur R par élément (pour une rénovation)
<i>Combles perdus</i>	$R \geq 7.0$	$R \geq 4.5$
<i>Combles aménagés</i>	$R \geq 6.0$	$R \geq 4.0$
<i>Murs</i>	$R \geq 3.7$	$R \geq 2.3^{**}$
<i>Planchers</i>	$R \geq 3.0$	$R \geq 2.3^{***}$
<i>Toiture-terrasse</i>	$R \geq 4.5$	$R \geq 2.5$

** cette valeur dépend du type de mur

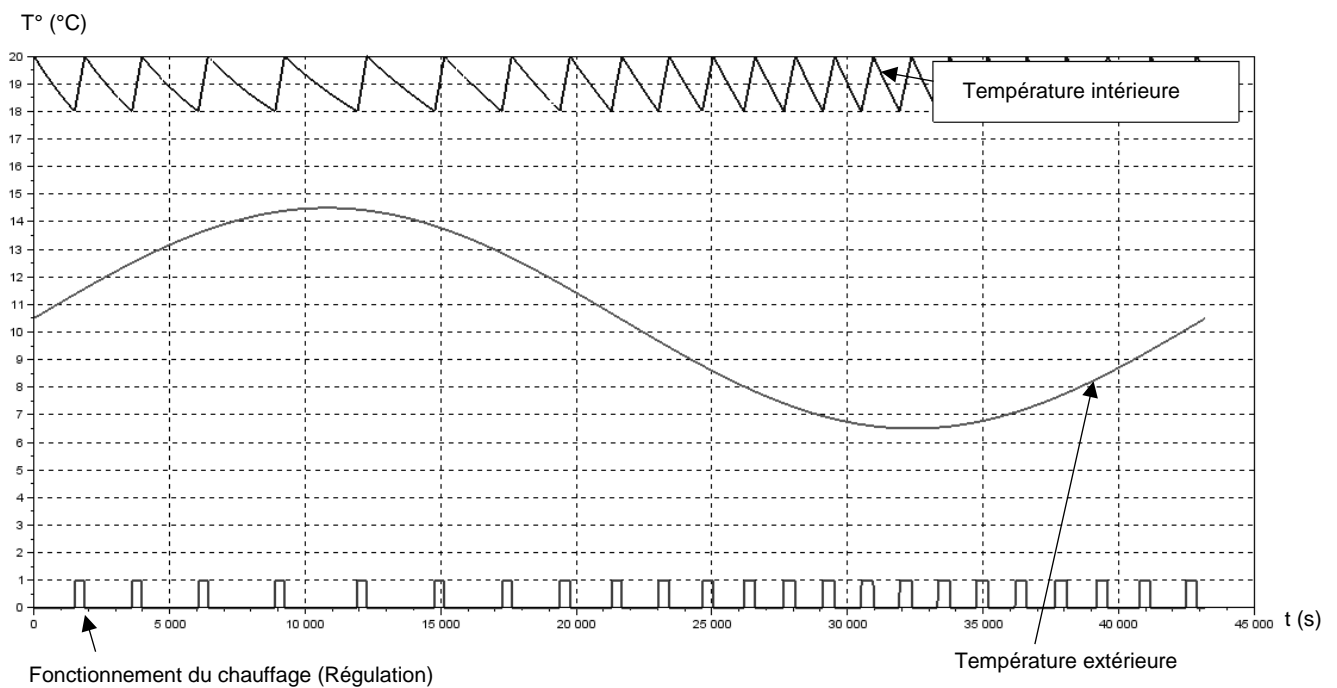
*** cette valeur dépend du type de plancher

DT6 : simulation des variations de la température intérieure et de la régulation du chauffage

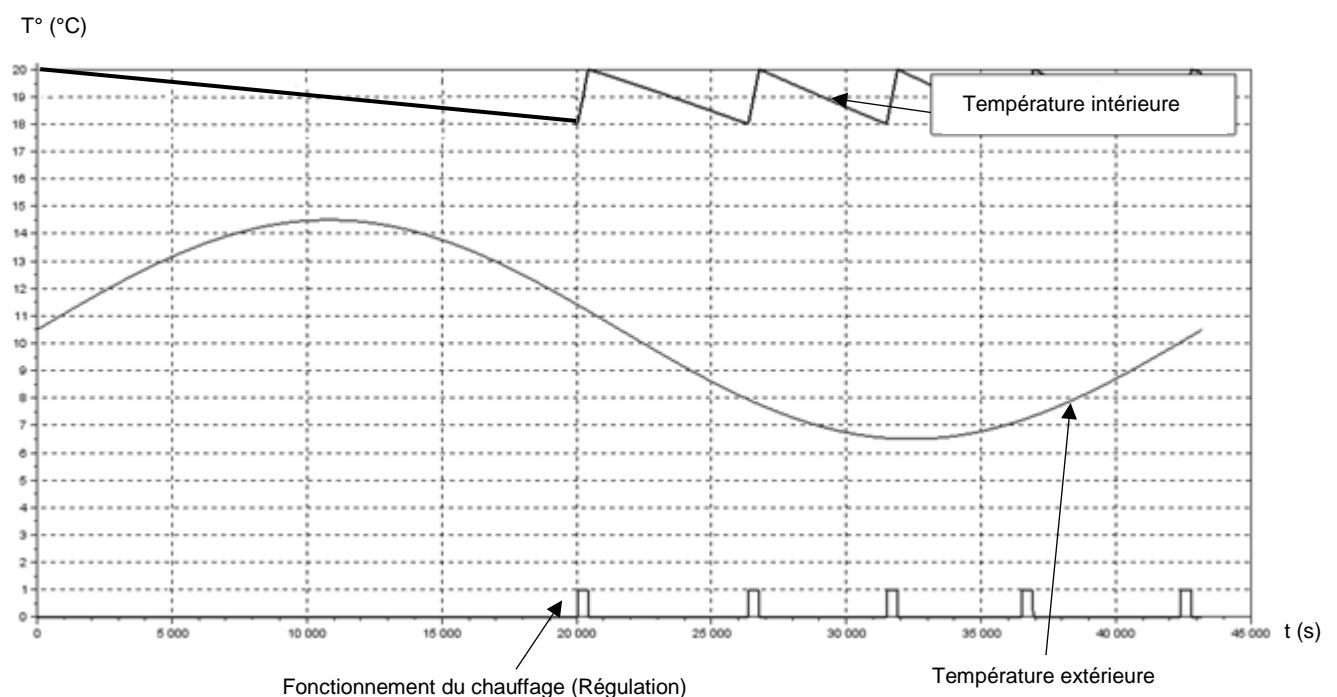
Les simulations ci-dessous sont obtenues pour une variation de la température extérieure comprise entre 6,5°C et 14,5°C : températures moyennes minimales et maximales de la région en hiver.

Les résultats ont été obtenus sur une période de 12 h. Le chauffage fonctionne en moyenne 305s par impulsion.

Simulation de la régulation de chauffage avant rénovation :




Simulation de la régulation de chauffage après rénovation :




DT7 : caractéristiques de deux panneaux sandwichs

Définition de l'unité fonctionnelle (UF) : étude réalisée pour 1 m² de paroi verticale pendant 50 ans en assurant les performances prescrites du produit (données environnementales des produits – base INIES ou données fabricant).

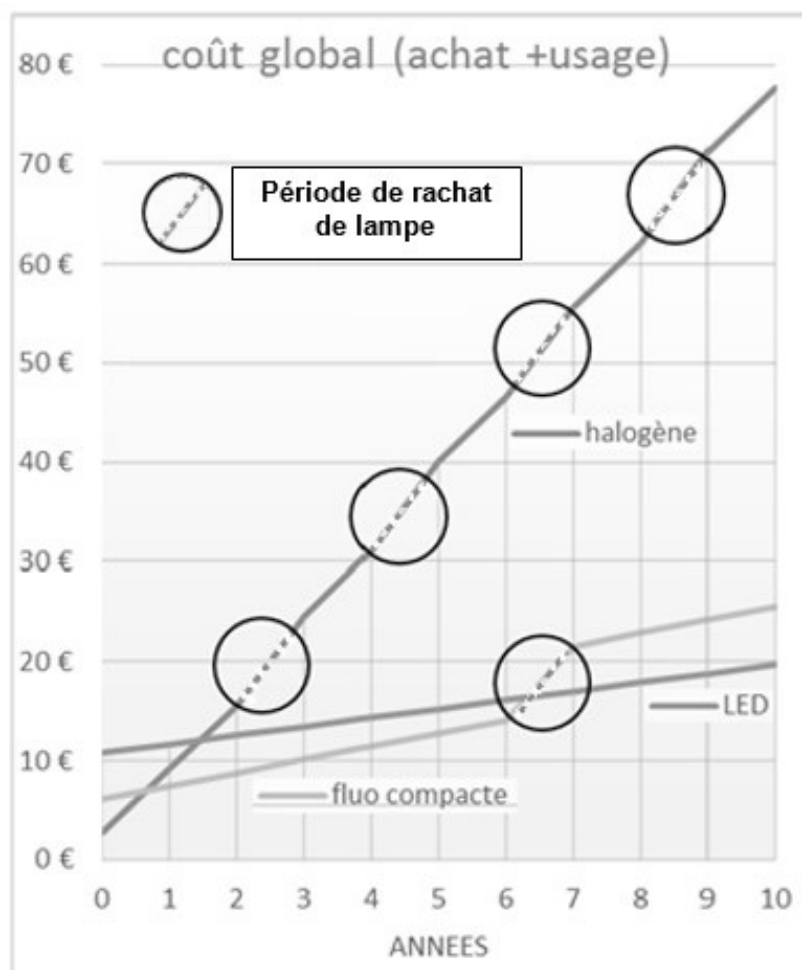
Panneau sandwich de bardage avec une âme laine de roche et deux parements acier

 <p>Conductivité thermique : λ de 0,043 W·m⁻¹·K⁻¹</p> <p>Masse surfacique : 19,5 kg·m⁻²</p>	Impact environnemental	Unité	Valeur sur UF	
	Consommation ressources énergétiques primaires totales	MJ	1021,7	
	Épuisement des ressources	kg éq Sb	9,4.10 ⁻⁶	
	Consommation d'eau	m ³	5,5.10 ⁻¹	
	Déchets	kg	Dangereux	3,2.10 ⁻²
			Non dangereux	26,3
			Radioactifs	3,4.10 ⁻³
	Changement climatique	kg éq CO ₂	47,7	
	Acidification	kg éq SO ₂	2,2.10 ⁻¹	
	Pollution de l'air	m ³	5250	
	Pollution de l'eau	m ³	5,7	
	Appauvrissement de la couche d'ozone	kg éq CFC-11	4,8.10 ⁻⁶	
	Formation d'ozone photochimique	kg éq C ₂ H ₄	2,6.10 ⁻²	
	Eutrophisation	kg éq PO ₄ ³⁻	2,4.10 ⁻²	

Panneau sandwich de bardage en mousse rigide et deux parements aluminium

 <p>Conductivité thermique : λ de 0,022 W·m⁻¹·K⁻¹</p> <p>Masse surfacique : 4,48 kg·m⁻²</p>	Impact environnemental	Unité	Valeur sur UF	
	Consommation ressources énergétiques primaires totales	MJ	149,17	
	Épuisement des ressources	kg éq Sb	9,48.10 ⁻⁵	
	Consommation d'eau	m ³	5,77.10 ⁻¹	
	Déchets	kg	Dangereux	7,43.10 ⁻¹
			Non dangereux	1,34
			radioactifs	2,75.10 ⁻³
	Changement climatique	kg éq CO ₂	6,99	
	Acidification	kg éq SO ₂	8,75.10 ⁻³	
	Pollution de l'air	m ³	798	
	Pollution de l'eau	m ³	5,19	
	Appauvrissement de la couche d'ozone	kg éq CFC-11	4,33.10 ⁻⁶	
	Formation d'ozone photochimique	kg éq C ₂ H ₄	2,12.10 ⁻³	
	Eutrophisation	kg éq PO ₄ ³⁻	3,11.10 ⁻³	

DT8 : calcul des coûts d'utilisation de lampe



Calcul des coûts d'utilisation de lampes LED (DEL) de 6 watt, équivalente aux anciennes lampes de 60 Watt – Source ADEME (Agence de l'Environnement et de la Maîtrise de l'Energie)

CoreLine Downlight

DN140B LED20S/840 PSD-E WR

Coreline Downlight Gen4 - 840 blanc neutre - Alimentation avec interface DALI - Réflecteur blanc - Connecteur à poussoir et soulagement de traction - Protection des doigts



Données du produit

Caractéristiques générales	
Angle d'ouverture du faisceau de lumière	120 °
Température de couleur	840 blanc neutre
Source lumineuse de substitution	Non
Nombre d'unités d'appareillage	1 unit
Driver/alimentation/transformateur	PSD [Alimentation avec interface DALI]
Driver inclus	Oui
Type d'optique	WR [Réflecteur blanc]
Faisceau du luminaire	90°
Interface de commande	DALI

« Evaluer les performances des luminaires LED - janvier 2018 », statistiquement, il n'existe aucune différence significative de maintien du flux lumineux entre B50 et, par exemple, B10. La valeur de la durée de vie utile moyenne (B50) représente donc également la valeur B10.

Flux lumineux constant	Non
Nombre de produits par disjoncteur de 16 A type B	24
Conforme à la directive RoHS UE	Oui
Service Tag	Oui
Code de la famille de produits	DN140B [Coreline Downlight Gen4]
Score taux d'éblouissement CEN	25

Caractéristiques électriques	
Tension d'entrée	220-240 V
Fréquence d'entrée	50 à 60 Hz
Consommation électrique de CLO initiale	- W
Consommation électrique de CLO moyenne	- W
Fin de la consommation électrique CLO	- W
Courant d'appel	20,4 A
Temps du courant d'appel	0,195 ms
Facteur de puissance (min.)	0,95

Gestion et gradation	
avec gradation	Oui

Connexion	Connecteur à poussoir et soulagement de traction
Câble	Non
Classe de protection CEI	Classe de sécurité I
Essai au fil incandescent	Température 850 °C, durée 5 s
Essai au fil incandescent	F [conçus pour des surfaces normalement inflammables]
Marquage CE	Marquage CE
Marquage ENEC	Non
Garantie	5 ans
Remarques	*-Conformément au document d'orientation de Lighting Europe

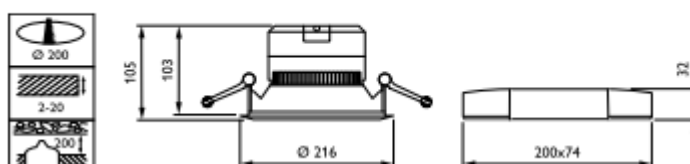
Dimensions (hauteur x largeur x profondeur)	108 x 0 x 0 mm (4.3 x 0 x 0 in)
---	---------------------------------

Normes et recommandations	
Code d'indice de protection	IP20 [Protection des doigts]
Code de protection contre les chocs mécaniques	IK02 [0.2 J standard]
Notation de durabilité	-

Performances initiales (conforme IEC)	
Flux lumineux initial	2200 lm
Tolérance du flux lumineux	+/-10%
Efficacité lumineuse à 0h du luminaire LED	107 lm/W
Température de couleur proximale initiale	4000 K
Indice de rendu des couleurs (initial)	≥80
Chromaticité initiale	(0.380,0.377) SDCM55
Puissance initiale absorbée	20 - 5 W
Tolérance de consommation électrique	+/-10%

Durées de vie (conforme IEC)	
Taux de défaillance driver à la durée de vie utile moyenne de 50 000 h	5 %
Maintien du flux lumineux en fin de vie (50 000 h à 25 °C)	L70

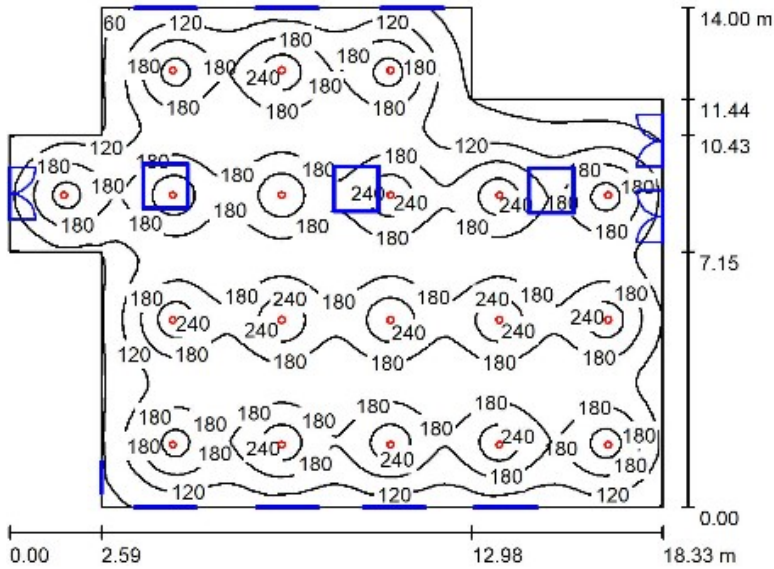
Conditions d'utilisation	
Plage de températures ambiantes	-20 à +40 °C
Performance Température Ambiante Tq	25 °C
Niveau de gradation maximal	1%
Convient à une commutation aléatoire	Oui



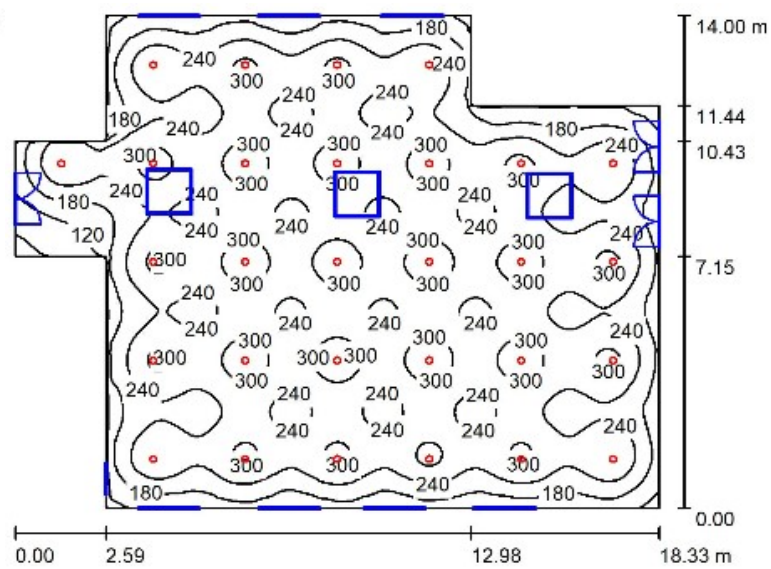
DT10 : simulations avec Dialux

Comparaison en courbes Isolux (valeurs en lux) de quatre implantations en nombres différents du luminaire *Philips CoreLine Downlight* employé dans la salle de jeux.

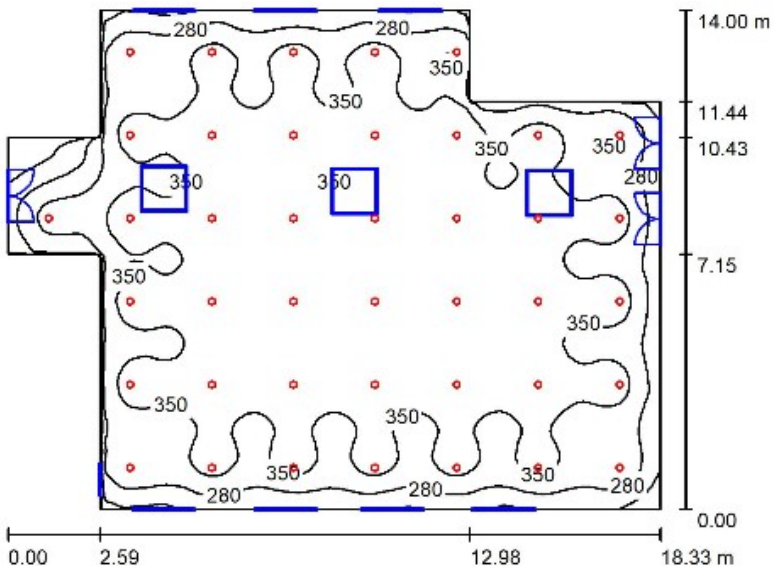
Implantation 1
(19 luminaires)



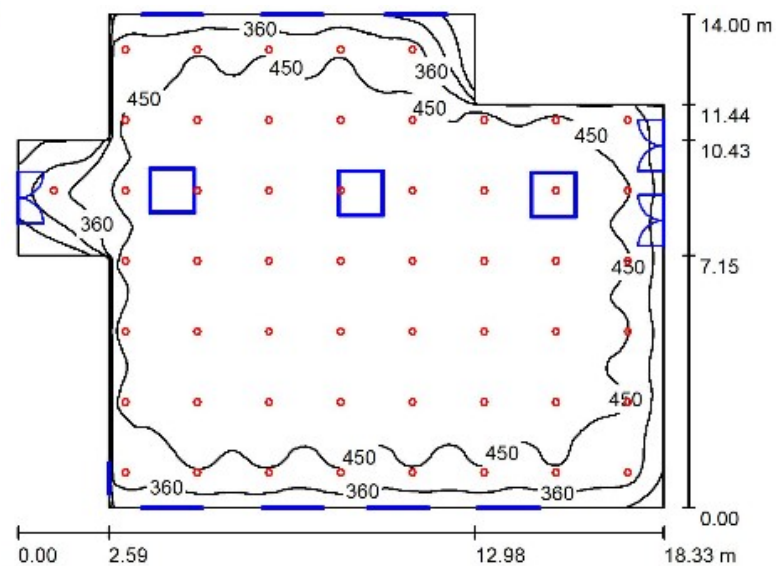
Implantation 2
(29 luminaires)



Implantation 3
(41 luminaires)



Implantation 4
(54 luminaires)



DR1 : caractéristiques thermiques d'une salle de classe

Composition de la paroi verticale existante :

Composants	Épaisseur (m)	Conductivité thermique λ (W·m ⁻¹ ·K ⁻¹)
Béton plein armé	0,20	2,3
Polystyrène expansé	0,05	0,05

Composition de la paroi verticale rénovée :

Composants	Épaisseur (m)	Conductivité thermique λ (W·m ⁻¹ ·K ⁻¹)	Résistance thermique composant (m ² ·K·W ⁻¹)
Ri			0,13
Béton plein armé	0,20	2,3	Q1.4
Polystyrène expansé	0,05	0,05	Q1.4
Panneau sandwich en mousse rigide	0,14	0,022	Q1.4
Lame d'air faiblement ventilée*	0,02		
Vêture brique*	0,1		
Re			0,04
		R _{therm} paroi (m ² ·K·W ⁻¹)	Q1.5

* La lame d'air et le parement brique ne contribuent pas à l'isolation thermique par l'extérieur du fait de la non-étanchéité à l'air de l'ensemble.

Définition :

La résistance thermique globale d'une paroi est notée R_{therm} · [m²·K·W⁻¹]

$$R_{therm} = R_i + \sum \frac{e_{matériau}}{\lambda_{matériau}} + R_e$$

Avec $R_i = 0,13 \text{ m}^2 \cdot \text{K} \cdot \text{W}^{-1}$ et $R_e = 0,04 \text{ m}^2 \cdot \text{K} \cdot \text{W}^{-1}$

Modèle CCYC : ©DNE

NOM DE FAMILLE (naissance) :
(en majuscules)

--	--	--	--	--	--	--	--	--	--	--	--	--	--	--	--	--	--	--	--	--

PRENOM :
(en majuscules)

--	--	--	--	--	--	--	--	--	--	--	--	--	--	--	--	--	--	--	--	--

N° candidat :

--	--	--	--	--	--	--	--	--	--	--

N° d'inscription :

--	--	--

(Les numéros figurent sur la convocation, si besoin demander à un surveillant.)



Liberté • Égalité • Fraternité
RÉPUBLIQUE FRANÇAISE

Né(e) le :

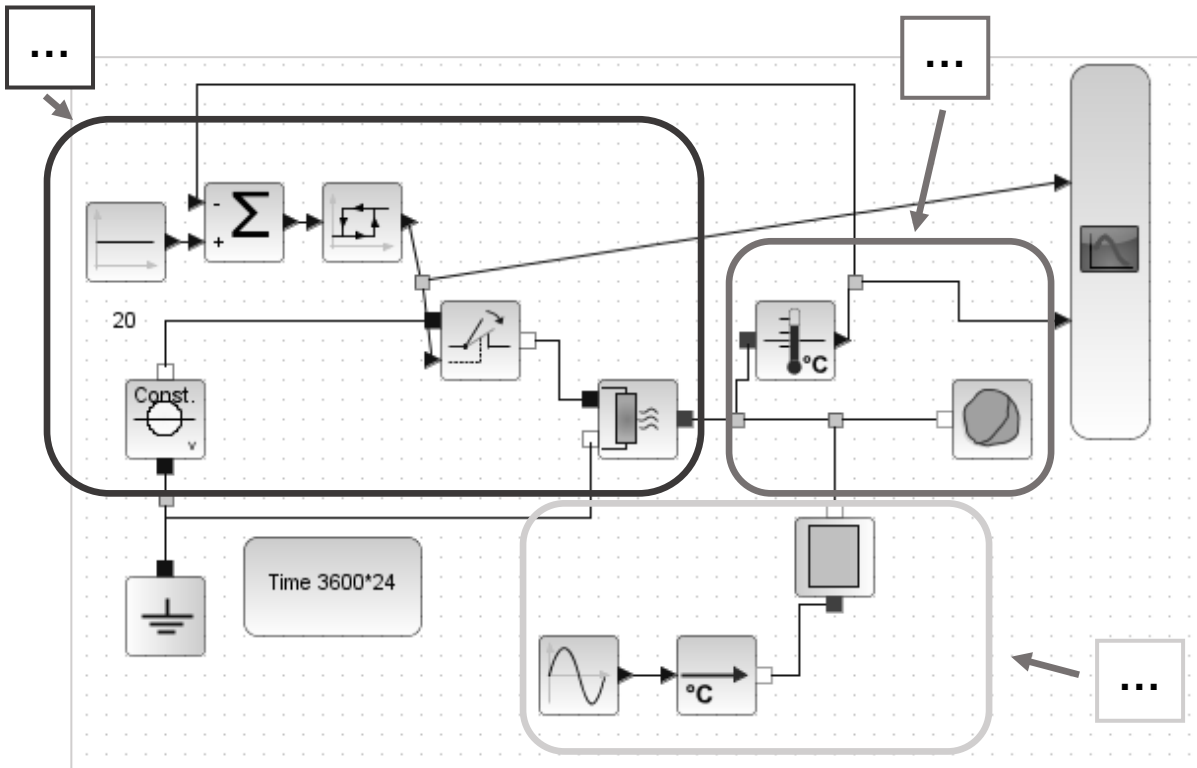
		/			/				
--	--	---	--	--	---	--	--	--	--




Question 1.6

A : déperditions de chaleur à travers la paroi (dépend de la conductivité thermique et de l'épaisseur des matériaux de la paroi) en fonction des variations de température extérieure.

B : modélisation du chauffage et de sa régulation. Le chauffage se déclenche quand la température descend en-dessous de 18°C et s'arrête lorsque la température atteint 20°C.

C : volume de la pièce à chauffer (capacité thermique de l'air de la salle de classe) et mesure de la température intérieure.



Composants	Paramètres	Type de variable (interne ou externe)
	Conductivité thermique de la paroi	Q1.6
	Épaisseur de la paroi	Q1.6
	Variations de la température extérieure	Q1.6
	Variations de la température intérieure	Q1.6

Modèle CCYC : ©DNE

NOM DE FAMILLE (naissance) :
(en majuscules)

--	--	--	--	--	--	--	--	--	--	--	--	--	--	--	--	--	--	--	--	--	--	--	--	--	--	--	--	--

PRENOM :
(en majuscules)

--	--	--	--	--	--	--	--	--	--	--	--	--	--	--	--	--	--	--	--	--	--	--	--	--	--	--	--	--

N° candidat :

--	--	--	--	--	--	--	--	--	--	--	--	--	--


N° d'inscription :

--	--	--

Né(e) le :

--	--	--	--	--	--	--	--	--	--	--	--	--	--	--

(Les numéros figurent sur la convocation, si besoin demander à un surveillant.)



Liberté · Égalité · Fraternité
RÉPUBLIQUE FRANÇAISE

1.2

PARTIE SPÉCIFIQUE (8 points)

SYSTÈMES D'INFORMATION ET NUMÉRIQUE

Gestion de l'éclairage de la salle de jeux avec un bus DALI



- **Présentation de l'étude et questionnement** pages 22 à 26
- **Documents techniques** pages 27 à 33
- **Documents réponses** page 34

Mise en situation

Le support d'étude est la salle de jeux de l'école maternelle Charles de Gaulle (cf. Fig. 1)



Fig. 1 – Vue en plan partiel de la salle de jeu

Travail demandé

PARTIE A : comment acquérir l'information de luminosité pour piloter le système d'éclairage ?

Objectif : définir les constituants permettant l'acquisition et la transmission des données.

DALI (*Digital Addressable Lighting Interface*) est une interface standard. DALI permet de gérer, commander et réguler numériquement une installation d'éclairage par l'intermédiaire d'un bus de communication « deux fils » communément appelé « ligne DALI ».

La salle de jeux de l'école maternelle est divisée en deux parties d'égale superficie correspondant à deux zones DALI. Cette étude portera sur la zone incluant les *skydomes* qui comporte six luminaires. Un gradateur est associé à chaque luminaire.

Question A.1

DTS1
DRS1

À partir du document DTS1, compléter la chaîne d'information sur le DRS1 en précisant pour chaque bloc les constituants associés.

Question A.2
DTS2
DRS2

Compléter le tableau du DRS2, en indiquant à partir du diagramme de séquence du DTS2, les noms, désignations et types des 4 variables utilisées pour le traitement de l'information.

Le capteur permettant l'acquisition de l'information de luminosité est du type photodiode réceptrice BPW21 (Fig. 2). Ce composant a une plage de sensibilité allant de 420 à 675 nm qui est adaptée à la mesure du niveau de lumière visible.

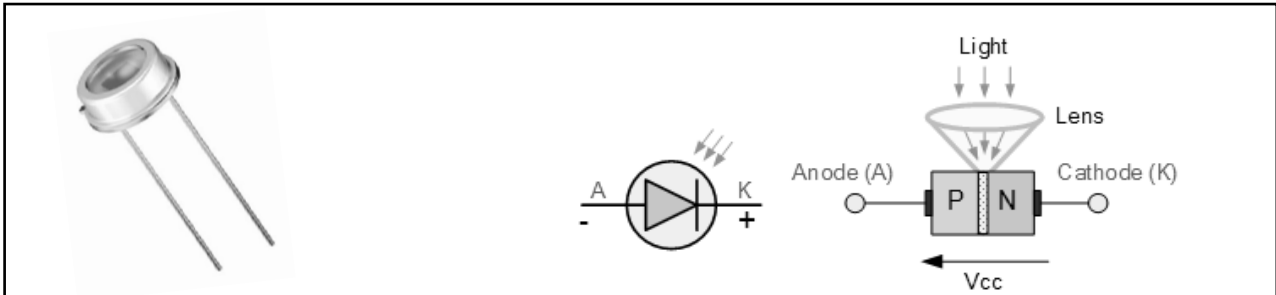


Fig. 2 – Photodiode réceptrice BPW21

Le courant généré I_p en μA est proportionnel à la luminosité E_x en Lux suivant la loi linéaire :

$$I_p = \frac{E_x}{100}$$

Un montage à l'aide d'un amplificateur linéaire intégré permet de convertir l'intensité du courant en tension (Fig. 3).

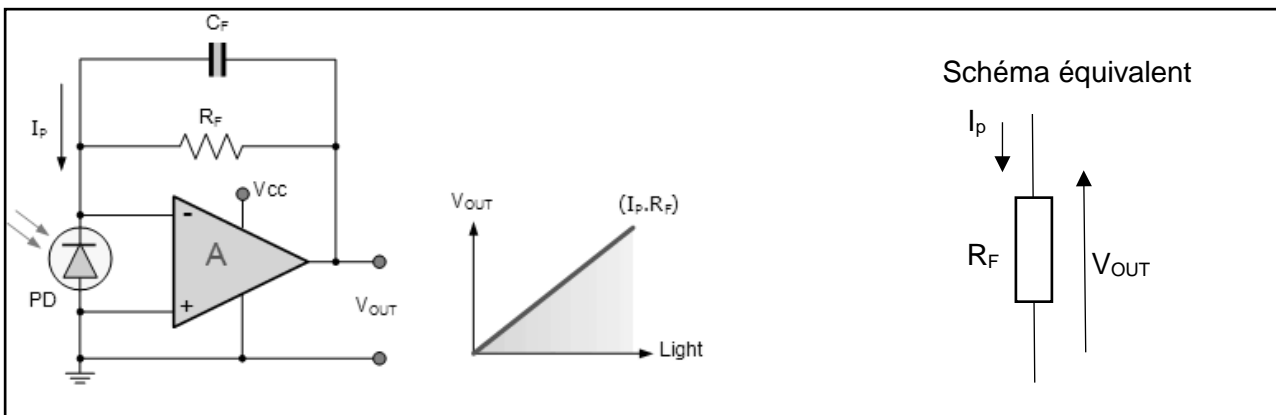


Fig. 3 – Montage amplificateur linéaire intégré

Question A.3

Calculer I_p pour 0 Lux puis pour 1 000 Lux.

Déterminer la valeur de la résistance R_F (en Ω) pour qu'un éclairement de 0 à 1000 Lux induise une tension V_{out} de 0 à 5 volts en utilisant le schéma équivalent.

Le condensateur C_F permet avec R_F de constituer un filtre passe-bas à une fréquence de coupure $F_c = 15$ Hz. **Justifier** la présence de ce filtre.

Pour être traité par un microcontrôleur, le signal analogique issu du capteur de lumière doit être converti en un signal numérique. Le microcontrôleur intègre un convertisseur analogique/numérique (CAN) dont les caractéristiques sont les suivantes (Fig. 4) :

Symbole du CAN

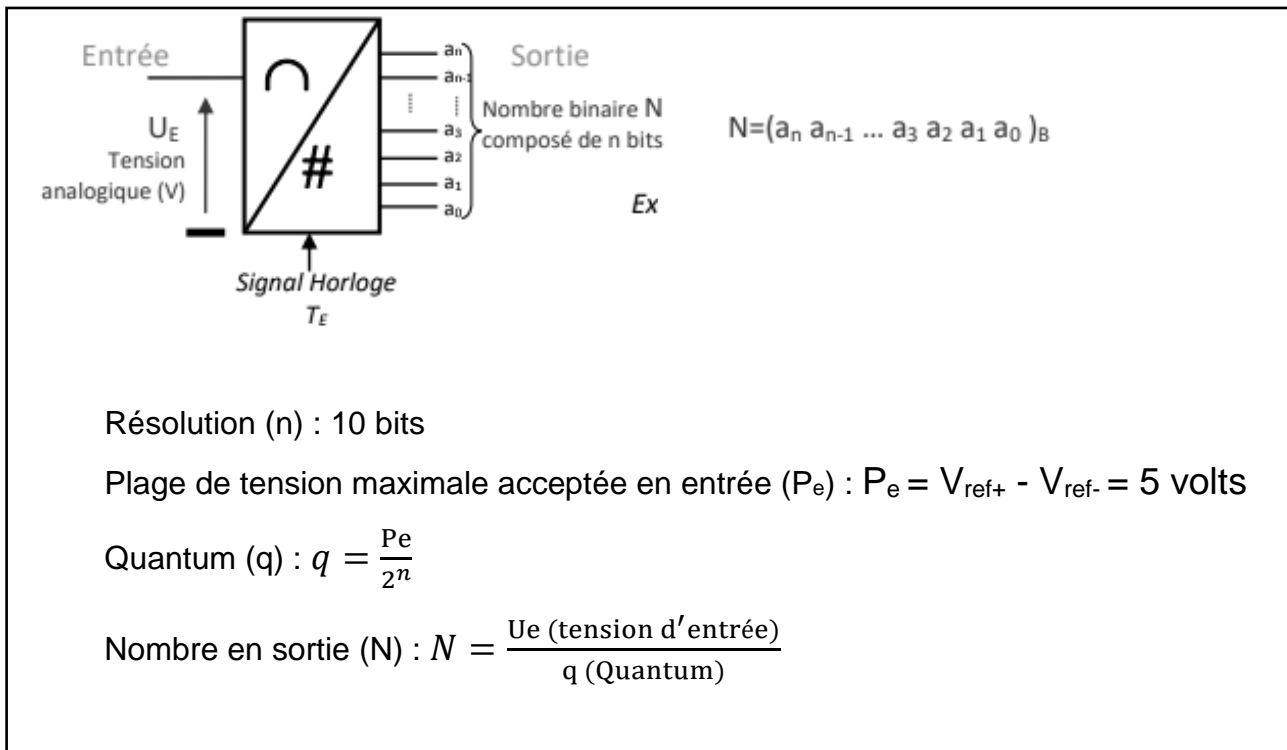


Fig. 4 – Caractéristiques du convertisseur analogique/numérique (CAN)

Nous souhaitons estimer la valeur du mot de sortie du CAN lorsque la luminosité est de 20 Lux (soit $U_e = 100 \text{ mV}$)

- Question A.4 | En vous aidant des caractéristiques du CAN, **déterminer** le nombre de valeurs possibles en sortie pour le nombre (N).
Calculer la valeur du Quantum (q).
Calculer le nombre en sortie (N_{100}) de ce CAN pour une tension U_e de 100 mV.
Convertir ce nombre N_{100} en binaire uniquement pour sa partie entière.

À l'issue de cette acquisition, le contrôleur envoie le mot binaire de commande $(0010110100)_2$ au gradateur DALI. La valeur de ce mot binaire permet de régler le dosage de puissance (en %) d'un luminaire.

- Question A.5 | **Convertir** cette valeur en décimal.
 DTS3 | À partir de la courbe du document technique DTS3, **déterminer** le pourcentage d'éclairage associé.

- Question A.6 | **Conclure** en justifiant le besoin de chaque constituant de la chaîne d'information (acquisition de l'information, conditionnement, conversion, traitement et transmission des données).
 DTS2

PARTIE B : comment piloter le système à distance ?

Objectif : analyser la solution retenue pour piloter le système d'éclairage à distance.

Dans cette partie, on souhaite faire évoluer le système en le rendant pilotable à distance. Pour ce faire, on installera une passerelle Ethernet vers le bus DALI. Cette passerelle sera réalisée par un nano-ordinateur de type Raspberry Pi 4, d'adresse physique 28:47:E6:D5:62:44, muni d'une carte AL DALI HAT, connecté au réseau par un câble Ethernet. Le réseau de l'école est de classe B. Le serveur fournit un service DHCP.

Question B.1
DTS4 | À partir du DTS4, **énumérer** les connexions réseaux possibles de la carte Raspberry Pi.

Question B.2
DTS5 | À partir du DTS5, **déterminer** le nombre de réseaux possibles puis **préciser** le nombre d'hôtes par réseau.

Le service informatique a choisi l'adresse réseau 172.16.0.0 avec un masque de sous-réseaux : 255.255.0.0

Question B.3
DTS4
DTS6 | **Déterminer** la plage des adresses IP disponibles pour les ordinateurs et les équipements pour ce réseau.
À partir des DTS4 et DTS6, **déterminer** l'adresse IP de la carte Raspberry Pi 4 de la passerelle DALI.
Quelle est la particularité de cette adresse ?

La page Web permettant la saisie des seuils d'éclairage, le rendu graphique ... est donnée sur le DTS7. Le *framework* JQuery Mobile a été utilisé pour le codage de la page. Un formulaire de saisie (balise <form>) est utilisé pour envoyer les données. Deux méthodes sont possibles pour envoyer ces données au serveur : la méthode POST ou la méthode GET.

Question B.4
DTS7 | **Identifier** la méthode utilisée pour envoyer les données au serveur dans le code html du DTS7.

Question B.5
DTS7
DTS8

À partir des DTS7 et DTS8, **expliquer** comment sont envoyées les données au serveur.

Indiquer le nom de la page qui sera appelée lors de l'appui sur le bouton « Valider ».

Le nom de domaine du site est : www.serverdali.fr

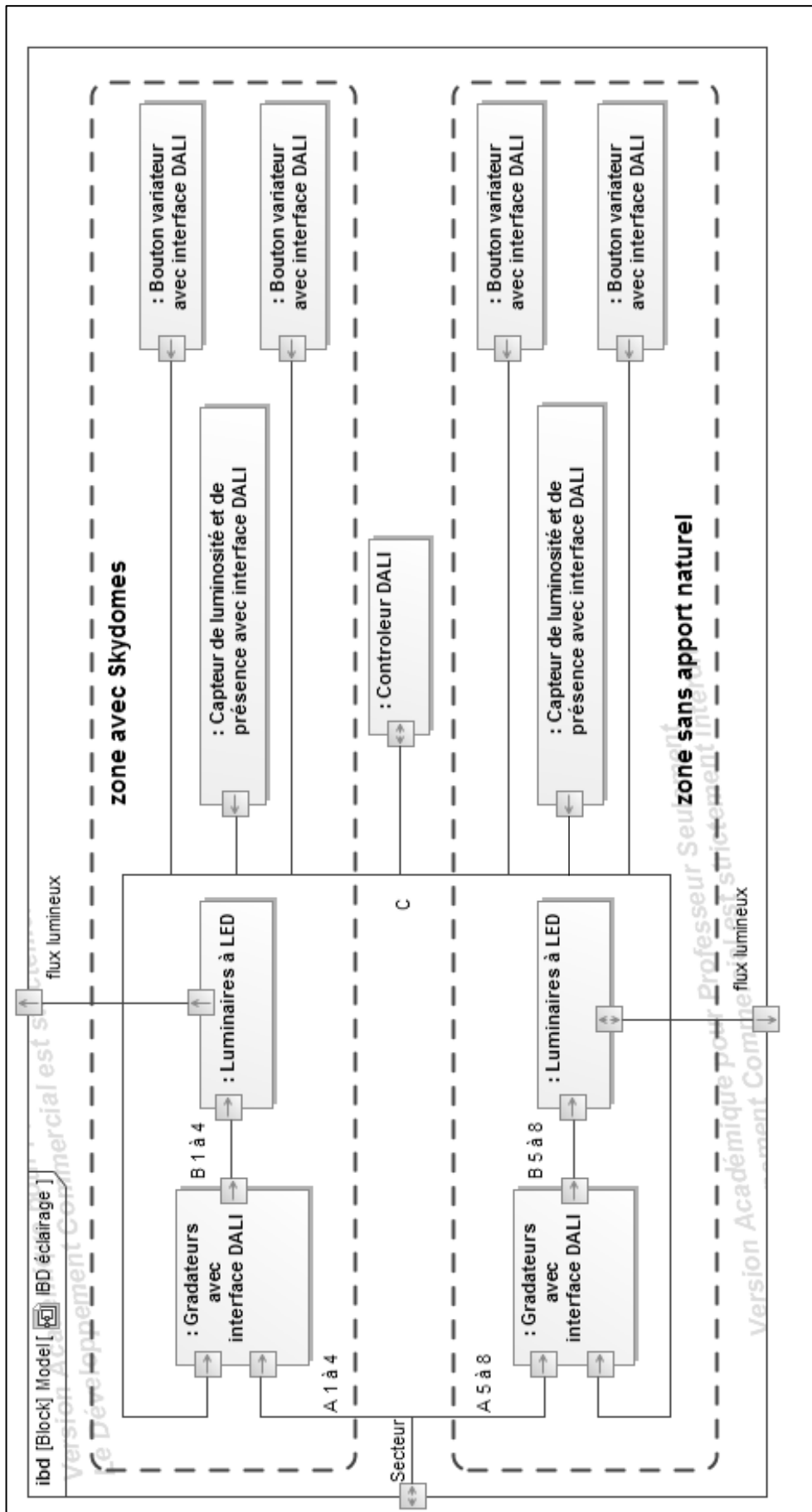
Écrire l'URL qui sera générée lors de l'appui sur le bouton « Valider ».

Écrire l'URL qui sera générée lors de l'appui sur le bouton « Annuler ».

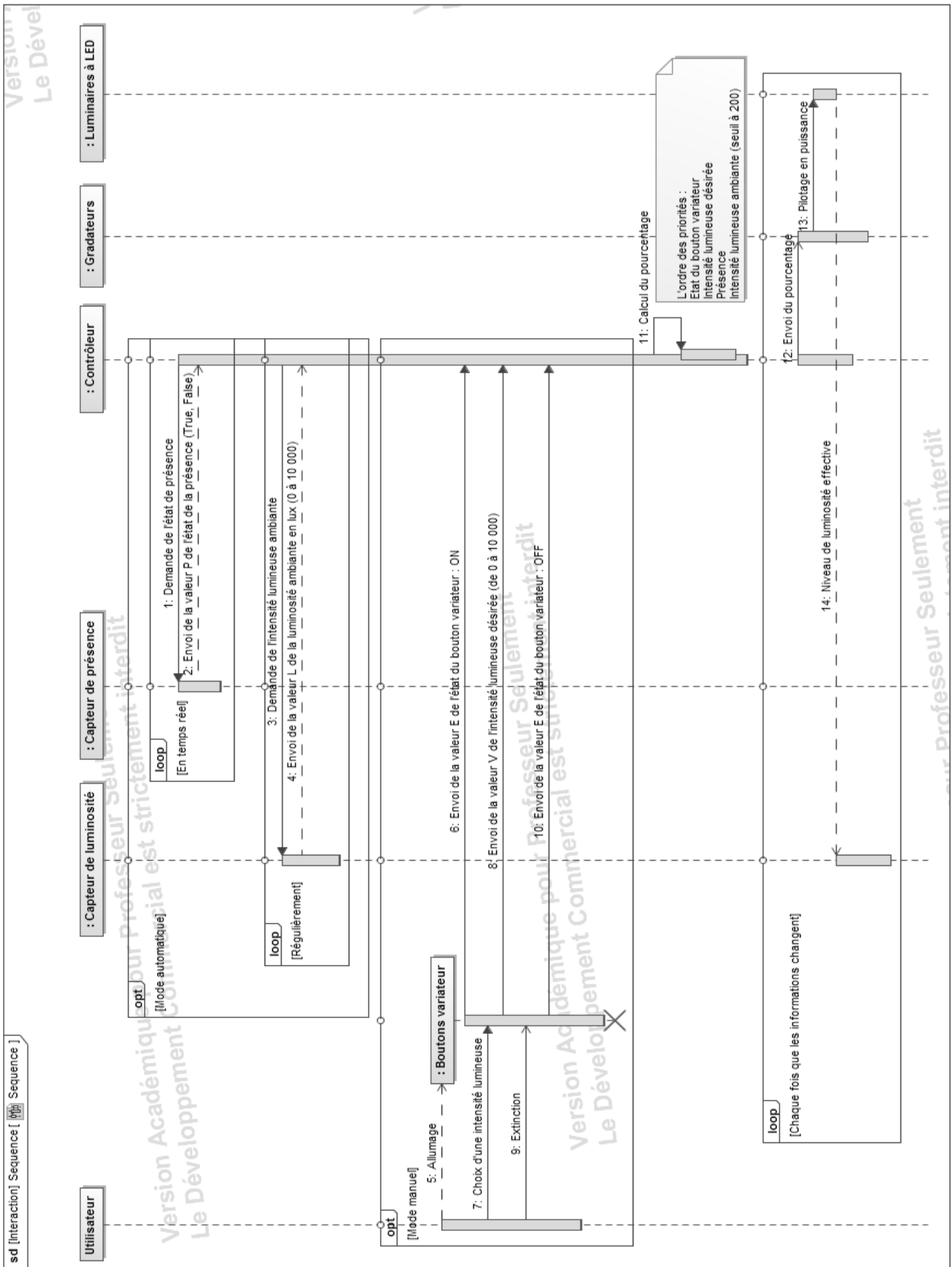
Question B.6

Conclure sur les solutions retenues pour rendre le système pilotable à distance.

DTS1 – Diagramme de blocs internes (IBD) du système DALI.



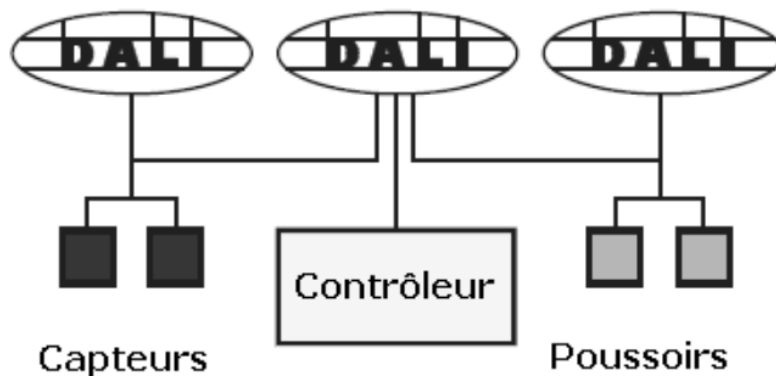
DTS2 – Diagramme de séquence (système DALI).



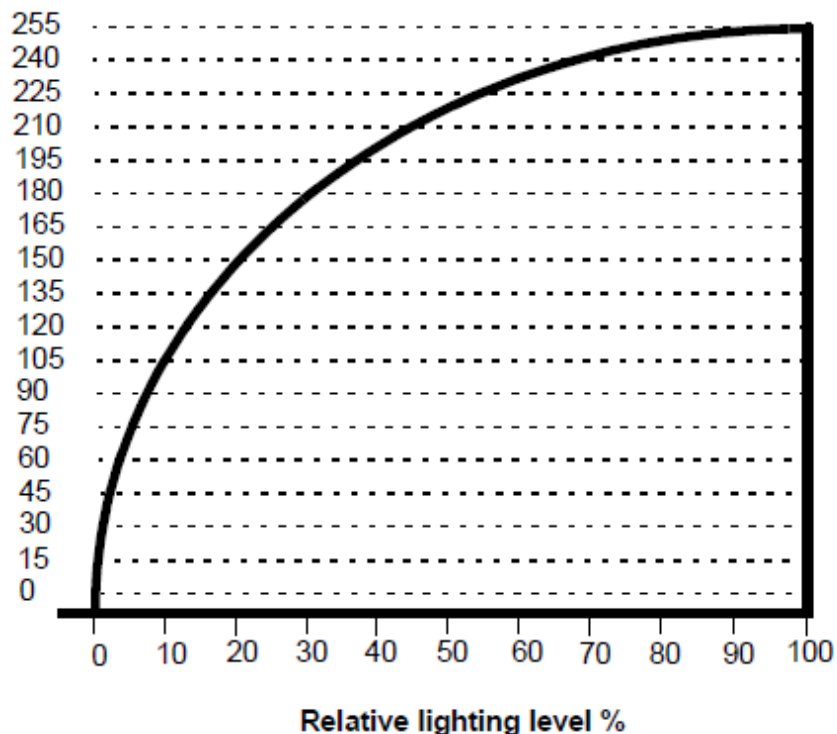
DTS3 – Descriptif du bus « Ligne DALI ».

Pour rappel, le DALI (*Digital Addressable Lighting Interface*) est un **protocole ouvert et standard** (IEC 62386) qui permet de gérer une installation d'éclairage par l'intermédiaire d'un bus de communication à deux fils. La technologie **numérique** utilisée par DALI permet :

- de contrôler individuellement 64 luminaires adressables, pouvant être regroupés pour constituer jusqu'à 16 groupes ;
- de commander précisément l'intensité lumineuse (gradation de 0,1 % à 100 % du flux lumineux par courbe logarithmique) ;
- de mémoriser 16 ambiances d'éclairage (scénarios de commande et de gestion) ;
- de connaître l'état de l'installation : remontées individuelles d'état des lampes.

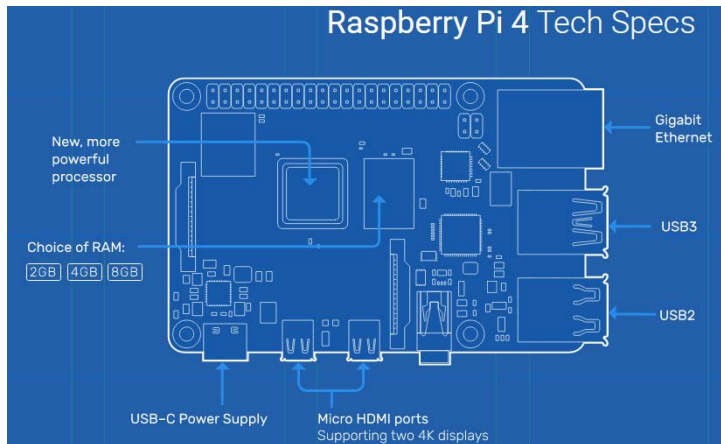


Dim value (Valeur décimale)



Caractéristiques de gradation du bus DALI

DTS4 – Raspberry Pi 4 et AL Dali Hat.



Raspberry Pi4 Specification

- Broadcom BCM2711, Quad core Cortex-A72 (ARM v8) 64-bit SoC @ 1.5GHz
- 1GB, 2GB, 4GB or 8GB LPDDR4-3200 SDRAM (depending on model)
- 2.4 GHz and 5.0 GHz IEEE 802.11ac wireless, Bluetooth 5.0, BLE
- Gigabit Ethernet
- 2 USB 3.0 ports; 2 USB 2.0 ports.
- Raspberry Pi standard 40 pin GPIO header (fully backwards compatible with previous boards)
- 2 × micro-HDMI ports (up to 4kp60 supported)
- 2-lane MIPI DSI display port
- 2-lane MIPI CSI camera port
- 4-pole stereo audio and composite video port
- H.265 (4kp60 decode), H264 (1080p60 decode, 1080p30 encode)
- OpenGL ES 3.1, Vulkan 1.0
- Micro-SD card slot for loading operating system and data storage
- 5V DC via USB-C connector (minimum 3A*)
- 5V DC via GPIO header (minimum 3A*)
- Power over Ethernet (PoE) enabled (requires separate PoE HAT)
- Operating temperature: 0 – 50 degrees C ambient

* A good quality 2.5A power supply can be used if downstream USB peripherals consume less than 500mA in total.

DTS5 – Les classes d’adresses.

Tableau d’espace adressable :

Classe	Masque réseau	Adresses réseau	Nombre de réseaux	Nombre d’hôtes par réseau
A	255.0.0.0	1.0.0.0 - 126.255.255.255	126	16777214
B	255.255.0.0	128.0.0.0 - 191.255.255.255	16384	65534
C	255.255.255.0	192.0.0.0 - 223.255.255.255	2097152	254
D	240.0.0.0	224.0.0.0 - 239.255.255.255	adresses uniques	adresses uniques
E	non défini	240.0.0.0 - 255.255.255.255	adresses uniques	adresses uniques

DTS6 – Extrait des baux du service DHCP du serveur de l’école.

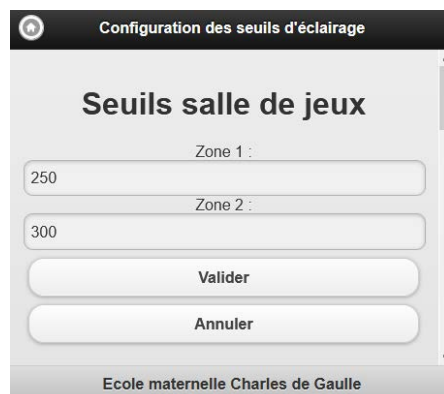
IP Address	Mac Address	Status	Expire Time
172.16.48.25	FC-AA-14-31-D8-C3	Auto	2days,22:56:50
172.16.48.32	55-33-58-EF-B5-F4	Auto	1days,10:23,41
172.16.48.41	28-47-E6-D5-62-44	Static	N/A
172.16.48.120	B8-27-EB-EE-2E-E4	Static	N/A
172.16.48.52	EE-F5-D5-A3-25-41	Auto	3days,11:25:32
...			

DTS7 – Code HTML de la page de réglage et son aperçu.

```
<!doctype html>
<html>
<head>
  <title>Passerelle DALI</title>
  <meta http-equiv="Content-Type" content="text/html"; charset="utf-8"/>
  <meta name="viewport" content="width=device-width, initial-scale=1" />
  <link rel="stylesheet" href="jquery.mobile-1.0.1/jquery.mobile-1.0.1.css" />
  <script src="jquery-1.6.4/jquery-1.6.4.js"></script>
  <script src="jquery.mobile-1.0.1/jquery.mobile-1.0.1.js"></script>
</head>

<body>
  <div data-role="page"> <!-- page -->
    <div data-role="header"> <!-- header -->
      <a href="index.php" data-theme="d" data-icon="home" data-
iconpos="notext">home</a>
      <h1>Configuration des seuils d'éclairage</h1>
    </div><!-- /header -->

    <div align="center" data-role="content"> <!-- content -->
      <h1>Seuils salle de jeux</h1>
      <form method="get" action="save_seuil.php" >
        Zone 1 :
        <input type="text" name="Z1" size="20" maxlength="20">
        Zone 2 :
        <input type="text" name="Z2" size="20" maxlength="30">
        <input type="submit" name="btn" value="Valider">
        <input type="submit" name="btn" value="Annuler">
      </form>
    </div><!-- /content -->
    <div data-role="footer" data-theme="d"> <!-- footer-->
      <h4>Ecole maternelle Charles de Gaulle </h4>
    <div><!-- /footer-->
  </div><!-- /page -->
</body>
</html>
```



The screenshot shows a mobile application interface with a dark header bar containing a back arrow and the text 'Configuration des seuils d'éclairage'. Below the header, the main content area has a title 'Seuils salle de jeux'. There are two input fields: 'Zone 1 :' with the value '250' and 'Zone 2 :' with the value '300'. Below the input fields are two buttons: 'Valider' and 'Annuler'. At the bottom of the screen, there is a footer bar with the text 'Ecole maternelle Charles de Gaulle'.

DTS8 – Balise html <form> et méthode GET.

La méthode GET ajoute les données à l'URL, dans un formulaire, elle est spécifiée ainsi :

```
<form method="GET" action="page.php" >
</form>
```

Avec cette méthode, les données du formulaire seront encodées dans une URL. Celle-ci est composée du nom de la page ou du script à charger avec les données de formulaire empaquetées dans une chaîne. Les données sont séparées de l'adresse de la page par le code ? et entre elles par le code &.

Ainsi, si on appuie sur le bouton OK, on accède à « *page.php* » et les valeurs « couleur bleu » et « forme rectangle » sont transmises dans l'URL :

```
<form method="GET" action="page.php" >
  Couleur <input type="text"
name="couleur" ><br>
  Forme <input type="text"
name="forme" ><br>
  <input type="submit" name="btn"
value="OK" >
</form>
```

Couleur
Forme

L'URL construite par le navigateur sera :

<http://www.monsite.fr/page.php?couleur=Bleu&forme=Rectangle&btn=OK>

La spécification HTML 5 demande que l'on utilise GET quand la requête ne cause pas de changement dans les données, donc opère une simple lecture.

Les données de formulaire doivent être uniquement des codes ASCII. La taille d'une URL est limitée par le serveur, souvent un peu plus de 2000 caractères, en comprenant les codes d'échappement.

PAGE BLANCHE LAISSÉE INTENTIONNELLEMENT.

NE RIEN ÉCRIRE DESSUS

DRS1

Question – Chaîne d'information



DRS2

Nom de la variable	Désignation	Type de variable (booléen, entier, réel, etc.)
.....
.....
.....
.....

Modèle CCYC : ©DNE

NOM DE FAMILLE (naissance) :
(en majuscules)

--	--	--	--	--	--	--	--	--	--	--	--	--	--	--	--	--	--	--	--

PRENOM :
(en majuscules)

--	--	--	--	--	--	--	--	--	--	--	--	--	--	--	--	--	--	--	--

N° candidat :

--	--	--	--	--	--	--	--	--	--

N° d'inscription :

--	--	--



Liberté - Égalité - Fraternité
RÉPUBLIQUE FRANÇAISE

(Les numéros figurent sur la convocation, si besoin demander à un surveillant.)

Né(e) le :

		/			/				
--	--	---	--	--	---	--	--	--	--