

www.freemaths.fr

STI2D

BACCALAURÉAT  
**SUJET**

Bac 212D : EE



POLYNÉSIE  
**2022**

# BACCALAURÉAT TECHNOLOGIQUE

ÉPREUVE D'ENSEIGNEMENT DE SPÉCIALITÉ

SESSION 2022

## SCIENCES ET TECHNOLOGIES DE L'INDUSTRIE ET DU DÉVELOPPEMENT DURABLE

**Ingénierie, innovation et développement durable**

### ÉNERGIES ET ENVIRONNEMENT

Durée de l'épreuve : 4 heures

*L'usage de la calculatrice avec mode examen actif est autorisé.*

*L'usage de la calculatrice sans mémoire, « type collègue » est autorisé.*

Dès que ce sujet vous est remis, assurez-vous qu'il est complet.

Ce sujet comporte 38 pages numérotées de 1/38 à 38/38.

**Constitution du sujet :**

<b>Partie commune (durée indicative 2h30)</b>	12 points
<b>Partie spécifique (durée indicative 1h30)</b>	8 points

**Le candidat traite les 2 parties en suivant les consignes contenues dans le sujet. Ces 2 parties sont indépendantes et peuvent être traitées dans un ordre indifférent.**

**Tous les documents réponses sont à rendre avec la copie.**

**Dans la partie commune, le candidat doit choisir entre traiter la partie 3 (choix 1) ou la partie 5 (choix 2).  
Les parties 1, 2 et 4 sont à traiter obligatoirement.**

## PARTIE COMMUNE (12 points)

# L'hydrogène, vecteur énergétique d'avenir ?



- **Présentation de l'étude et questionnaire**..... pages 3 à 10
- **Documents techniques**..... pages 11 à 24
- **Documents réponses** ..... pages 25 à 26

## Mise en situation



La Poste expérimente en Franche-Comté des véhicules légers à hydrogène, sans émission polluante, spécialement conçus pour s'adapter aux tournées des facteurs.

Ces dix véhicules à quatre roues, appelés **MobyPost**, fonctionnent uniquement avec une pile à combustible et de l'hydrogène, et sont actuellement utilisés par les facteurs des plateformes d'Audincourt (Doubs) et de Lons-le-Saunier (Jura). Ils sont conçus pour ne pas polluer et améliorer les conditions de travail des postiers.

« Nous cherchons à maîtriser la technologie de l'hydrogène pour construire notre réflexion économique du futur : l'autonomie des véhicules électriques normaux est vite limitée, alors que les véhicules à hydrogène peuvent avoir une autonomie prolongée », précise Frédéric DELAVAL, le directeur technique à la Poste, soulignant « l'intérêt économique » de cette nouvelle technologie.

Imagines pour remplacer les deux-roues motorisés des facteurs, les véhicules MobyPost, conçus par un consortium européen, sont munis d'un réservoir à hydrogène très basse pression (3 bars) et d'une pile à combustible qui leur confère une autonomie de 40 à 50 km.

Un système de production d'hydrogène, alimenté en énergie par des panneaux photovoltaïques implantés sur les plateformes d'Audincourt et de Lons-le-Saunier, permet de recharger le réservoir à hydrogène du véhicule. Lorsque ce dernier est en marche, **la pile à combustible** recombine l'hydrogène en électricité pour faire avancer le quadricycle.

Silencieux et ergonomiques, les nouveaux véhicules à quatre roues disposent d'un toit et ont été conçus sans portière pour faciliter la descente des facteurs. Frédéric DELAVAL souligne notamment l'absence de boîte de vitesse pour « réduire les risques de tendinite du genou des facteurs qui font entre 300 et 400 points de distribution par tournée ».

La Poste ambitionne de devenir un acteur majeur de la distribution du courrier en Europe dans les années à venir.

Elle s'est fixée pour objectif de réduire ses émissions de CO<sub>2</sub> de 20 % d'ici 2025.

## Problématique générale : Comment l'entreprise La Poste s'inscrit-elle dans une démarche de développement durable pour son activité de distribution du courrier ?

### Travail demandé

## Partie 1 : Pourquoi utiliser la technologie à hydrogène dans une démarche de développement durable ?

---

Question 1.1 | **Indiquer** quel est l'objectif mondial de réduction du CO<sub>2</sub> à horizon 2050.  
DT1.1 | **Expliquer** en quoi la technologie hydrogène peut permettre à La Poste de réduire ses émissions de CO<sub>2</sub>.  
Mise en situation

Question 1.2 | **Relever** la demande mondiale en hydrogène pur dédiée à la mobilité à l'horizon 2050 et **calculer** sa proportion par rapport à la demande mondiale toutes applications confondues.  
DT1.2

En comparaison avec un gisement de charbon ou de pétrole, il n'y a pas de mine d'hydrogène : l'hydrogène doit être fabriqué. Il faut pour cela une matière première et une source d'énergie : la production d'hydrogène commence toujours par une consommation d'énergie.

Question 1.3 | À partir du document technique, **lister** les sources d'énergie possibles de production d'hydrogène.  
DT1.3 | **Expliquer** quel est l'inconvénient à utiliser une énergie primaire de type carbonée.

## Partie 2 : Quels sont les éléments à prendre en compte pour satisfaire le déploiement de la technologie hydrogène de l'entreprise La Poste ?

---

Dans le cadre du déploiement de la technologie hydrogène, l'entreprise La Poste a dû installer des infrastructures de production d'hydrogène sur les plateformes d'Audincourt et de Lons-le-Saunier. La production d'hydrogène sur place a été retenue et les plateformes ont été équipées de stations MAHYTEC.

Question 2.1 | **Identifier** les deux technologies de stockage de l'hydrogène que propose la société qui a fabriqué la station MAHYTEC de production d'hydrogène.  
DT1.4

Question 2.2 | Pour chaque technologie, **relever** le volume de stockage disponible et la pression de chaque réservoir.  
DT1.5

Question 2.3 | **Identifier** l'équipement permettant de produire de l'hydrogène à l'intérieur de la station MAHYTEC.  
DT1.5

**Partie 3 (choix 1) : Quel est le rendement de la chaîne d'hydrogène « Power-to-H2-to-Power » ?**

Le vecteur hydrogène est l'une des solutions de stockage et d'utilisation de l'énergie envisagée pour accompagner la transition énergétique. [...]

On dénomme « Power-to-H2-to-Power » le fait de recourir à l'hydrogène pour stocker momentanément de l'électricité lors de la production, pour en restituer en phase d'usage. Or, la question de l'efficacité de cette chaîne est régulièrement posée, la production puis l'utilisation de l'hydrogène supposant en effet une succession de transformations et donc des pertes énergétiques.

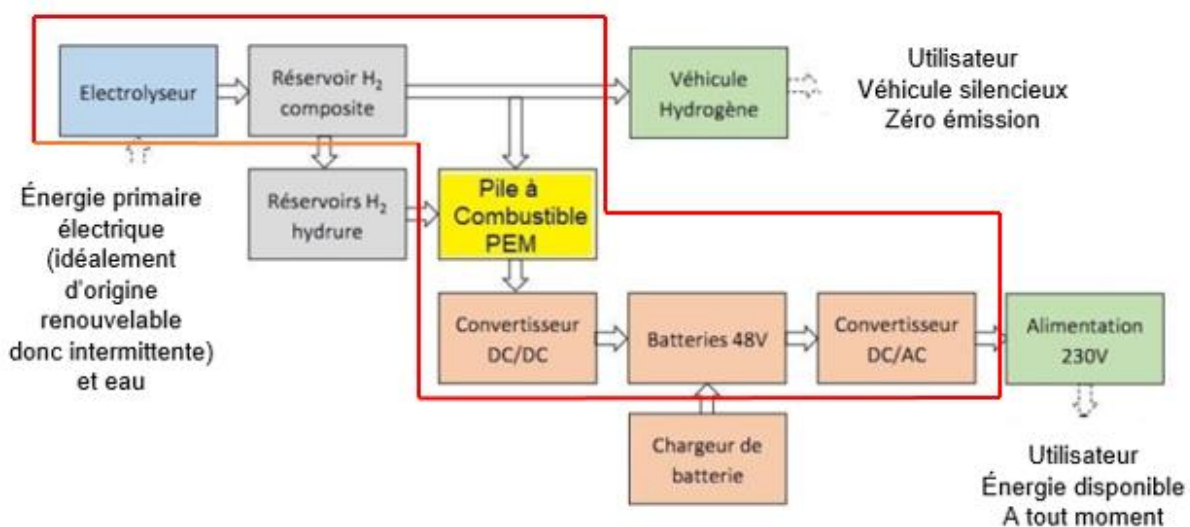
Cette question du rendement est parfois même posée comme controversée, dans un débat opposant frontalement le stockage par batterie - réputé avoir un meilleur rendement [de l'ordre de 70 %] - au vecteur hydrogène, jusqu'à la disqualification de celui-ci. [...]

Les méthodes d'analyse d'impact environnemental incitent à considérer l'impact d'un service rendu, et pas uniquement d'un système technique. [...]

Plus que concurrentes, les solutions de stockage batterie et hydrogène sont complémentaires et leur hybridation peut apporter de la flexibilité. Pour les systèmes électriques isolés, l'insertion de la chaîne hydrogène dans un système électrique peut même améliorer son rendement vis-à-vis d'un système tout batterie. Cela traduit le fait que le stockage batterie présente des limites en termes de capacité de stockage, et que l'introduction d'une chaîne hydrogène permet d'éviter une perte conséquente d'énergie primaire. [...]

Source : document technique produit par l'ADEME – Agence de l'environnement et de la maîtrise de l'énergie intitulé « Rendement de la chaîne hydrogène cas du « Power-to H2-to Power »

Cadre d'étude de la partie 3 : schéma synoptique du système



La pile à combustible PEM présente dans la station est un système qui permet de convertir en électricité de l'hydrogène qui est déjà stocké dans le réservoir composite ou dans les réservoirs à hydrure. Pour cela, l'oxygène de l'air est mis en réaction avec l'hydrogène afin de former des molécules d'eau et ainsi, profiter de l'énergie libérée par la réaction pour produire de l'électricité.

Détermination des pertes des différents constituants de la chaîne « Power-to H2-to Power »

Question 3.1  
DT1.6 | **Relever** sur la fiche technique de l'électrolyseur HyProvide P1 la capacité de production de l'hydrogène et la puissance de l'équipement et **déduire** l'énergie nécessaire à son fonctionnement durant 1 heure.  
**Déterminer** ensuite l'énergie électrique  $E_{\text{électrolyseur}}$  nécessaire afin d'obtenir 1 kg d'hydrogène exprimée en kW·h/kgH<sub>2</sub>.

Question 3.2  
DR1.1 | On supposera dans la suite de l'étude que l'énergie nécessaire au fonctionnement de l'électrolyseur est  $E_{\text{électrolyseur}} = 61,2 \text{ kW}\cdot\text{h}/\text{kgH}_2$ . On estime les pertes liées au détendeur situé en sortie de l'électrolyseur à 0,7 kW·h/kgH<sub>2</sub>.  
**Reporter**, dans les cadres prévus à cet effet, ces deux valeurs dans le diagramme de Sankey.

Question 3.3  
DT1.7  
DR1.1 | **Relever** sur la fiche technique de la pile à combustible AIRCELL 1000 ACS la consommation d'H<sub>2</sub> nécessaire à la production d'un kW·h d'électricité, on la notera  $C_{\text{PAC}}$  exprimée en gH<sub>2</sub>/kW·h.  
**Exprimer** cette valeur en kgH<sub>2</sub>/kW·h et **déduire** la production d'énergie par kg d'hydrogène consommé en kW·h/kgH<sub>2</sub> que l'on notera  $E_{\text{PAC}}$ .  
**Reporter** cette valeur sur le diagramme de Sankey.

Question 3.4  
DT1.8  
DR1.1 | **Relever** le rendement de la pile à combustible (PàC) à 100 % de la puissance nominale et **vérifier** que les pertes sont de 14,2 kW·h.  
**Reporter** cette valeur sur le diagramme de Sankey.

Détermination du rendement global de la chaîne d'hydrogène

Dans la majorité des utilisations actuelles de l'hydrogène comme vecteur énergétique, le système est couplé avec une batterie. La nécessaire compatibilité du bus DC avec le voltage des deux équipements demande l'utilisation d'un convertisseur DC/DC. À la sortie de la pile à combustible, un convertisseur a un rendement d'environ 98 %, un onduleur et un transformateur, d'un rendement de 95 % complètent la chaîne d'hydrogène.

Question 3.5  
DR1.1 | L'expression du rendement global est  $\eta = (E_{\text{PAC}} \cdot \eta_{\text{DC/DC}} \cdot \eta_{\text{DC/AC}}) / E_{\text{électrolyseur}}$   
**Calculer** le rendement global  $\eta$  et **vérifier** qu'il concorde avec celui obtenu à l'aide du diagramme de Sankey.  
À partir du diagramme de Sankey, **repérer** les deux éléments aux responsables des pertes énergétiques et conclure.

## Partie 4 : Quelle est l'autonomie d'un véhicule à hydrogène MobyPost et quels sont ses avantages ?

---

Comme le montre le graphique du document technique DT1.9, en France près d'un tiers des émissions de gaz à effet de serre provient du transport.

D'ici 2035, l'Europe prévoit d'interdire la vente des véhicules à moteur essence et diesel. Dans ce contexte, le déploiement de solutions alternatives pour le transport est nécessaire : véhicules électriques à batteries ou véhicules électriques à pile à combustible par exemple.

Mais le véhicule électrique à pile à combustible est-il compétitif face au véhicule à batteries ? Les questions suivantes vont permettre de comparer l'autonomie de deux véhicules équivalents, l'un à pile à combustible, l'autre à batteries afin d'identifier les avantages et inconvénients de la solution Hydrogène dans le secteur de la mobilité.

La comparaison se fera à partir de l'énergie utile d'un véhicule à batteries (type Twizy) pour un parcours de 100 km.

Question 4.1 | **Déterminer** l'énergie utile  $E_u$  (en MJ pour 100 km) à fournir à un véhicule de type Renault Twizy ou MobyPost lors d'un cycle WLTP, sachant que  $1 \text{ J} = 1 \text{ W}\cdot\text{s}$ .  
DT1.10, DT1.11

**Convertir** cette énergie utile en kW·h pour 100 km.

Afin de comparer les performances des deux types de véhicules à masse équivalente, on remplace la chaîne de puissance à batteries par une chaîne de puissance à pile à combustible.

Question 4.2 | **Compléter** le document réponses recensant les masses des différents constituants et en **déduire** la masse disponible pour les réservoirs à hydrures.  
DT1.12  
DR1.2

La capacité moyenne de stockage de  $\text{H}_2$  dans les réservoirs à hydrures est de  $9 \text{ gH}_2/\text{kgHydrure}$ .

Le pouvoir énergétique de l'hydrogène est de  $33 \text{ kW}\cdot\text{h}/\text{kgH}_2$ .

Le rendement global de la chaîne de puissance des réservoirs à hydrures jusqu'aux roues est de  $\eta = 0,32$ .

Question 4.3 | À partir de la masse de réservoirs à hydrures définie à la question 4.2, **calculer** la masse d'hydrogène correspondante en  $\text{gH}_2$  sachant que la masse des réservoirs vides est négligeable par rapport à celle de l'hydrure.  
**En déduire** l'énergie stockée dans les réservoirs à hydrures en kW·h ainsi que l'énergie utile disponible sur les roues en kW·h.



Quel que soit le résultat obtenu à la question 4.1, nous considérerons par la suite que l'énergie utile à fournir au véhicule pour un trajet de 100 km est de  $E_u = 7,5 \text{ kW}\cdot\text{h}$ . Le véhicule MobyPost est équipé de batteries et d'une pile à combustible.

Question 4.4 | Quel que soit le résultat obtenu à la question 4.3, nous considérerons que l'énergie utile pour un véhicule électrique à pile à combustible est de  $5 \text{ kW}\cdot\text{h}$  pour la pile à combustible et de  $4,6 \text{ kW}\cdot\text{h}$  pour les batteries.

**Calculer** l'autonomie en km de ce véhicule à hydrogène.

Question 4.5 | À partir de l'étude réalisée et du document technique, **lister** les avantages de la technologie à hydrogène appliquée au transport.

DT1.13

## Partie 5 (choix 2) : Quelles perspectives énergétiques apporte l'utilisation de cette station à hydrogène sur un site isolé ?



Comme tous les refuges de haute montagne, le refuge du Col du Palet, situé à 2600 mètres d'altitude dans le parc de la Vanoise, était confronté à l'absence de réseau électrique ainsi qu'à une consommation énergétique concentrée sur la période de gardiennage.

Des panneaux photovoltaïques, sous réserve de soleil, permettaient de couvrir certains besoins tels que l'éclairage, la production de froid, le fonctionnement du petit électroménager, la connexion Internet, la téléphonie satellite, la recharge des mobiles, etc. De plus, un groupe électrogène était ponctuellement utilisé pour faire fonctionner la pompe de relèvement de l'eau potable.

En 2015, suite à un appel d'offre, MAHYTEC ainsi qu'un consortium de 5 entreprises françaises mettaient en place une station à hydrogène raccordée à l'installation électrique existante du refuge.

Données sur le refuge du Col du Palet :

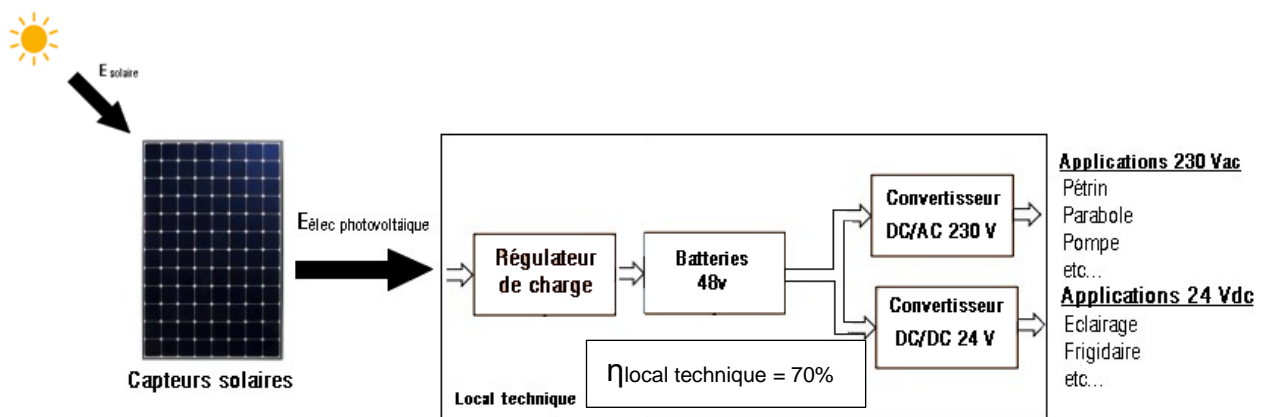
- période d'ouverture : 4 mois, de juin à septembre inclus ;
- période non gardée : 8 mois, d'octobre à mai inclus ;
- nombre de couchages : 47.

Besoins énergétiques en période d'ouverture : l'énergie journalière de 5,5 kW·h se décomposant ainsi :

- 2,5 kW·h sur la sortie 24 VDC (Appareils ou usages à alimenter en 24 VDC : éclairage, réfrigérateur, radio, etc.) ;
- 3 kW·h sur la sortie 230 VAC (Appareils à alimenter en 230 VAC : pompe de relevage, pétrin, parabole, etc.).

**Le but de cette étude est de valider le choix d'une station à hydrogène dans ce cas de figure.**

Analyse de la production d'électricité avant 2015 : Avant l'installation de la station d'hydrogène, l'apport en électricité était fourni par les panneaux solaires, couplés à des batteries par l'intermédiaire d'un régulateur.



Le document DT1.14 rapporte les résultats de la simulation de l'irradiation mensuelle au refuge du Col du Palet (en réalité dans la station proche de Bourg Saint Maurice), obtenus à l'aide du logiciel CALSOL.

Question 5.1

DT1.14, DT1.15

**Déterminer** l'irradiation solaire minimale sur la période d'ouverture en  $\text{kW}\cdot\text{h}\cdot\text{m}^{-2}$  par jour.

À partir des caractéristiques des panneaux photovoltaïques, **définir** l'énergie solaire minimale restituée par les panneaux solaires sur une journée.

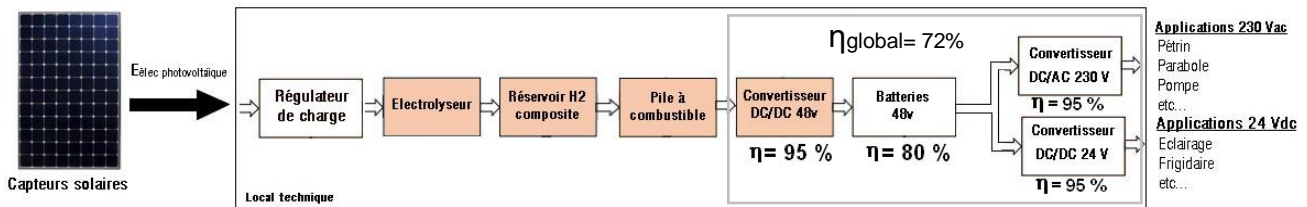
**Calculer** la quantité d'énergie produite par le système, en prenant en compte le rendement global des constituants du local technique.

Question 5.2

**Indiquer** si les besoins journaliers sont couverts par les apports solaires.

**Conclure** sur la pertinence d'augmenter la capacité de stockage d'énergie pour ce refuge, en cas de déficit d'ensoleillement sur plusieurs jours consécutifs.

Après 2015 : Mise en place d'une chaîne de production et de stockage d'hydrogène



Pour pallier le manque d'autonomie du refuge en période hivernale, qui obligeait l'appoint d'énergies non renouvelables et polluantes (exemple : gasoil pour le groupe électrogène), on insère dans la chaîne de production électrique existante un système de production et de stockage d'hydrogène, ainsi qu'une pile à combustible.

L'objectif est de stocker sous forme d'hydrogène l'énergie électrique produite pendant la période de fermeture, pour la restituer pendant la saison estivale. On espère ainsi atteindre 11 à 12 jours d'autonomie.

On suppose qu'en début de période estivale, les réservoirs d'hydrogène sont pleins.

Question 5.3

DT1.15

**Relever** sur le document technique, la masse totale d'hydrogène pouvant être stockée dans les réservoirs ainsi que la consommation en hydrogène de la pile à combustible.

**En déduire** l'énergie totale que pourra fournir la pile à combustible.

Question 5.4

**Calculer** l'énergie totale disponible que peut fournir la station.

**Conclure** quant à l'objectif énergétique d'autonomie du refuge.

Question 5.5

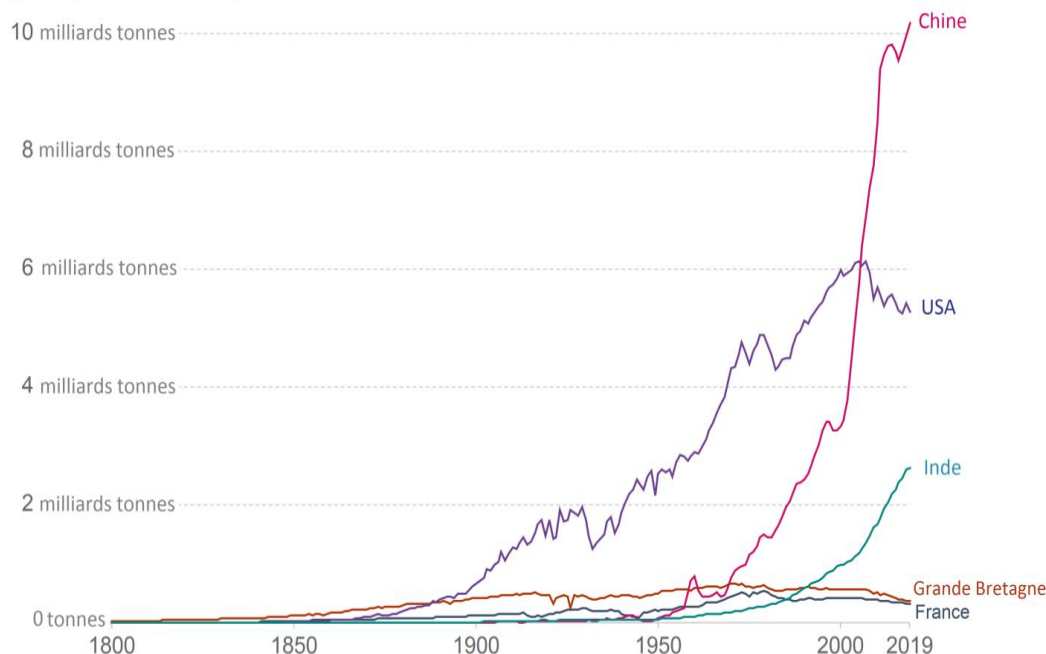
**Proposer** une solution pour atteindre l'autonomie énergétique du refuge.

## DT1.1 – Évolution des émissions annuelles de CO<sub>2</sub>

Dans le mix énergétique mondial de 2019, seulement 5 % de l'énergie est issue des énergies renouvelables. Et en même temps, les émissions de CO<sub>2</sub> s'affolent.

### Emissions annuelles de CO<sub>2</sub>

Emissions de dioxyde de carbone (CO<sub>2</sub>) issues de la combustion d'énergies fossiles pour la production d'énergie et la production de ciment.



Source: Global Carbon Project; Carbon Dioxide Information Analysis Centre (CDIAC)

Note: CO<sub>2</sub> emissions are measured on a production basis, meaning they do not correct for emissions embedded in traded goods.  
OurWorldInData.org/co2-and-other-greenhouse-gas-emissions/ • CC BY

**Le 4 novembre 2016, l'Accord de Paris (COP21) est entré en vigueur et a fixé des objectifs ambitieux : d'ici 2050, il faudra baisser les émissions de CO<sub>2</sub> de 60 %, tout en comptant 2 milliards de personnes en plus.**

Cela implique des changements importants de notre système énergétique : une forte augmentation de l'efficacité énergétique, une transition vers les énergies renouvelables et les énergies bas carbone. Certains états imposeront des décisions drastiques avec notamment l'interdiction des véhicules essence et diesel en France en 2040, en Norvège en 2025 et aux Pays-Bas en 2030 et le développement des solutions alternatives, comme les véhicules électriques à batteries et les véhicules FCEV (Fuel Cell Electric Vehicle ou véhicules électriques à pile à combustible).

## DT1.2 – Demande en hydrogène par application

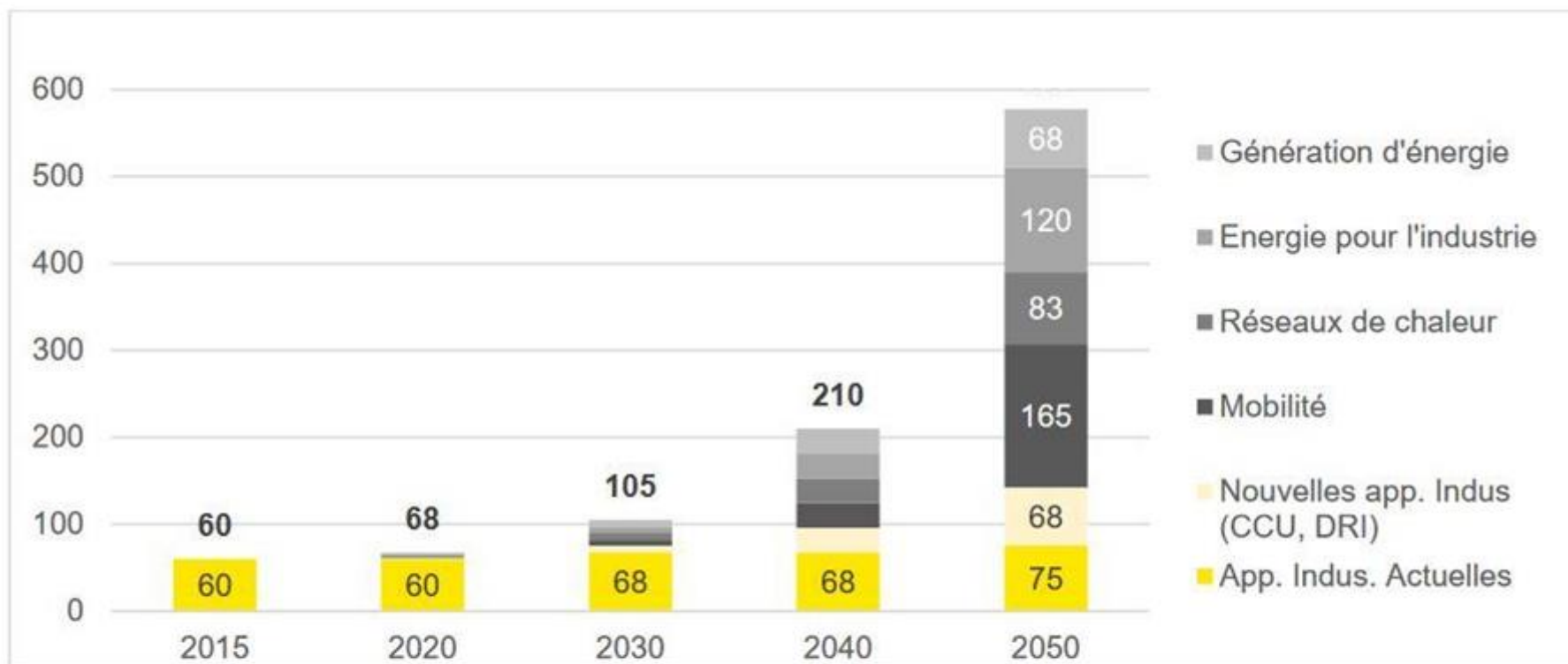
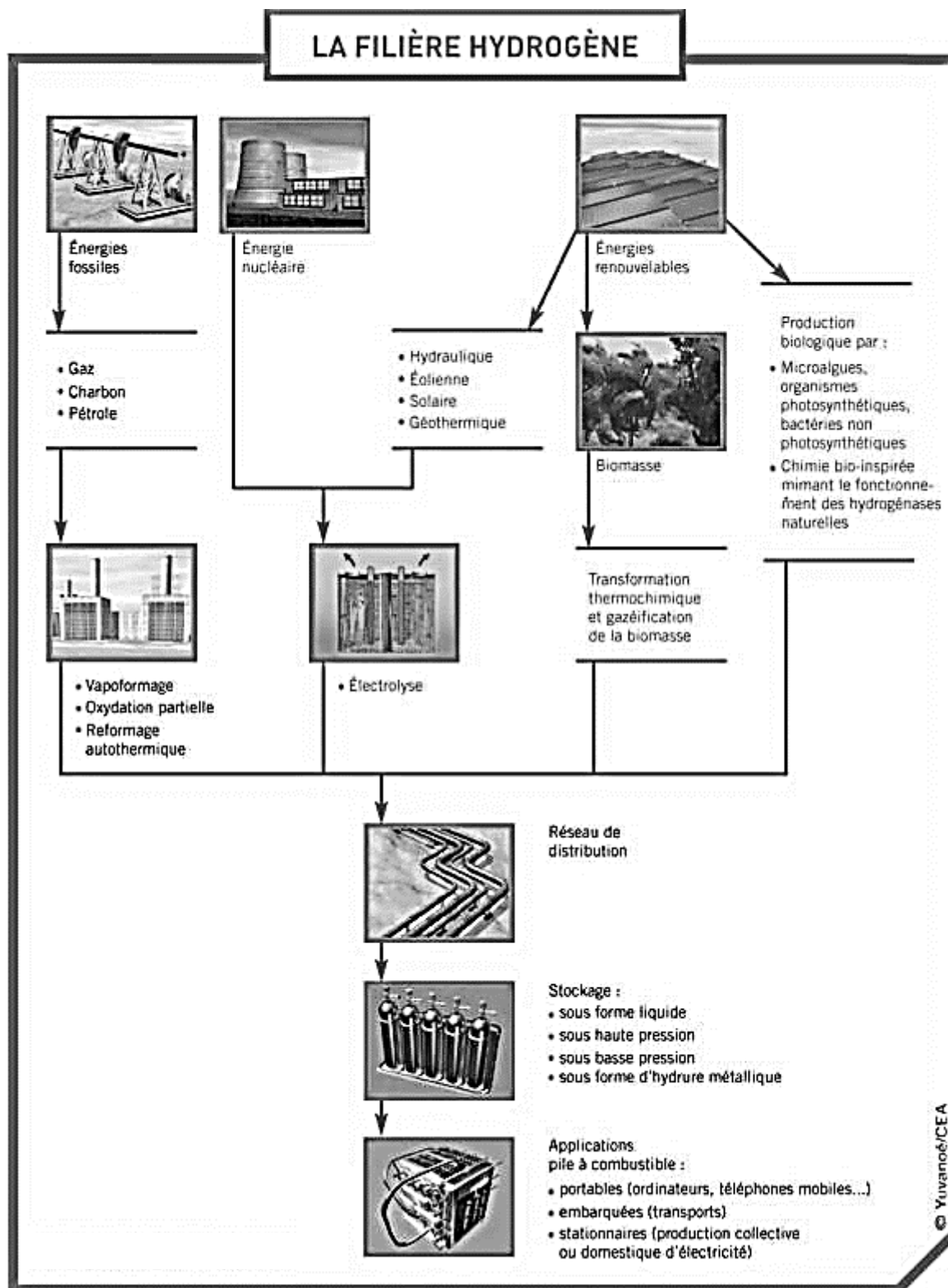


Figure 11. Demande mondiale en Hydrogène pur, par application, en millions de tonnes par an, d'après l'Hydrogen Council.

Source : Hydrogen Council 2017



## DT1.4 – Société MAHYTEC et ses produits

---

Présentation :

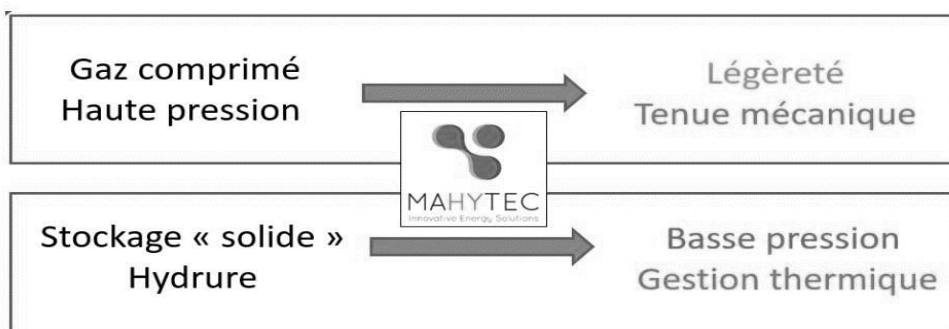
MAHYTEC : Matériaux Hydrogène TEChnologie

- Fondée en 2008 par 4 enseignants-chercheurs de l'UFC
- 25 employés
- Activité principalement en Europe

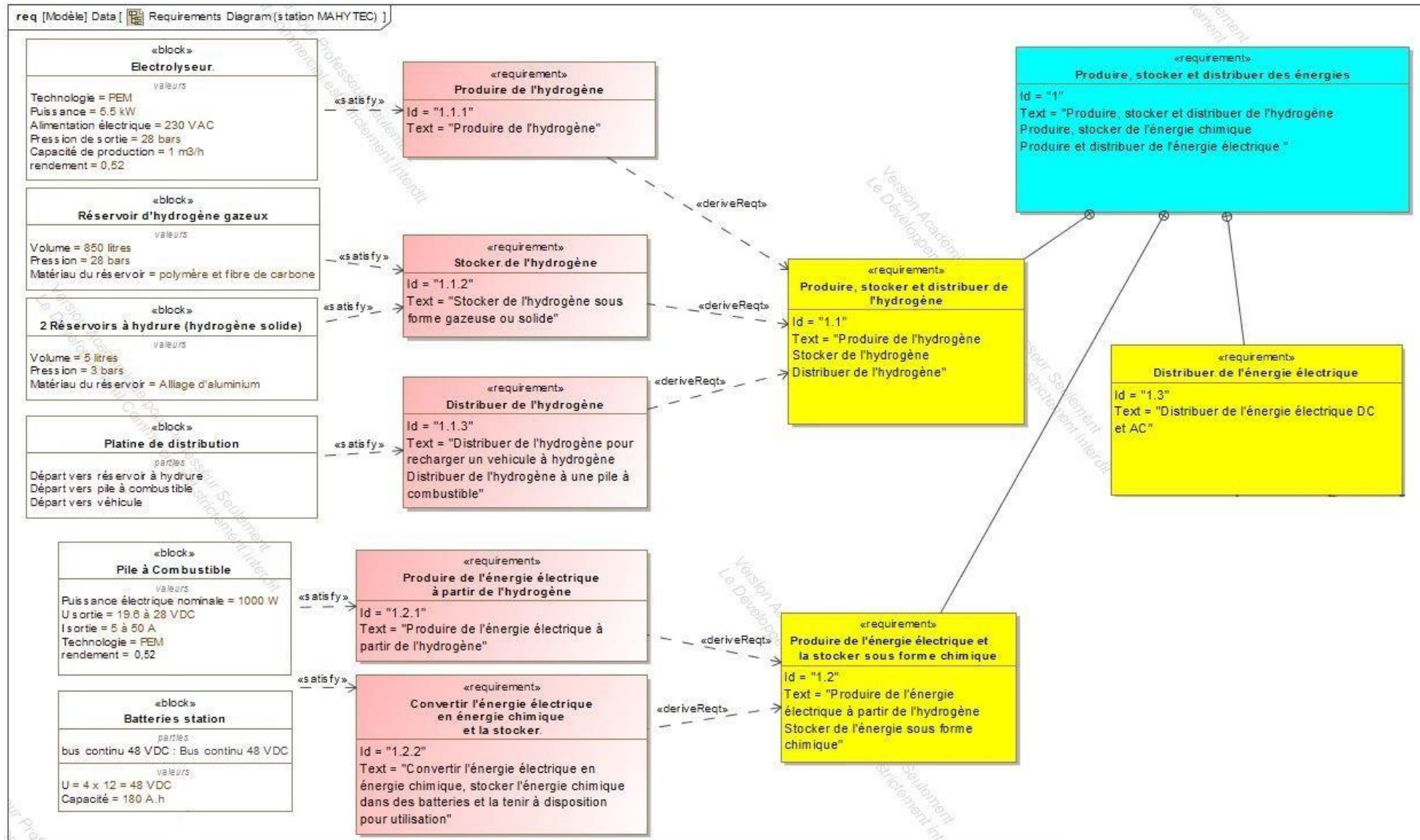
2 grandes activités:

- Fabrication de réservoirs d'hydrogène
- Conception et intégration de systèmes de stockage d'énergie

Produits :



# DT1.5 – Diagramme des exigences de la station MAHYTEC

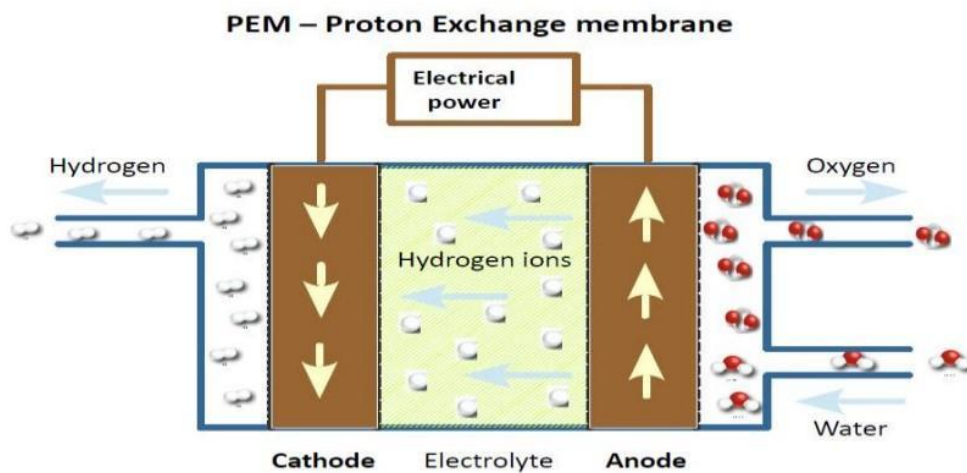





## DT1.6 – Caractéristiques techniques de l'électrolyseur HyProvide P1

L'électrolyseur utilisé dans la station MAHYTEC produit de l'hydrogène en utilisant le procédé d'électrolyse de l'eau à l'aide de PEM (Proton Exchange Membrane).

Le courant électrique passe dans un électrolyte (substance conductrice) afin de déclencher la réaction de décomposition de l'eau en hydrogène et oxygène.



DONNÉES TECHNIQUES	
Technologie	PEM
Puissance	5,5 kW
Alimentation électrique	Électrolyseur : 400 Vca ou 230 Vca Sécheur : 230 Vca
Pression de sortie de l'hydrogène	50 bar
Capacité de production de l'hydrogène	0,08988 kgH <sub>2</sub> .h <sup>-1</sup>
Pureté de l'hydrogène	>99,995 %
Conformité	CE
Type d'interface de communication	Ethernet
Contrôle à distance	Interface web / MOD-bus
CONDITIONS D'UTILISATION	
Alimentation en eau distillée	1 L/h avec un système de recyclage (5 L/h sans)
Température ambiante	2 °C à 40 °C
Dimensions (cm)	Électrolyseur : 60 x 60 x 110 Sécheur : 60 x 50 x 63

## DT1.7 – Caractéristiques techniques de la pile à combustible

<b>Performances</b>	<b>AIRCELL</b>	<b>600 ACS</b>	<b>1000 ACS</b>	<b>2000 ACS</b>	<b>3000 ACS</b>
Puissance Nominale (W)		600	1000	2000	3000
Puissance Maximale (W)		750	1200	2350	3400
Tension de sortie (V)		12 – 18	18 – 28	36,5 – 56	52 – 80
Courant Min./Max. (A)		5 – 50 / max. 65A dur. 30 s			
Dimensions (mm): L x l x h <sup>1</sup>		392 x 214 x 330	436 x 158 x 330	441 x 122 x 550	445 x 122 x 634
Masse (kg) <sup>1</sup>		10	13	20	24

<sup>1</sup> Dimensions et masse susceptibles d'ajustement en fonction des projets.

### Hydrogène

Qualité H2	Grade de qualité 3,5 (99,95%) <sup>2</sup>			
Pression d'entrée système	2 – 10 bar			
Consommation H2 (g/kWh)	65 g/kWh			
Consommation nominale H2(Nl/min)	6 Nl/min	10 Nl/min	20 Nl/min	30 Nl/min

<sup>2</sup> Caractéristique selon norme ISO 14687-3:2014.

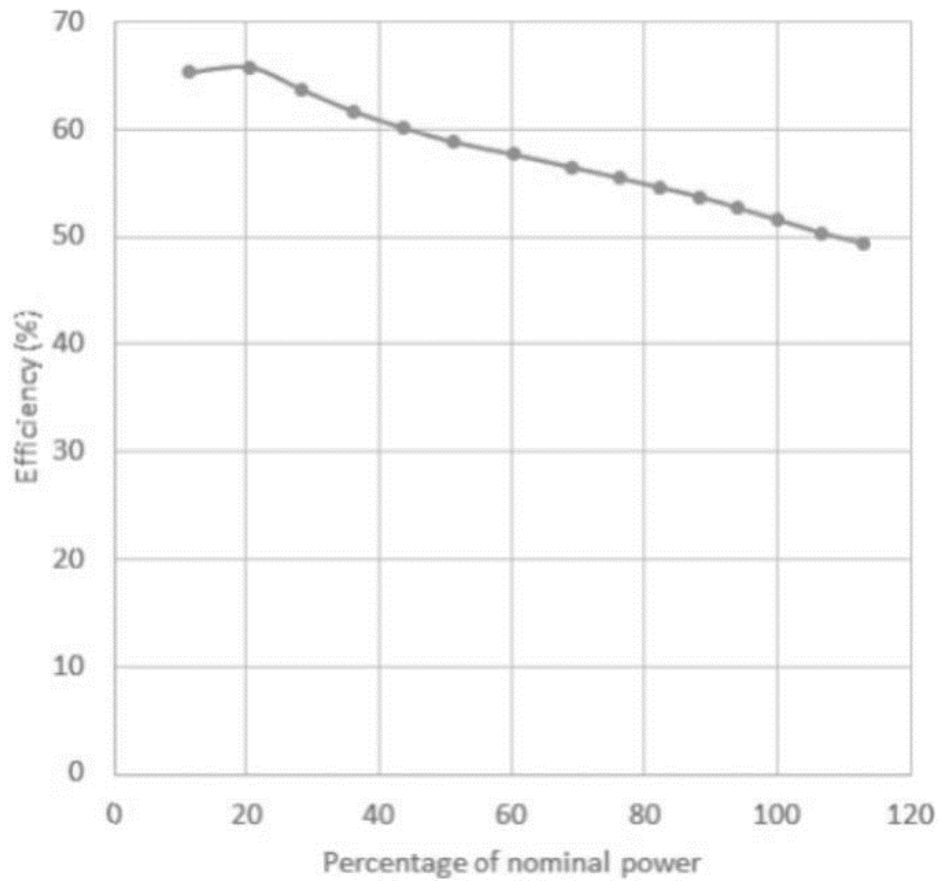
### Fonctionnement

Tension requise au démarrage	24 Vdc (@start-up 200W)
Mise en service	Bouton de démarrage + interface CanBus (en option: soft utilisateur)
Durée procédure de lancement	Inférieure à 5 s
Protocole de communication	CANbus – ISO 11989
Plage T°C de fonctionnement	+5°C to + 45°C <sup>3</sup>
Données collectables	Tension – Courant – Consommation H2 – Rendements – Température
En option	Protocole Modbus – RTC ou TCP/IP Données des cellules du stack avec carte FCVM

<sup>3</sup> Données à titre indicatif. Le fonctionnement en plage négative nécessite une procédure spécifique. Nous contacter pour plus d'infos.

## DT1.8 – Rendement de la pile à combustible

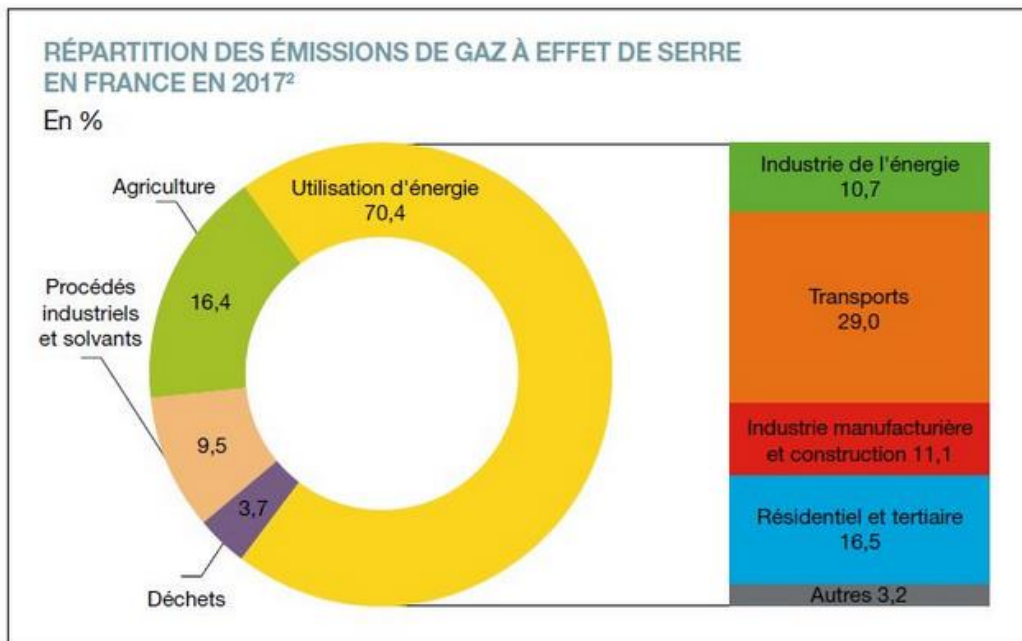
---



Efficiency → Efficacité ou rendement

Percentage of nominal power → Pourcentage de puissance nominale

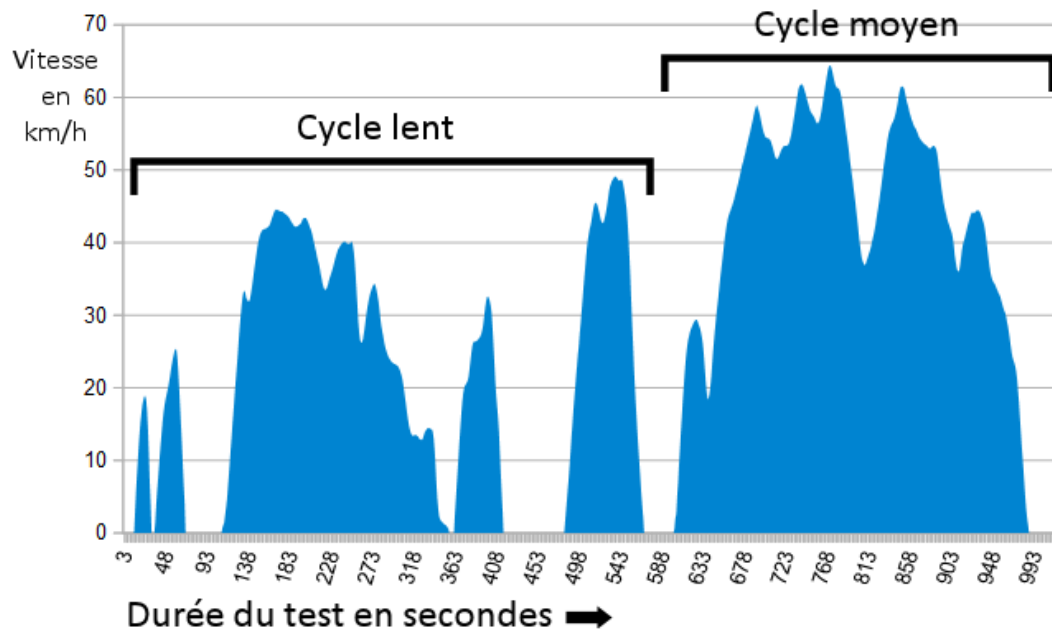
## DT1.9 – Répartition des gaz à effet de serre en France en %



Répartition des émissions de gaz à effet de serre en France en 2017 - © SDES

## DT1.10 – Cycle WLTP

Depuis 2018 en Europe, l'autonomie et la consommation d'énergie des nouveaux véhicules mis sur le marché sont déterminées par un cycle d'homologation commun baptisé WLTP (Worldwide Light Vehicles Test Procedures), que l'on peut traduire par « procédure d'essai mondiale harmonisée pour les véhicules légers ». Lors du test, le véhicule est placé sur bancs à rouleaux dans un laboratoire, puis est soumis à différents cycles (accélération, vitesse constante, décélération) censés reproduire des conditions de conduite réelle.



La puissance utile à fournir à un véhicule pour un cycle WLTP peut être estimée mathématiquement à partir de la relation suivante :

$$P_u = 0,5 \cdot \rho \cdot V^3 \cdot S \cdot C_x + V \cdot g \cdot \cos \alpha \cdot C_r \cdot m + V \cdot \gamma \cdot m$$



$0,5 \cdot \rho \cdot V^3 \cdot S \cdot C_x$  : représente la puissance utile aérodynamique  
 $V \cdot g \cdot \cos \alpha \cdot C_r \cdot m$  : représente la puissance utile de roulement  
 $V \cdot \gamma \cdot m$  : représente la puissance utile d'accélération

L'énergie utile est obtenue par intégration de cette puissance utile en fonction du temps sur les différentes phases du cycle WLTP ( $\rho$ ,  $V$ ,  $g$ ,  $\gamma$  sont alors connus) et s'exprime mathématiquement sous la relation suivante :

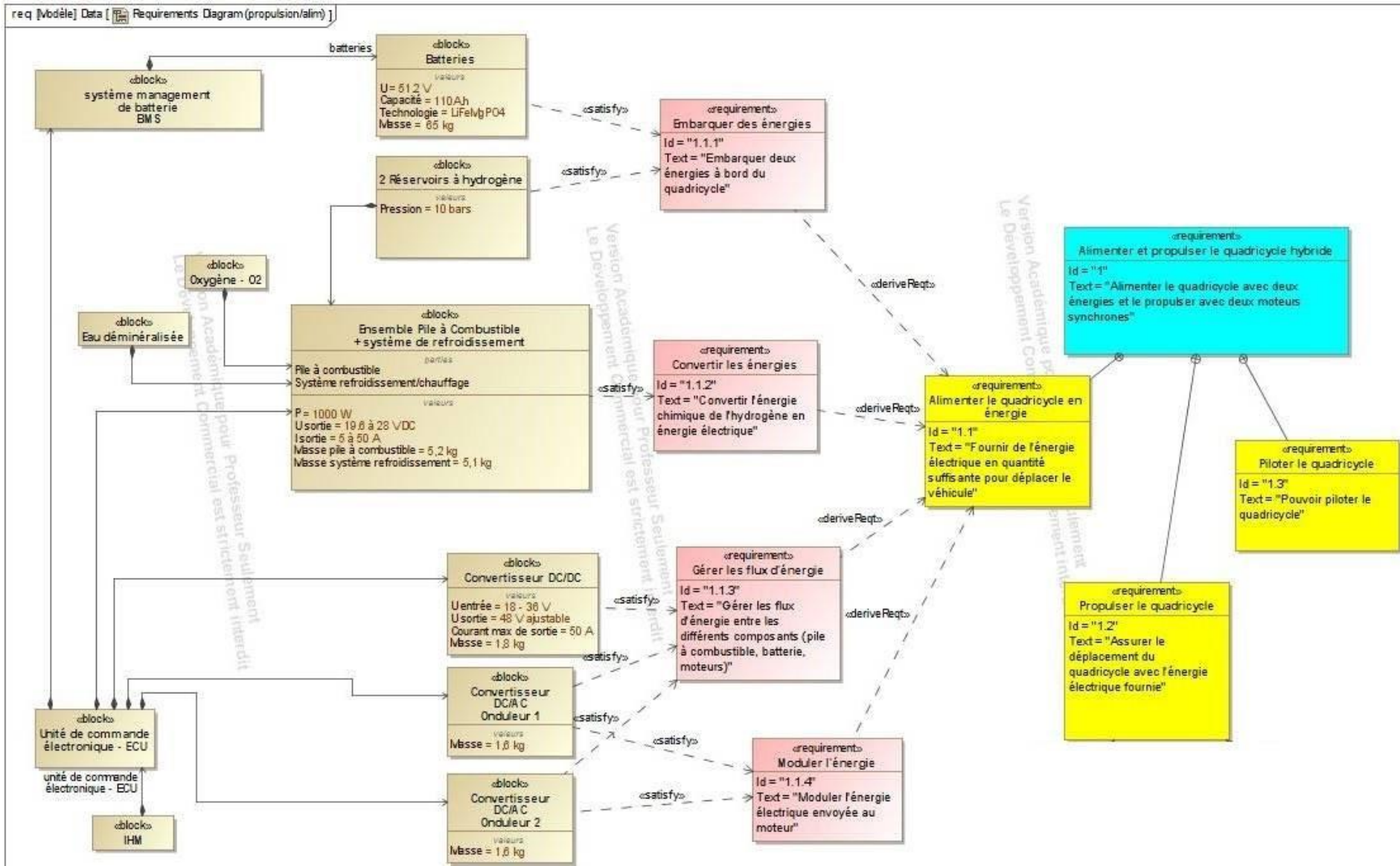
$$E_u = 19,2 \cdot S \cdot C_x + 0,82 \cdot C_r \cdot m + 0,011 \cdot m$$

$E_u$  : énergie utile en MJ pour 100 km  
 $S \cdot C_x$  : paramètre aérodynamique du véhicule en  $m^2$   
 $C_r$  : coefficient de résistance au roulement  
 $m$  : masse totale roulante [MTR] du véhicule en kg

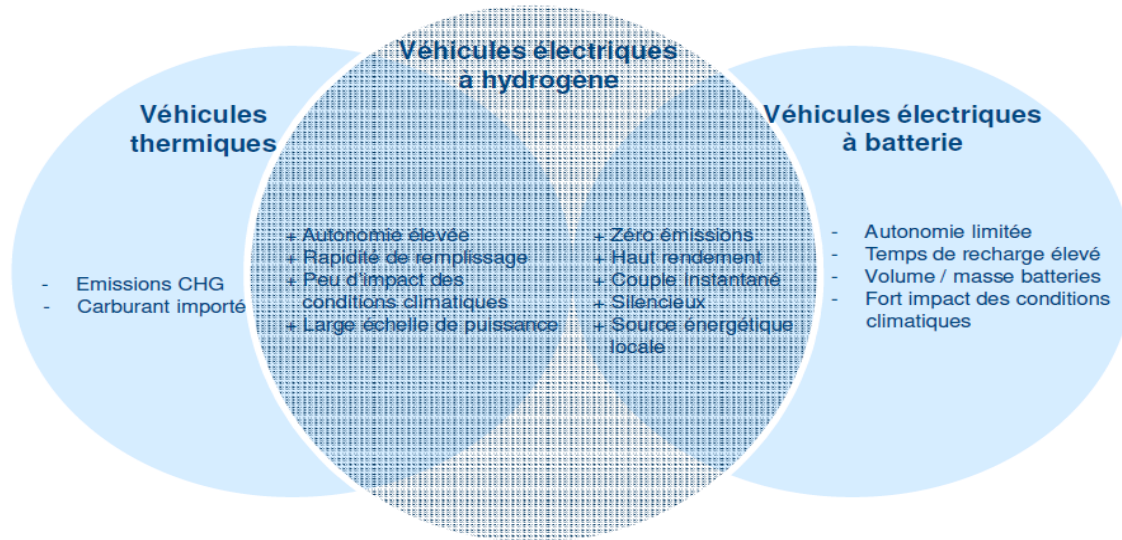
## DT1.11 – Données caractéristiques des véhicules Twizy et MobyPost

		
Dénomination	Renault Twizy	MobyPost
Type	Électrique à batteries	Électrique à pile à combustible
MTR		685 kg
S - C <sub>x</sub>		0,65 m <sup>2</sup>
Cr		0,012


# DT1.12 – Diagramme des exigences du véhicule MOBYPOST




## DT1.13 – Avantages de la technologie H<sub>2</sub> pour l'application transport



## DT1.14 – Simulation de l'irradiation solaire au Col du Palet



**INES Education - Logiciel CALSOL - Gisement solaire estimation de l'énergie solaire disponible avec masque**



Choix de la ville :       Prendre en compte un masque :

[Inclinaison du plan :](#)       [Orientation du plan :](#)       [Albédo du sol :](#)

Irradiation sur un plan d'inclinaison 15° et d'orientation 0° en kWh/m<sup>2</sup> par jour ☉

Irradiation :	jan	fév	mars	avr	mai	juin	juil	août	sep	oct	nov	déc	année
<a href="#">Globale (IGP)</a>	1.22	1.86	3.21	4.12	4.93	5.62	5.37	4.91	4.03	2.36	1.45	1	3.35



## DT1.15 – Caractéristiques techniques de l'installation du refuge du Col du Palet

### Modules photovoltaïques

- 6 x panneaux photovoltaïques connectés en série ( $S_{\text{totale}} = 9,8 \text{ m}^2$ )
- Rendement = 20,4 %
- $V_{\text{mpp}} = 328 \text{ VDC}$



### Stockage d'hydrogène

- 2 x réservoirs de type IV de capacité 850 l chacun
- Pression : 30 bars
- Stockage :  $2 \times 2,3 = 4,6 \text{ kg}$  d'hydrogène
- Température de service :  $- 40 \text{ °C}$  à  $+ 65 \text{ °C}$



### Pile à combustible

Performances	AIRCELL 2000 ACS
Puissance Nominale (W)	2 000
Puissance Maximale (W)	2 350
Tension de sortie (V)	36,5 – 56
Courant Min./ Max. (A)	5 – 50 / max.
Dimensions (mm): L x l x h(*)	441 x 122 x 550
Poids (kg)	20

Hydrogène	
Qualité $\text{H}_2$	99,95%
Pression d'entrée système	2 – 10 bar
Consommation $\text{H}_2$ (g/kWh)	65 g/kWh

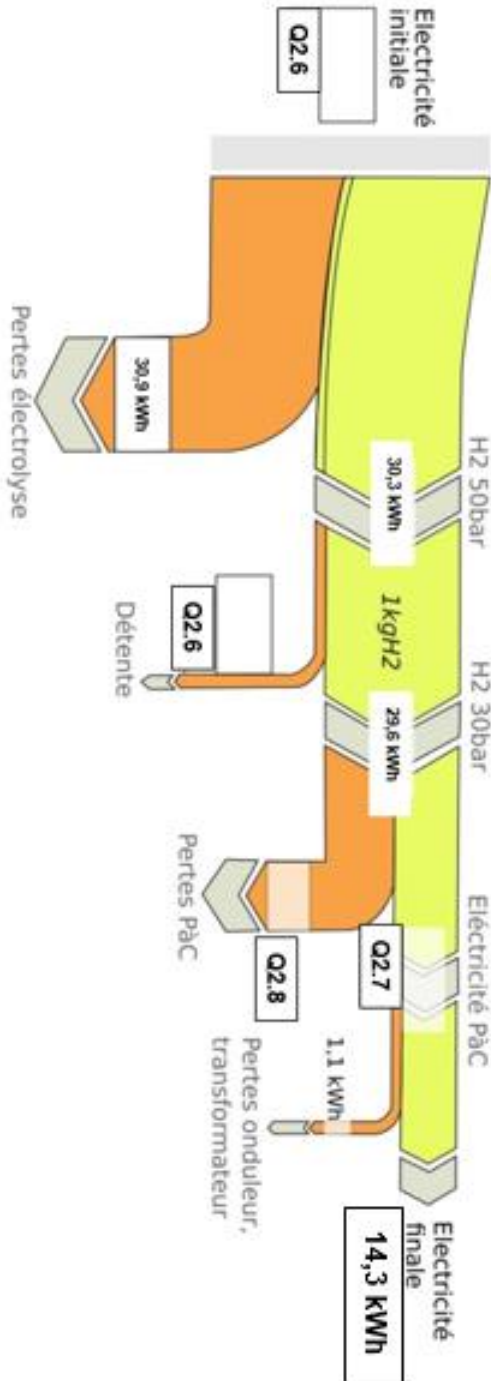


## DR1.1 – Diagramme de Sankey

Diagramme de Sankey visualisant le flux d'énergie nécessaire pour produire un kg d'hydrogène

$$\eta = \text{Énergie massique finale} / \text{Énergie massique initiale}$$

$$\eta = 14,3 / 61,2 = 0,234 = 23,4 \%$$



Modèle CCYC : ©DNE

NOM DE FAMILLE (naissance) :

PRENOM :

N° candidat :

N° d'inscription :



(Les numéros figurent sur la convocation, si besoin demander à un surveillant.)



Né(e) le :

 /  /

## DR1.2 – Masse des équipements embarqués

		
Type de véhicule	Électrique à batteries	Électrique à pile à combustible
Batteries	130 kg	....
Réservoirs à hydrures	Non équipé	....
Pile à combustible + système de refroidissement	Non équipé	....
Convertisseurs DC/AC	Équipements identiques	Équipements identiques
Convertisseur DC/DC	Non équipé	....
<b>Total</b>	<b>130 kg</b>	<b>130 kg</b>



## PARTIE SPÉCIFIQUE (8 points)

### ÉNERGIES ET ENVIRONNEMENT

## L'hydrogène, vecteur énergétique d'avenir ?



#### Constitution du sujet :

- Dossier sujet et questionnement..... pages 28 à 31
- Dossier technique ..... pages 32 à 36
- Documents réponses ..... pages 37 à 38

## Mise en situation

Que ce soit dans l'étude de la station de production d'hydrogène et d'électricité ou dans le cas du véhicule électrique à pile à combustible, le choix des constituants des chaînes de puissance est essentiel pour mener à bien ce projet.

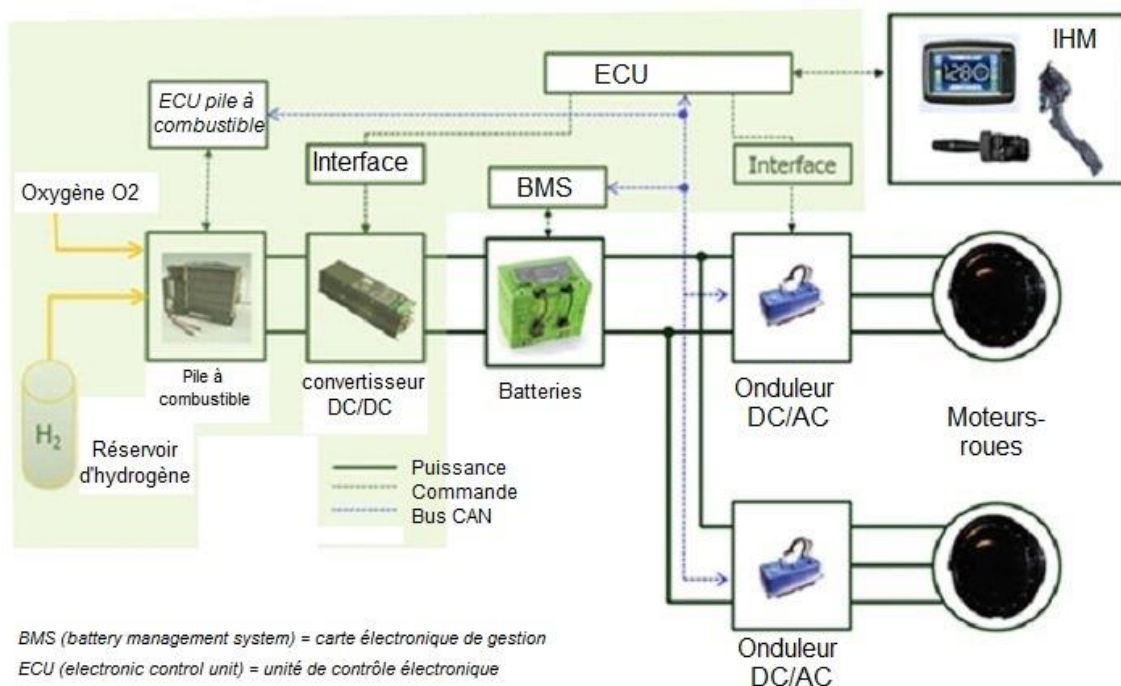
Le travail va donc s'articuler en deux parties : la première porte sur la station de production d'hydrogène et d'électricité MAHYTEC et la deuxième porte sur le véhicule électrique à pile à combustible MOBYPOST.

La principale fonctionnalité de la station est la fourniture d'électricité et d'hydrogène à l'utilisateur. Le cahier des charges de l'équipement est décrit ci-dessous :

- capable de produire de l'hydrogène pur à 99,9 % par électrolyse de l'eau ;
- capable de fournir aux usagers une tension stable 230 VAC et une puissance de 1000 W produite au moyen d'une pile à combustible ;
- capable d'assurer la recharge (électrique et hydrogène) d'un véhicule hybride de type quadricycle ;
- offrir une interface utilisateur moderne pour assurer la consultation en temps réel des données. Une connectivité sans fil (WiFi) est également disponible.

Principaux constituants de la chaîne de puissance du véhicule MOBYTEC :

- chaque roue arrière est motorisée par un moteur synchrone à aimants permanents ;
- l'énergie nécessaire est fournie par 4 batteries 12 V/110 A·h connectées en série ;
- la modulation d'énergie de chaque moteur est assurée via un convertisseur de fréquence (onduleur DC/AC).



## Travail demandé

### Partie A : Mise en œuvre du dispositif de sécurité et de détection de fuites d'hydrogène dans la station MAHYTEC

---

Découvert au XVIII<sup>e</sup> siècle par Henry Cavendish, l'hydrogène est incolore et inodore, et se présente sous la forme gazeuse à pression et température ambiante. L'hydrogène est le premier atome du tableau périodique des éléments. Sa petite taille, associée à une très faible viscosité, rend ce gaz apte à fuir très facilement en présence de défauts d'étanchéité.

Question A.1 | **Préciser** quels sont les risques spécifiques à l'emploi de l'hydrogène dans un milieu confiné, comme la station de stockage MAHYTEC.

DT2.1

La maîtrise de ces différents risques passe par la définition d'objectifs de sécurité dès la conception de la station de recharge d'hydrogène MAHYTEC. Cela consiste, pour tout le système, à inclure tous dispositifs destinés à éviter les fuites d'hydrogène (H<sub>2</sub>).

Cette prévention passe par des choix technologiques sur le matériel utilisé. Pour cela, la station bivalente est équipée d'une centrale de mesure MX32 associée à un détecteur de fuite d'hydrogène. La centrale est installée dans un coffret électrique se trouvant à l'extérieur de la station hors de toute présence d'atmosphères explosives, hors exposition directe du soleil, et à l'abri de l'humidité et des poussières.

Le détecteur d'hydrogène est installé dans le local électrique et permet d'assurer la détection d'une éventuelle présence d'hydrogène dans le local électrique.

Question A.2 | **Préciser** quels sont les deux types de cellule utilisables dans le cas d'une détection du gaz hydrogène.

DT2.2, DT2.3

On choisit une cellule de type électrochimique, **donner** sa plage de mesure autorisée en indiquant son unité.

Sachant que la cellule est raccordée sur l'entrée 4-20 mA de la centrale MX32, **indiquer** la référence de la cellule compatible à la centrale.

La mesure issue du détecteur est gérée en continu par la centrale de mesure MX32. La mesure est exprimée en % LIE.

La LIE ou limite inférieure d'explosivité d'un gaz est la concentration minimale en volume dans l'air à partir de laquelle il peut être enflammé.

L'algorithme correspond au fonctionnement du dispositif de sécurité détectant les fuites d'hydrogène. Le fonctionnement est décrit dans le document technique DT2.4.



Question A.3

**Compléter** l'algorithme de commande.

DT2.4

DR2.1

## **Partie B : Vérification de la conception détaillée de la chaîne de traction du véhicule électrique à pile à combustible (VEPAC)**

---

La masse totale du véhicule MOBYPOST en charge est de 550 kg. Sa vitesse maximale est fixée à  $V_{\max} = 43 \text{ km}\cdot\text{h}^{-1}$ . La fréquence de rotation maximale des moteurs (électriques) est  $N = 400 \text{ tr}\cdot\text{min}^{-1}$ .

Le groupe motopropulseur se compose d'une source d'énergie, d'une électronique de commande, de convertisseurs d'énergie, de machines électriques et d'un système de liaison mécanique.

Dans un premier temps, nous allons déterminer la puissance des moteurs. Pour calculer la puissance que doit fournir le moteur, on s'intéresse à trois situations typiques :

- situation n°1 : terrain plat et vitesse maximale ;
- situation n°2 : rampe de 8 % ( $\alpha = 4,57^\circ$ ) et vitesse de  $30 \text{ km}\cdot\text{h}^{-1}$  ;
- situation n°3 : accélération à plat, de la vitesse 0 à  $30 \text{ km}\cdot\text{h}^{-1}$  en 15 s.

Les forces appliquées sur le véhicule se composent de :

- la force liée à la résistance aérodynamique  $\overrightarrow{Faéro}$  ;
- la force liée à la résistance au roulement des pneus  $\overrightarrow{Froul}$  ;
- la force liée à la masse du véhicule et à la pente de la route  $\overrightarrow{Fpente}$  ;
- la force liée à l'accélération du véhicule  $\overrightarrow{Faccél}$ .

La force que doivent développer les moteurs électriques est :

$$|\overrightarrow{Fmot}| = |\overrightarrow{Faéro} + \overrightarrow{Froul} + \overrightarrow{Fpente} + \overrightarrow{Faccél}|$$

Question B.1

**Compléter** le document réponses.

DR2.2

Pour la suite de l'étude, nous considérerons que les moteurs-roues fournissent une puissance  $P_{\text{mot}} = 4 \text{ kW}$ .

Question B.2

À partir du document technique, **indiquer** le principal avantage d'un moteur électrique lors du démarrage par rapport aux moteurs thermiques essence et diesel.

DT2.5

Question B.3 | Sachant que le moteur-roue possède 14 pôles et que la fréquence du  
DT2.6 | courant d'alimentation est de 50 Hz, **définir** la vitesse de rotation  
nominale du moteur-roue synchrone à aimants permanents.

Question B.4 | **Quel est l'intérêt** d'avoir équipé le véhicule de deux moteurs-roues  
DT2.7 | alors qu'on aurait pu l'équiper d'un moteur électrique central couplé à  
un système de transmission du mouvement ?

Dans un second temps, nous allons justifier le choix des batteries et vérifier l'autonomie du véhicule MOBYPOST en utilisation normale.

Le véhicule MOBYPOST est utilisé par un postier lors de sa tournée de distribution du courrier. Le parcours emprunté par le véhicule peut être soit plat soit pentu (rampe de 8 % maximum). Le postier peut s'arrêter pour remettre un colis, par exemple, et le moteur du véhicule s'arrête automatiquement dans ce cas. La pile à combustible peut fonctionner pendant ces périodes d'arrêt pour recharger la batterie du véhicule.

Question B.5 | Pour ce véhicule essentiellement à usage rural, l'autonomie désirée  
est de 60 km à 43 km·h<sup>-1</sup> (à vitesse stabilisée et sur route horizontale).  
**Déterminer** le temps de fonctionnement du véhicule.

Les moteurs-roues devant alors fournir une puissance de 4 kW,  
**calculer** l'énergie embarquée à bord du véhicule en W·h.

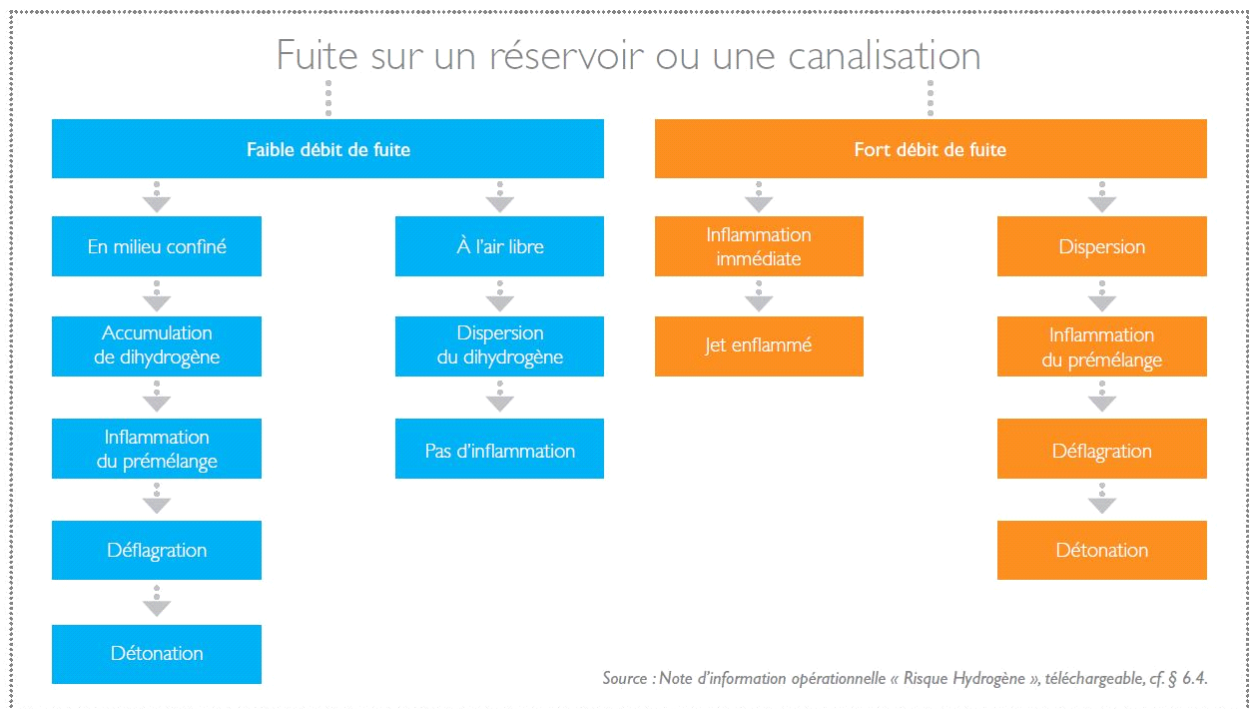
Question B.6 | À partir du document technique et sachant que le choix des batteries  
DT2.8 | s'est porté sur la technologie LiFeMgPO<sub>4</sub>, **justifier** ce choix compte-  
tenu des spécificités du système étudié.

La batterie utilisée (accumulateurs LiFeMgPO<sub>4</sub>) ayant une énergie  
massique de 89 W·h·kg<sup>-1</sup>, **déterminer** sa masse m en kg.

On supposera que le rendement de l'ensemble (convertisseur DC/AC – machine) reste égal à 0,8 quel que soit le point de fonctionnement.

Question B.7 | La batterie utilisée ayant une tension minimale de 42 V, **déterminer** le  
courant maximal appelé par le convertisseur DC/AC pour une  
accélération de 0 à 30 km·h<sup>-1</sup> en 15 s (situation n°3).

## DT2.1 – Conséquences possibles d'une fuite d'hydrogène



## DT2.2 – Documentation technique du détecteur de gaz

<h3>OLCT100</h3> <p>Détecteur gaz ATEX (Hydrocarbures, solvants, fréons et gaz toxiques)</p>	
<h4>Caractéristiques techniques</h4> <p><b>Type de cellules :</b> Filaments catalytiques, cellules infrarouges, électrochimiques ou semi-conducteurs suivant la nature du gaz à détecter.</p> <p><b>Matériel :</b> Carter en Aluminium peint Epoxy (Inox 316L en option).  <b>Cellule et nez :</b> Inox 316L  <b>Degré de protection :</b> IP66</p> <p><b>Entrée de câble :</b> M20 ou ≤ NPT  <b>Alimentation :</b> 15,5 à 32 VCC</p> <p><b>Sorties :</b>  <b>OLC100 :</b> pont de Wheatstone  <b>OLCT100 XP, OLCT100 IS, OLCT100 XPIR, OLCT100 XP HT :</b>          Source de courant codée de 0 à 23 mA (non isolée)</p> <ul style="list-style-type: none"> <li>• Courant 4 à 20mA linéaire réservé à la mesure</li> <li>• 0 mA : défaut électronique ou absence d'alimentation</li> <li>• &lt; 1mA : défaut</li> <li>• 2 mA : mode initialisation</li> <li>• &gt; 23 mA : dépassement d'échelle</li> </ul>	<h4>Description du produit</h4> <p>Les <b>OLC(T) 100</b> sont des détecteurs gaz fixes pour le contrôle et la mesure des gaz explosifs (hydrocarbures, solvants, alcools), des gaz toxiques, des gaz asphyxiants et des gaz réfrigérants (fréons, HFO, CFC, HFC) en milieu industriel. Disponible en version antidéflagrante ou de sécurité intrinsèque, il est adapté à la détection de tous les gaz en zone ATEX.</p> <p>► <b>De nombreuses déclinaisons possibles</b></p> <p>L'<b>OLC(T) 100</b> se décline en plusieurs versions en fonction du type de cellule et de gaz :</p> <ul style="list-style-type: none"> <li>• <b>OLC100 :</b> Cellule catalytique à sortie pont de Wheatstone pour la détection des gaz explosifs (0-100 % LIE uniquement).</li> <li>• <b>OLCT 100 XP :</b> Version antidéflagrante à sortie linéaire 4-20 mA équipée d'une cellule catalytique, électrochimique ou semi-conducteur pour la détection des gaz explosifs ou certains gaz toxiques.</li> <li>• <b>OLCT 100 XP IR :</b> Version antidéflagrante à sortie linéaire 4-20 mA équipée d'une cellule infrarouge pour la détection des gaz explosifs, du CO<sub>2</sub>. Ou de certains fréons.</li> </ul>

## DT2.3 – Choix et technologie du détecteur en fonction du gaz à détecter

Gaz	Gamme de mesure	Cellule	OLC100 (Pont de Wheatstone)	OLC100-XP (4-20 mA)	OLC100-XPIR (4-20 mA)
Vapeur de gazole	0-100 % LIE	CAT (Catalytique)	x	x	
Hydrogène	0-2000 ppm H <sub>2</sub>	EC (Électrochimique)		x	
Hydrogène	0-100 % LIE	CAT (Catalytique)	x	x	
Méthane (5 % vol.)	0-100 % LIE	EC (Électrochimique)		x	

## DT2.4 – Principe de fonctionnement du dispositif de sécurité (en cas de fuite d'hydrogène)

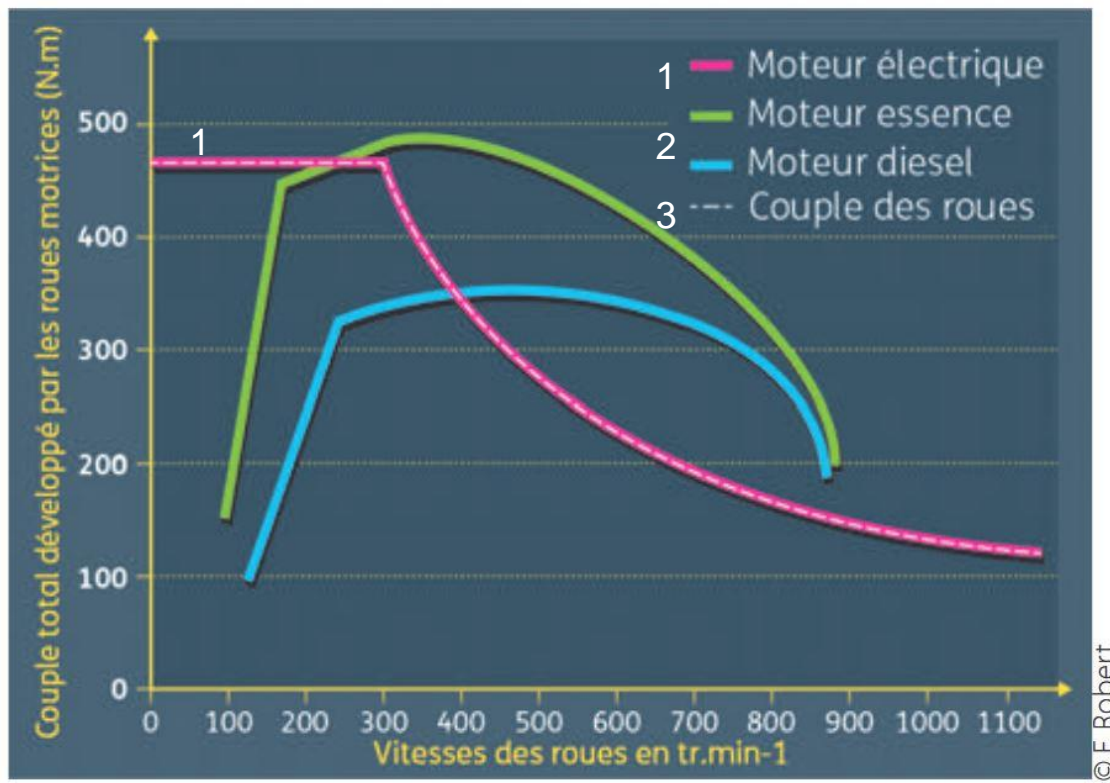
Après lecture du détecteur :

- dès qu'une fuite d'hydrogène dépasse le seuil 1, la centrale MX32 passe en alarme et déclenche ses alarmes sonores et visuelles internes ;
- dès qu'une fuite d'hydrogène dépasse le seuil 2, le relais interne KA1 de la centrale MX32 est activé et commande les actions de sécurité nécessaires. Le relais KA1 fait partie du circuit de sécurité de la station. Ainsi l'alimentation des électrovannes des réservoirs est coupée, entraînant la coupure de toute circulation d'hydrogène.

Les valeurs des seuils sont fixées à :

- seuil 1 : 0,4 % LIE (4000 ppm) ;
- seuil 2 : 0,8 % LIE (8000 ppm).

## DT2.5 – Caractéristiques mécaniques des moteurs



Solution retenue : moteur-roue

## DT2.6 – Moteur synchrone à aimants permanents

Le moteur synchrone à aimants permanents est un moteur électrique synchrone dont l'inducteur est constitué d'aimants permanents.

Comme n'importe que moteur électrique, un moteur synchrone à aimants permanents (PMSM : permanent magnet synchronous motor) est constitué d'un rotor et d'un stator. Le stator est la partie fixe. Le rotor est la partie en rotation.

La rotation du moteur synchrone est basée sur l'interaction du champ magnétique tournant du stator avec le champ magnétique constant fixe du rotor.

La vitesse de rotation du moteur est la même que la vitesse de rotation du champ magnétique tournant du stator. Elle est égale à :

$$n = 60 \cdot f / p$$

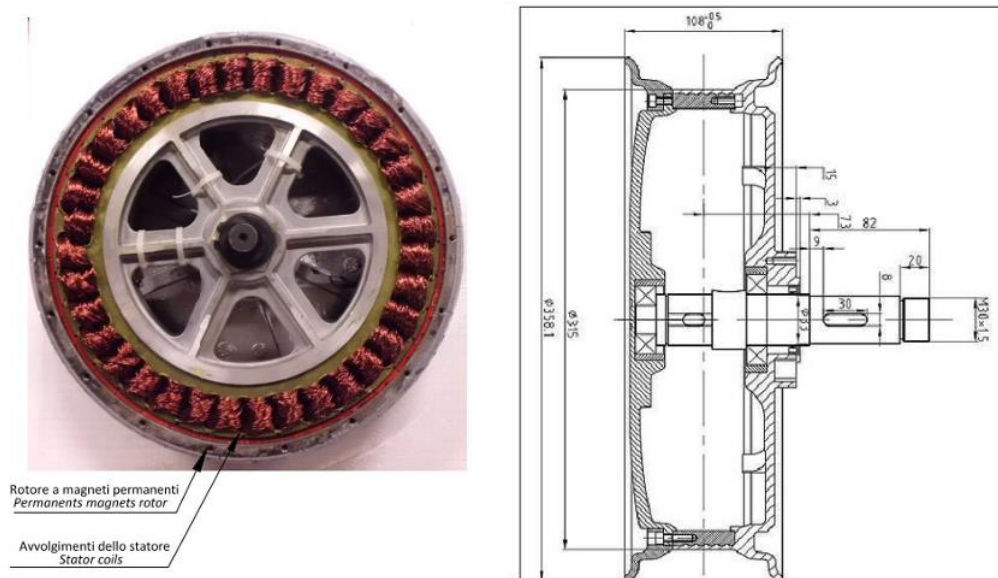
Vitesse de rotation du moteur synchrone,  $n$  en  $\text{tr} \cdot \text{min}^{-1}$   
Fréquence du courant d'alimentation,  $f$  en Hz  
Nombre de paires de pôles  $p$

## DT2.7 – Moteur roue

Le véhicule MOBYTEC est équipé de moteurs-roues : il s'agit de moteurs synchrones à aimants permanents incorporés dans la roue du véhicule à rotor extérieur.

L'intérêt principal du moteur-roue est de se passer des systèmes de transmissions et de leurs pertes énergétiques. Cela permet aussi de libérer du volume dans le véhicule, utilisable pour stocker de l'énergie.

Le moteur-roue permet également un contrôle séparé du couple, ce qui rend possible la réalisation d'un différentiel électrique. Une vue en coupe du moteur est présentée ci-dessous :



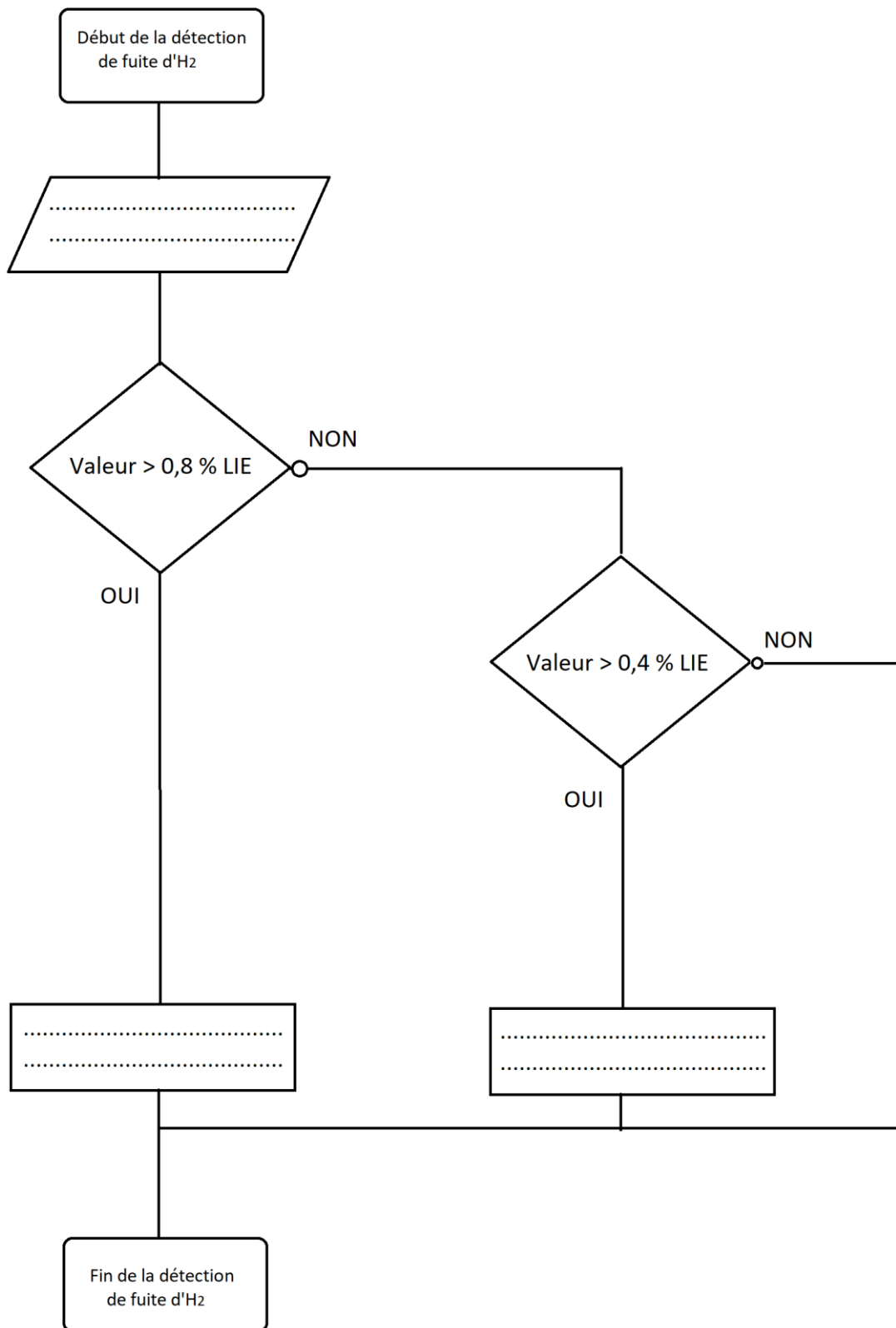
## DT2.8 – Technologies de batteries pour véhicules électriques

Lors du choix d'une technologie de batterie, l'objectif principal est de trouver le meilleur compromis possible entre le poids de la batterie, sa capacité de stockage, son coût de revient, sa durée de vie, sa faculté de recharge et son empreinte environnementale, notamment au moment du recyclage.

Tableau de caractéristiques des différentes technologies de batteries

Technologie	Énergie massique spécifique (W·h·kg <sup>-1</sup> )	Énergie volumique moyenne (W·h·l <sup>-1</sup> )	Puissance massique en pointe (W·h·kg <sup>-1</sup> )	Durée de vie (Nb de recharges)	Coût par W·h
Plomb, acide ou gel	35	100	180	1000	0,2
Lithium ion Li-ion	118-250	200-400	200-430	2000	0,65
Lithium fer phosphate LiFeMgPO4	120	220	2000-4500	> 2000	0,9

## DR2.1 – Algorithme de détection de fuite d'hydrogène







## DR2.2 – Grandeurs mécaniques mises en jeu

Le tableau ci-dessous récapitule, pour chaque situation, les efforts appliqués au véhicule, le couple et la puissance que doivent fournir les moteurs ainsi que leur vitesse de rotation.

Situation	N°1 : Terrain plat et vitesse maximale	N°2 : Rampe de 8 % ( $\alpha = 4,57^\circ$ ) et vitesse de 30 km·h <sup>-1</sup>	N°3 : Accélération à plat (de 0 à 30 km·h <sup>-1</sup> en 15 s)
$F_{\text{roul}}$ (N)	77	54	52
$F_{\text{aéro}}$ (N)	54	27	12
$F_{\text{pente}}$ (N) = $m \cdot g \cdot \sin(\alpha)$  Rappel : $g = 9,81 \text{ m}\cdot\text{s}^{-2}$	.....	.....	0
$F_{\text{accél}}$ (N)	0	0	305
$F_{\text{mot}}$ (N) = $F_{\text{aéro}} + F_{\text{roul}} + F_{\text{pente}} + F_{\text{accél}}$	.....	.....	369
Couple à fournir par les moteurs  $C_{\text{mot}}$ (N·m)	35	135	101
Vitesse de rotation des moteurs  $N_{\text{mot}}$ (tr·min <sup>-1</sup> )	400	$400 \times (30 \div 43) = 279$	$400 \times (30 \div 43) = 279$
Vitesse de rotation des moteurs  $\Omega_{\text{mot}}$ (rad·s <sup>-1</sup> )	.....	.....	29,22
Puissance à fournir par les moteurs  $P_{\text{mot}}$ (kW)	.....	.....	2,95

