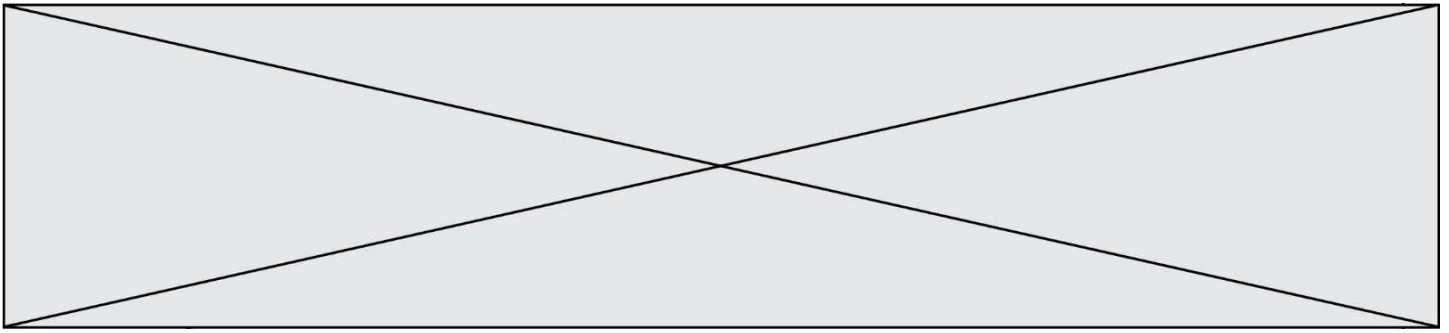


**TRAINING!**

**BAC BLANC**

**ENSEIGNEMENT  
SCIENTIFIQUE**

**TERMINALE  
GÉNÉRALE**



## Exercice 1 - La lutte contre un ravageur des cultures

Sur 10 points

L'aleurode du tabac (*Bemisia tabaci*) est un insecte qui se répand actuellement de manière importante dans de nombreuses régions du monde. Cet insecte suce la sève de plusieurs familles de plantes cultivées : Cucurbitacées, Fabacées, Malvacées ou Liliacées par exemple. Les dégâts occasionnés sont nombreux : déformation des feuilles, prolifération de champignons ou encore vecteur de virus.



**Aleurodes du tabac adultes, suçant la sève d'une feuille**

(taille : entre 1 et 3 mm de long)

1- À partir des connaissances et du document 1, rédiger un paragraphe argumenté expliquant pourquoi l'aleurode du tabac est qualifié de « ravageur des cultures » et pourquoi la lutte contre ce dernier constitue un enjeu alimentaire et économique à l'échelle mondiale.

Modèle CCYC : ©DNE

Nom de famille (naissance) :


(Suivi s'il y a lieu, du nom d'usage)

Prénom(s) :

N° candidat :  N° d'inscription :

(Les numéros figurent sur la convocation.)

Né(e) le :  /  /



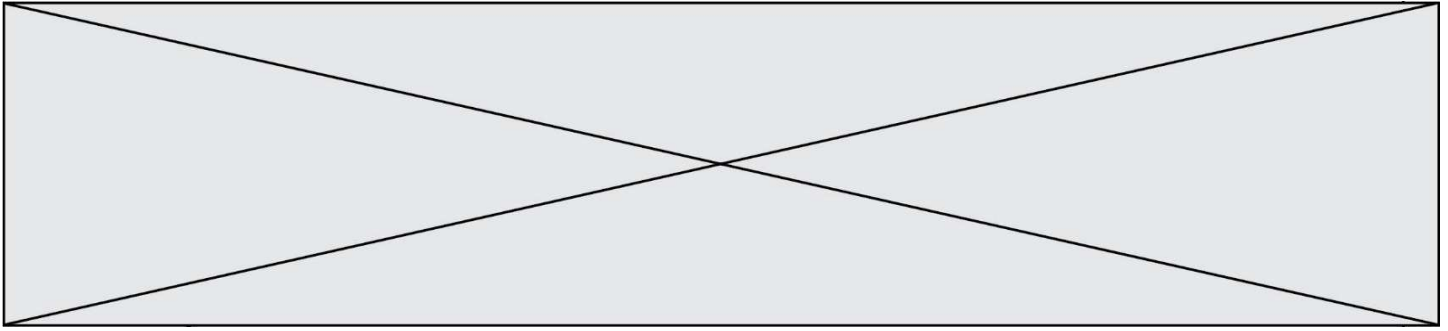
1.1

**Document 1 : caractéristiques biologiques de quelques plantes cultivées**

Nom scientifique	Nom commun	Famille	Utilisation par les humains
<i>Gossypium hirsutum</i>	Coton	Malvacée	Fibre végétale qui entoure les graines, utilisée pour fabriquer du tissu. Culture à forts enjeux économiques, notamment en Afrique et aux USA.
<i>Vigna unguiculata</i>	Niébé	Fabacée	Consommation des graines et gousses. Plante traditionnelle à très forte importance alimentaire en Afrique de l'Ouest.
<i>Alium cepa</i>	Oignon	Liliacée	Consommation des bulbes. Plante traditionnelle à très forte importance alimentaire dans de nombreuses régions du monde.

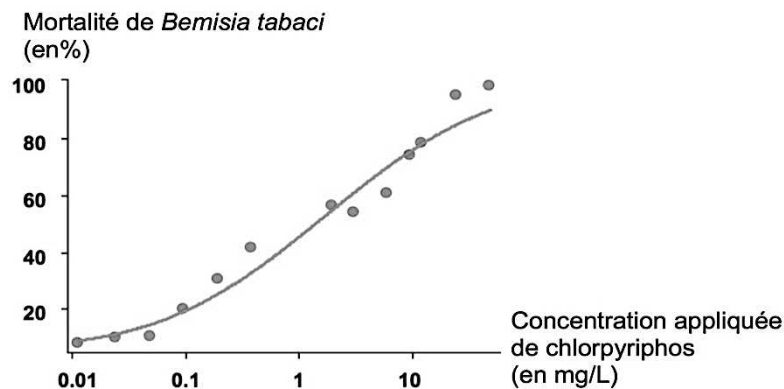
Source : Bonny et al. (2017). *Biotechnol. Agron. Soc. Environ.* 21(4), 288-304.

2- D'après le document 2, comparer le taux de mortalité de l'aleurode du tabac avec une dose de pesticide appliquée de 10 mg/L et de 0,1 mg/L.



**Document 2 : utilisation du pesticide chlorpyriphos et mortalité de l'aleurode du tabac (*Bemisia tabaci*).**

Les points du graphe représentent les données expérimentales, sur lesquels on a ajouté une courbe de tendance en trait continu.



Source : Houndété et al. (2010). *Pesticide Biochemistry and Physiology*.

3- À l'aide des données du document 3, montrer que la population d'aleurode du tabac évolue au cours du temps.

**Document 3 : extrait d'un article de presse**

Il existe une trentaine de variétés d'aleurodes dans le monde. Celle qui inquiète actuellement (...) résiste à plusieurs familles de pesticides. Les ravageurs développent généralement une résistance à une seule famille de produits chimiques, restant vulnérables aux autres moyens d'action.

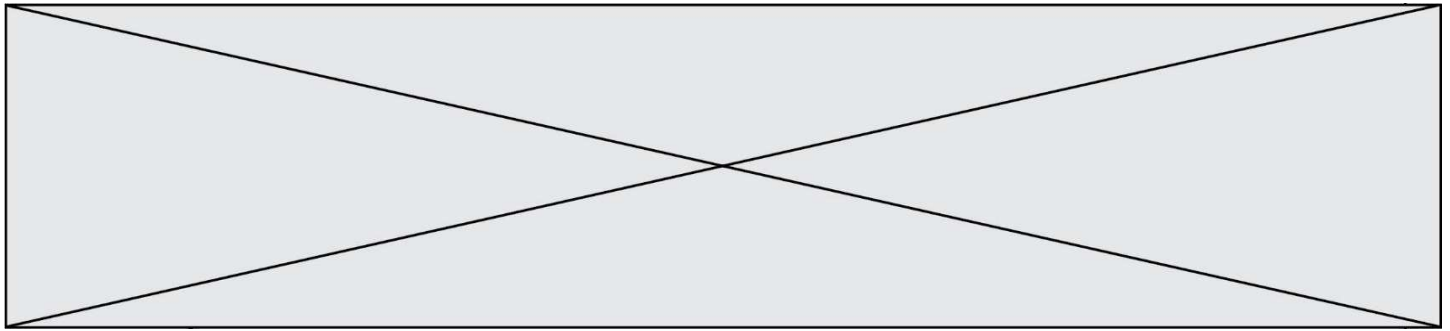
Le problème est apparu aux États-Unis dès les années 1940, quelque temps à peine après l'introduction des pesticides dans l'agriculture. Généralement, la résistance provient d'une mutation. « Soit la structure de la protéine à laquelle s'attaque le pesticide est modifiée, soit le système nerveux produit plus de détoxifiants, ce qui aide l'insecte à mieux résister à l'agression d'un agent précis », explique Chriss Brass, chercheur à l'université d'Exeter. »

Source : Celnik, N. (2016, 20 août). Des insectes résistants aux pesticides inquiètent les États-Unis. *Le Monde*. Modifié.

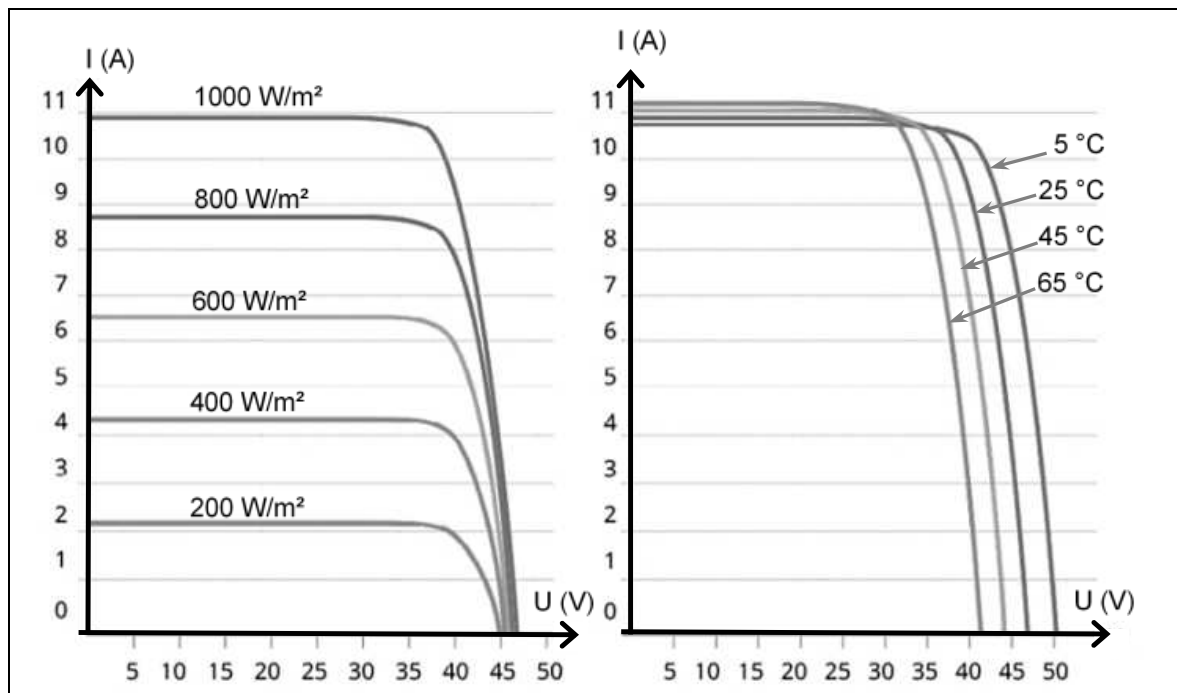
4- Grâce aux connaissances, expliquer en quoi l'utilisation de produits phytosanitaires favorise le développement de ravageurs de culture résistants.

Fin de l'exercice





**Document 2 :** courbes représentatives types de l'intensité  $I$  en fonction de la tension  $U$  aux bornes d'un panneau photovoltaïque, selon l'éclairement reçu pour l'une (à température donnée), selon la température de fonctionnement pour l'autre (à éclairement donné).



Source : <http://www.photowatt.com>

**Document 3 :** production du silicium.

La très grande majorité des panneaux solaires sont constitués de silicium cristallin, élément que l'on extrait du sable ou du quartz. En 1990, la production mondiale de silicium de qualité « métallique » atteignait 800 000 tonnes. Seulement 4 % a obtenu la qualité électronique. Après les dernières étapes de purification et d'importants déchets de fabrication, seulement 0,4 % a fini dans des cellules photovoltaïques et 0,1 % dans des composants électroniques. Il aura fallu utiliser plus de 100 000 tonnes de chlore et 200 000 tonnes d'acides et solvant divers dont le traitement n'était pas assuré à l'époque. La pollution constatée atteste que ces effluents toxiques ont été rejetés dans l'environnement, polluant les nappes phréatiques.

D'après : <https://ecoinfo.cnrs.fr/2010/10/20/5-impacts/>

Modèle CCYC : ©DNE

Nom de famille (naissance) :


(Suivi s'il y a lieu, du nom d'usage)

Prénom(s) :

N° candidat :  N° d'inscription :

(Les numéros figurent sur la convocation.)

Né(e) le :  /  /

 Liberté • Égalité • Fraternité  
RÉPUBLIQUE FRANÇAISE

1.1

- 1- Décrire la chaîne de transformation énergétique représentant la conversion d'énergie qui a lieu dans une cellule photovoltaïque.
- 2- Définir le rendement d'une cellule photovoltaïque.
- 3- Calculer la surface totale des panneaux photovoltaïques du projet Tresserre évoqué dans le document 1.
- 4- Montrer que la puissance moyenne délivrée, en watt, pour un mètre carré de panneau photovoltaïque est de 122 W dans les conditions du projet de Tresserre.
- 5- Calculer le rendement de l'installation.
- 6- Sachant que la puissance est le produit de la tension  $U$  et de l'intensité  $I$ , indiquer deux paramètres (autres que  $U$  ou  $I$ ) influençant la puissance délivrée et préciser leur influence sur la puissance produite.
- 7- Présenter de façon argumentée les avantages et les inconvénients de l'agrivoltaïsme dans la cadre de la transition énergétique.

Fin de l'exercice