

**TRAINING!**

**2021-2022**

**HISTOIRE  
GÉOGRAPHIE**

**PREMIÈRE  
GÉNÉRALE**



**Première partie : question problématisée (sur 10 points)**

Quels sont les rapports entre l'Empire napoléonien et l'Europe de 1804 à 1815 ?

Vous montrerez d'abord comment l'Empire diffuse les idées révolutionnaires, puis comment les peuples et les souverains étrangers réagissent.

**Deuxième partie : réalisation d'une production graphique (sur 10 points)**

Le sujet comporte deux annexes (légende et fond de carte) à rendre avec la copie.


Sujet – Le poids croissant des métropoles

Consigne :

À partir du texte, vous construirez, à l'aide du fond de carte fourni, un croquis correspondant au sujet suivant : « Le poids croissant des métropoles », accompagné d'une légende organisée.

*Les métropoles, centres décisionnels mondiaux*

Le processus de métropolisation se manifeste par la concentration de la richesse produite et des activités dans un certain nombre de métropoles. Ces dernières regroupent des fonctions décisionnelles qui ont un rayonnement à l'échelle mondiale (grande place financière, grande zone industrialo-portuaire...). Au sommet de la hiérarchie des métropoles, on trouve les métropoles de rang mondial : New York, Tokyo, Londres, Paris, Chicago, Los Angeles, Singapour et Séoul. Dans les pays émergents, de nouvelles

|   |   |  |  |   |  |  |   |  |  |  |                    |  |  |  |  |  |  |  |  |  |
|---|---|--|--|---|--|--|---|--|--|--|--------------------|--|--|--|--|--|--|--|--|--|
| Modèle CCYC : ©DNE  |   |  |  |   |  |  |   |  |  |  |                    |  |  |  |  |  |  |  |  |  |
| Nom de famille (naissance) :<br><small>(Suivi s'il y a lieu, du nom d'usage)</small>  |   |  |  |   |  |  |   |  |  |  |                    |  |  |  |  |  |  |  |  |  |
| Prénom(s) :   |   |  |  |   |  |  |   |  |  |  |                    |  |  |  |  |  |  |  |  |  |
| N° candidat :   |   |  |  |   |  |  |   |  |  |  | N° d'inscription : |  |  |  |  |  |  |  |  |  |
| <br><small>Liberté • Égalité • Fraternité</small><br>RÉPUBLIQUE FRANÇAISE | <small>(Les numéros figurent sur la convocation.)</small> |  |  |   |  |  |   |  |  |  |                    |  |  |  |  |  |  |  |  |  |
|   | Né(e) le :  |  |  | / |  |  | / |  |  |  |                    |  |  |  |  |  |  |  |  |  |

1.1

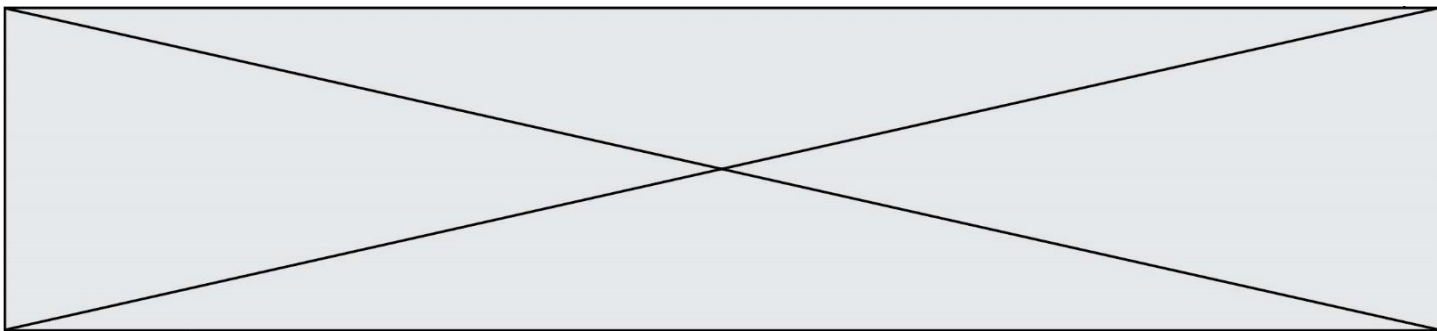
métropoles s'affirment de plus en plus comme Shanghai, Johannesburg, Sao Paulo ou Buenos Aires.

### *Des métropoles au cœur de vastes régions urbaines*

Il existe dans le monde des ensembles urbains où la densité des métropoles est telle qu'elles tendent à se rejoindre, formant des régions au poids démographique particulièrement important : les mégalo-poles. Ces ensembles urbains à la dimension spatiale remarquable exercent un rayonnement mondial. Les plus importantes sont la *mégalo-polis* du Nord Est des États-Unis, la mégalo-pole européenne et la mégalo-pole japonaise.

### *Des métropoles en réseaux*

Ces mégalo-poles entretiennent entre elles des relations qui se manifestent par des flux de nature diverse (flux d'informations, de capitaux et de marchandises). On peut distinguer des flux principaux entre l'Amérique du Nord, l'Union européenne et l'Asie orientale, qui forment un anneau reliant ces trois premiers pôles de croissance de l'espace mondial, et des flux secondaires entre ces trois pôles et les aires économiques secondaires entraînées par les métropoles de rang inférieur.




Modèle CCYC : ©DNE

**Nom de famille** (naissance) :

*(Suivi s'il y a lieu, du nom d'usage)*

**Prénom(s)** :

**N° candidat** :  **N° d'inscription** :

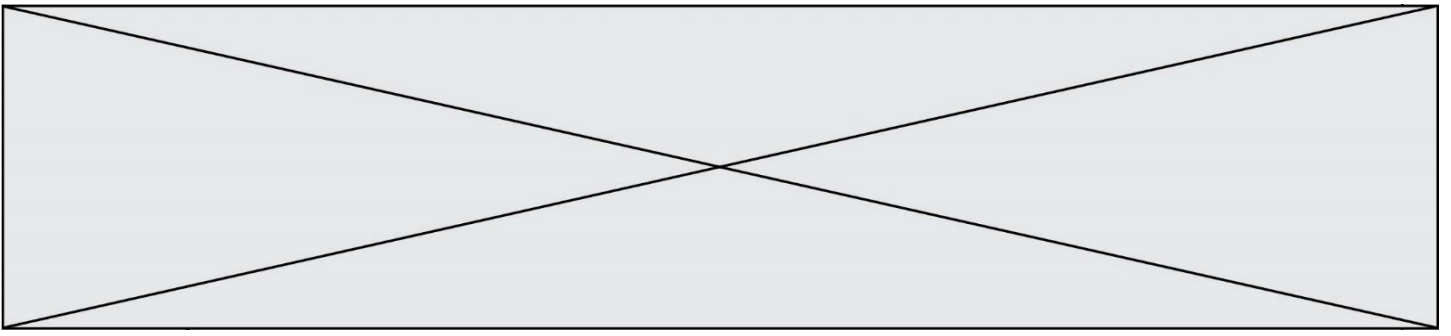
  
Liberté • Égalité • Fraternité  
RÉPUBLIQUE FRANÇAISE

**Né(e) le** :  /  /

(Les numéros figurent sur la convocation.)

1.1

## Annexe 1 – Légende



Modèle CCYC : ©DNE

Nom de famille (naissance) :

(Suivi s'il y a lieu, du nom d'usage)

Prénom(s) :

N° candidat :

N° d'inscription :



Liberté • Égalité • Fraternité  
RÉPUBLIQUE FRANÇAISE

(Les numéros figurent sur la convocation.)

Né(e) le :

1.1

Annexe 2 – Fond de carte

