

PREMIÈRE

Enseignement de Spécialité

Évaluations Communes



Numériques

&

Sciences Informatiques

SUJET

2019 • 2020

 www.freemaths.fr

Modèle CCYC : ©DNE

Nom de famille (naissance) :


(Suivi s'il y a lieu, du nom d'usage)

Prénom(s) :

N° candidat : N° d'inscription :

(Les numéros figurent sur la convocation.)

Né(e) le : / /



Liberté • Égalité • Fraternité
RÉPUBLIQUE FRANÇAISE

1.1

ÉPREUVES COMMUNES DE CONTRÔLE CONTINU

CLASSE : Première

VOIE : Générale Technologique Toutes voies (LV)

ENSEIGNEMENT : spécialité Numérique et Sciences Informatiques (NSI)

DURÉE DE L'ÉPREUVE : 02 h 00

Niveaux visés (LV) : LVA LVB

Axes de programme :

CALCULATRICE AUTORISÉE : Oui Non

DICTIONNAIRE AUTORISÉ : Oui Non

Ce sujet contient des parties à rendre par le candidat avec sa copie. De ce fait, il ne peut être dupliqué et doit être imprimé pour chaque candidat afin d'assurer ensuite sa bonne numérisation.

Ce sujet intègre des éléments en couleur. S'il est choisi par l'équipe pédagogique, il est nécessaire que chaque élève dispose d'une impression en couleur.

Ce sujet contient des pièces jointes de type audio ou vidéo qu'il faudra télécharger et jouer le jour de l'épreuve.

Nombre total de pages : 18

L'épreuve consiste en 42 questions, rangées en 7 thèmes.

Pour chaque question, le candidat gagne 3 points s'il choisit la bonne réponse, perd 1 point s'il choisit une réponse fautive. S'il ne répond pas ou choisit plusieurs réponses, il ne gagne ni ne perd aucun point.

Le total sur chacun des 7 thèmes est ramené à 0 s'il est négatif.

La note finale s'obtient en divisant le total des points par 6,3 et en arrondissant à l'entier supérieur.

Le candidat indique ses réponses aux questions en pages 2 et 3.

Seules les pages 1 à 4 sont rendues par le candidat à la fin de l'épreuve, pour être numérisées.

Les questions figurent sur les pages suivantes.



Thème A : types de base

- | | | | | |
|-------------------------|----------------------------|----------------------------|----------------------------|----------------------------|
| Réponse à la question 1 | A <input type="checkbox"/> | B <input type="checkbox"/> | C <input type="checkbox"/> | D <input type="checkbox"/> |
| Réponse à la question 2 | A <input type="checkbox"/> | B <input type="checkbox"/> | C <input type="checkbox"/> | D <input type="checkbox"/> |
| Réponse à la question 3 | A <input type="checkbox"/> | B <input type="checkbox"/> | C <input type="checkbox"/> | D <input type="checkbox"/> |
| Réponse à la question 4 | A <input type="checkbox"/> | B <input type="checkbox"/> | C <input type="checkbox"/> | D <input type="checkbox"/> |
| Réponse à la question 5 | A <input type="checkbox"/> | B <input type="checkbox"/> | C <input type="checkbox"/> | D <input type="checkbox"/> |
| Réponse à la question 6 | A <input type="checkbox"/> | B <input type="checkbox"/> | C <input type="checkbox"/> | D <input type="checkbox"/> |

Thème B : types construits

- | | | | | |
|-------------------------|----------------------------|----------------------------|----------------------------|----------------------------|
| Réponse à la question 1 | A <input type="checkbox"/> | B <input type="checkbox"/> | C <input type="checkbox"/> | D <input type="checkbox"/> |
| Réponse à la question 2 | A <input type="checkbox"/> | B <input type="checkbox"/> | C <input type="checkbox"/> | D <input type="checkbox"/> |
| Réponse à la question 3 | A <input type="checkbox"/> | B <input type="checkbox"/> | C <input type="checkbox"/> | D <input type="checkbox"/> |
| Réponse à la question 4 | A <input type="checkbox"/> | B <input type="checkbox"/> | C <input type="checkbox"/> | D <input type="checkbox"/> |
| Réponse à la question 5 | A <input type="checkbox"/> | B <input type="checkbox"/> | C <input type="checkbox"/> | D <input type="checkbox"/> |
| Réponse à la question 6 | A <input type="checkbox"/> | B <input type="checkbox"/> | C <input type="checkbox"/> | D <input type="checkbox"/> |

Thème C : traitement de données en tables

- | | | | | |
|-------------------------|----------------------------|----------------------------|----------------------------|----------------------------|
| Réponse à la question 1 | A <input type="checkbox"/> | B <input type="checkbox"/> | C <input type="checkbox"/> | D <input type="checkbox"/> |
| Réponse à la question 2 | A <input type="checkbox"/> | B <input type="checkbox"/> | C <input type="checkbox"/> | D <input type="checkbox"/> |
| Réponse à la question 3 | A <input type="checkbox"/> | B <input type="checkbox"/> | C <input type="checkbox"/> | D <input type="checkbox"/> |
| Réponse à la question 4 | A <input type="checkbox"/> | B <input type="checkbox"/> | C <input type="checkbox"/> | D <input type="checkbox"/> |
| Réponse à la question 5 | A <input type="checkbox"/> | B <input type="checkbox"/> | C <input type="checkbox"/> | D <input type="checkbox"/> |
| Réponse à la question 6 | A <input type="checkbox"/> | B <input type="checkbox"/> | C <input type="checkbox"/> | D <input type="checkbox"/> |

Thème D : interactions entre l'homme et la machine sur le Web

- | | | | | |
|-------------------------|----------------------------|----------------------------|----------------------------|----------------------------|
| Réponse à la question 1 | A <input type="checkbox"/> | B <input type="checkbox"/> | C <input type="checkbox"/> | D <input type="checkbox"/> |
| Réponse à la question 2 | A <input type="checkbox"/> | B <input type="checkbox"/> | C <input type="checkbox"/> | D <input type="checkbox"/> |
| Réponse à la question 3 | A <input type="checkbox"/> | B <input type="checkbox"/> | C <input type="checkbox"/> | D <input type="checkbox"/> |
| Réponse à la question 4 | A <input type="checkbox"/> | B <input type="checkbox"/> | C <input type="checkbox"/> | D <input type="checkbox"/> |
| Réponse à la question 5 | A <input type="checkbox"/> | B <input type="checkbox"/> | C <input type="checkbox"/> | D <input type="checkbox"/> |
| Réponse à la question 6 | A <input type="checkbox"/> | B <input type="checkbox"/> | C <input type="checkbox"/> | D <input type="checkbox"/> |

Modèle CCYC : ©DNE

Nom de famille (naissance) :


(Suivi s'il y a lieu, du nom d'usage)

Prénom(s) :

N° candidat : N° d'inscription :

(Les numéros figurent sur la convocation.)

Né(e) le : / /



RÉPUBLIQUE FRANÇAISE

1.1

Thème E : architectures matérielles et systèmes d'exploitation

- Réponse à la question 1 A B C D
- Réponse à la question 2 A B C D
- Réponse à la question 3 A B C D
- Réponse à la question 4 A B C D
- Réponse à la question 5 A B C D
- Réponse à la question 6 A B C D

Thème F : langages et programmation

- Réponse à la question 1 A B C D
- Réponse à la question 2 A B C D
- Réponse à la question 3 A B C D
- Réponse à la question 4 A B C D
- Réponse à la question 5 A B C D
- Réponse à la question 6 A B C D

Thème G : algorithmique

- Réponse à la question 1 A B C D
- Réponse à la question 2 A B C D
- Réponse à la question 3 A B C D
- Réponse à la question 4 A B C D
- Réponse à la question 5 A B C D
- Réponse à la question 6 A B C D



Modèle CCYC : ©DNE

Nom de famille (naissance) :

(Suivi s'il y a lieu, du nom d'usage)

Prénom(s) :

N° candidat : N° d'inscription :

(Les numéros figurent sur la convocation.)

Né(e) le : / /



1.1

Thème A : types de base

Question A.1

Soit n l'entier dont la représentation binaire en complément à deux codée sur 8 bits est 0110 1110.
Quelle est la représentation binaire de $-n$?

Réponses

- A 0001 0001
- B 0001 0010
- C 1001 0001
- D 1001 0010

Question A.2

Parmi les quatre expressions suivantes, laquelle s'évalue en True ?

Réponses

- A False and (True and False)
- B False or (True and False)
- C True and (True and False)
- D True or (True and False)

Question A.3

À quoi sert le codage en complément à 2 ?

Réponses

- A à inverser un nombre binaire
- B à coder des nombres entiers négatifs en binaire
- C à convertir un nombre en hexadécimal
- D à multiplier par 2 un nombre en binaire

Question A.4

On exécute le code suivant

```
a = 2
b = 3
c = a ** b
d = c % b
```

Quelle est la valeur de d à la fin de l'exécution ?

Réponses

- A 1
- B 2
- C 3
- D 4

Question A.5

Parmi les noms suivants, lequel **n'est pas** celui d'une méthode d'encodage des caractères ?

Réponses

- A UTF-16
- B ASCII
- C Arial
- D Unicode




Question A.6

La variable x contient la valeur 3, la variable y contient la variable 4.

Quelle expression s'évalue en True parmi les quatre propositions suivantes ?

Réponses

- A $x == 3$ or $y == 5$
- B $x == 3$ and $y == 5$
- C $x != 3$ or $y == 5$
- D $y < 4$

Modèle CCYC : ©DNE																				
Nom de famille (naissance) : <small>(Suivi s'il y a lieu, du nom d'usage)</small>																				
Prénom(s) :																				
N° candidat :											N° d'inscription :									
 <small>Liberté • Égalité • Fraternité</small> <small>RÉPUBLIQUE FRANÇAISE</small>	<small>(Les numéros figurent sur la convocation.)</small>																			
	Né(e) le :			/			/													

1.1

Thème B : types construits

Question B.1

L est une liste d'entiers.

On définit la fonction suivante :

```
def f(L):
    m = L[0]
    for x in L:
        if x > m:
            m = x
    return m
```

Que calcule cette fonction ?

Réponses

- A le maximum de la liste L passée en argument
- B le minimum de la liste L passée en argument
- C le premier terme de la liste L passée en argument
- D le dernier terme de la liste L passée en argument

Question B.2

On considère le code suivant :

```
t = [1, 6, 8, 3, 21]
u = [x for x in t if x > 3]
```

Que vaut u à la fin de son exécution ?

Réponses

- A [1, 6, 8, 21]
- B [6, 8, 3, 21]
- C [6, 8, 21]
- D [1, 3, 6, 21]

Question B.3

On exécute le code suivant :

```
t = [1,2,3,4,5,6,7,8,9]
v = [c for c in t if c%3 == 0]
```

Quelle est la valeur de la variable v à la fin de cette exécution ?

Réponses

- A 18
- B [1,4,7]
- C [3,6,9]
- D [1,2,3,4,5,6,7,8,9]



Question B.4

On a défini : $T = [[1,2,3], [4,5,6], [7,8,9]]$.

Quelle expression parmi les suivantes a pour valeur le nombre 8 ?

Réponses

- A $T[1,2]$
- B $T[1][2]$
- C $T[2,1]$
- D $T[2][1]$

Question B.5

Quelle est la valeur de la variable r à la fin de l'exécution du script suivant ?

```
t = (10,6,1,12,15)
```

```
r = t[3] - t[1]
```

Réponses

- A -9
- B 2
- C 3
- D 6

Question B.6

On définit le dictionnaire $d = \{'a': 1, 'b': 2, 'c': 3, 'z': 26\}$. Quelle expression permet de récupérer la valeur de la clé 'z' ?

Réponses

- A $d[4]$
- B $d[26]$
- C $d[z]$
- D $d['z']$

Modèle CCYC : ©DNE

Nom de famille (naissance) :


(Suivi s'il y a lieu, du nom d'usage)

Prénom(s) :

N° candidat : N° d'inscription :

(Les numéros figurent sur la convocation.)

Né(e) le : / /

 Liberté • Égalité • Fraternité
RÉPUBLIQUE FRANÇAISE

1.1

Thème C : traitement de données en tables

Question C.1

On exécute le code suivant :

```
dict = { "alexandre" : 17, "mehdi" : 18, "jeanne" : 16,
        "charlotte" : 19, "celina" : 18, "noé" : 19 }
```

```
def f(dic):
    for cle, valeur in dic.items():
        if valeur > 18:
            return cle
```

Que renvoie l'appel f(dict) ?

Réponses

- A 19
- B 19,19
- C "charlotte"
- D "charlotte","noé"

Question C.2

On a extrait les deux premières lignes de différents fichiers.
Déterminer celui qui est un authentique fichier CSV :

Réponses

- A Nom,Pays,Temps
Camille Muffat,France,241.45
- B Nom Pays Temps
Camille Muffat France 241.45
- C [
{"Nom": "Camille Muffat", "Pays": "France", "Temps": 241.45},
- D [
{ Nom: "Camille Muffat", Pays: "France", Temps: 241.45},

Question C.3

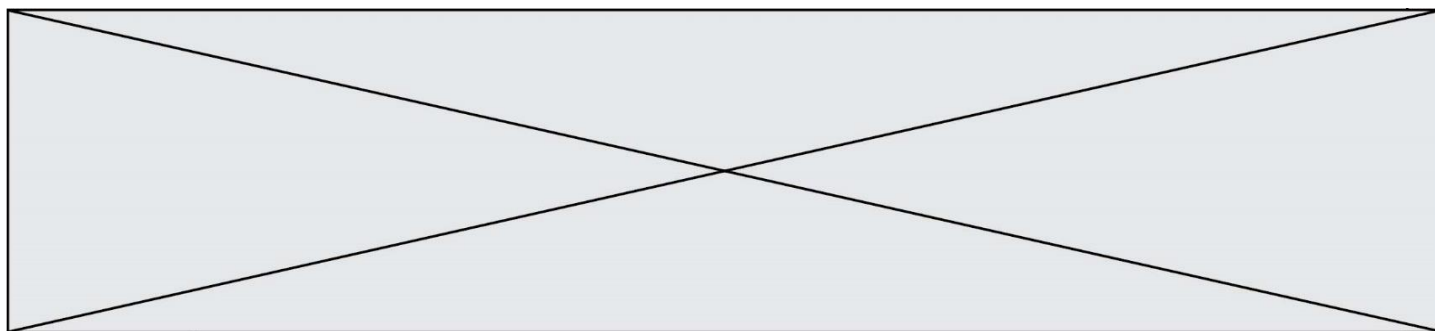
On considère la table suivants :

```
t = [ {'type': 'marteau', 'prix': 17, 'quantité': 32},
      {'type': 'scie', 'prix': 24, 'quantité': 3},
      {'type': 'tournevis', 'prix': 8, 'quantité': 45} ]
```

Quelle expression permet d'obtenir la quantité de scies ?

Réponses

- A t[2]['quantité']
- B t[1]['quantité']
- C t['quantité'][1]
- D t['scies']['quantité']



Question C.4

On a défini :

```
mendeleiev = [ ['H', '.', '!', '!', '!', '!', '!', '!', 'He'],  
              ['Li', 'Be', 'B', 'C', 'N', 'O', 'F', 'Ne'],  
              ['Na', 'Mg', 'Al', 'Si', 'P', 'S', 'Cl', 'Ar'],  
              ..... ]
```

Une erreur s'est glissée dans le tableau, car le symbole du Fluor est F et non FI. Quelle instruction permet de rectifier ce tableau ?

Réponses

- A `mendeleiev.append('F')`
- B `mendeleiev[1][6] = 'F'`
- C `mendeleiev[6][1] = 'F'`
- D `mendeleiev[-1][-1] = 'F'`

Question C.5

On a défini deux tables de données :

```
data1 = [('Bruce', 'Wayne'), ('Chuck', 'Norris'), ('Bruce', 'Lee'), ('Clark', 'Kent')]  
data2 = [('Diana', 'Prince'), ('Chuck', 'Norris'), ('Peter', 'Parker')]
```

Quelle instruction permet de construire une table data regroupant l'ensemble des informations de data1 et data2 ?

Réponses

- A `data = data1 + data2`
- B `data == data1 + data2`
- C `data = [element for element in data1 or data2]`
- D `data = [data1] + [data2]`

Question C.6

On exécute le script suivant :

```
a = [1, 2, 3]  
b = [4, 5, 6]  
c = a + b
```

Que contient la variable c à la fin de cette exécution ?

Réponses

- A `[5,7,9]`
- B `[1,4,2,5,3,6]`
- C `[1,2,3,4,5,6]`
- D `[1,2,3,5,7,9]`

Modèle CCYC : ©DNE																								
Nom de famille (naissance) : <small>(Suivi s'il y a lieu, du nom d'usage)</small>																								
Prénom(s) :																								
N° candidat :											N° d'inscription :													
 RÉPUBLIQUE FRANÇAISE	<small>(Les numéros figurent sur la convocation.)</small>																							
	Né(e) le :			/			/																	

1.1

Thème D : interactions entre l'homme et la machine sur le Web

Question D.1

Parmi les réponses suivantes, que permet d'effectuer la méthode POST du protocole HTTP ?

Réponses

- A Définir le style d'une page web
- B Pirater des données bancaire
- C Envoyer une page web vers le client
- D Envoyer les données saisies dans un formulaire HTML vers un serveur

Question D.2

Les pages HTML sont affichées par ...

Réponses

- A le compilateur
- B le serveur
- C l'interpréteur
- D le navigateur Web

Question D.3

onmouseover est une méthode qui permet de traiter un événement de quel type ?

Réponses

- A l'appui d'une touche du clavier
- B un clic sur un bouton de souris
- C un mouvement de la souris
- D le survol par la souris d'un élément de la page

Question D.4

On considère le formulaire ci-dessous :

Quel est votre langage préféré ?

Python Java Php

Quelle balise parmi les quatre suivantes a été utilisée pour les cases à cocher ?

Réponses

- A `<input type="radio">`
- B `<input type="circle">`
- C `<input type="checkbox">`
- D `<input type="square">`

Question D.5

Parmi les propriétés suivantes d'une balise `<button />` dans une page HTML, laquelle doit être rédigée en langage JavaScript ?

Réponses

- A la propriété name
- B la propriété type
- C la propriété onclick
- D la propriété id



Question D.6

On considère cet extrait de fichier HTML représentant les onglets d'une barre de navigation :

```
<ul id="tab-nav">  
  <li><a href="onglet1.html" class="tab-nav-active">Onglet 1</a></li>  
  <li><a href="onglet2.html">Onglet 2</a></li>  
  <li><a href="onglet3.html">Onglet 3</a></li>  
</ul>
```

Quel code CSS permet de mettre en bleu la couleur de fond des onglets et uniquement eux ?

Réponses

- A tab-nav a { background-color : blue; }
- B tab-nav, a { background-color : blue; }
- C #tab-nav a { background-color : blue; }
- D #tab-nav, a { background-color : blue; }

Modèle CCYC : ©DNE

Nom de famille (naissance) :

(Suivi s'il y a lieu, du nom d'usage)

Prénom(s) :

N° candidat : N° d'inscription :

(Les numéros figurent sur la convocation.)

Né(e) le : / /

 Liberté • Égalité • Fraternité
RÉPUBLIQUE FRANÇAISE

1.1

Thème E : architectures matérielles et systèmes d'exploitation

Question E.1

Parmi les commandes suivantes, laquelle permet à n'importe quel utilisateur d'exécuter le fichier appelé jeu ?

Réponses

- A chmod u+x jeu
- B chmod u+rx jeu
- C chmod a+x jeu
- D chmod a-x jeu

Question E.2

La commande suivante vient d'être exécutée en ligne de commande sous Linux :

```
cp /users/luc/interro.txt ./
```

Que réalise cette commande ?

Réponses

- A copie du fichier users vers le répertoire luc
- B copie du fichier interro.txt vers le répertoire luc
- C copie du fichier interro.txt vers le répertoire courant
- D copie du fichier interro.txt vers le répertoire users

Question E.3

Que peut-on dire du système de fichier, suite à l'exécution des commandes suivantes ?

```
% cd
% ls
Documents Images Videos help.txt tutorial.txt script.py
% mv *.txt Documents
```

Réponses

- A L'utilisateur Documents a pris possession des fichiers help.txt et tutorial.txt
- B Le répertoire /Documents contient maintenant les fichiers help.txt et tutorial.txt
- C Le répertoire Documents du répertoire de l'utilisateur contient maintenant les fichiers help.txt et tutorial.txt
- D script.py a été exécuté et a déplacé les fichiers textes

Question E.4

Sous Linux, dans quel but utilise-t-on la commande cat readme.txt ?

Réponses

- A pour supprimer le fichier readme.txt
- B pour copier le fichier readme.txt
- C pour afficher le contenu du fichier readme.txt
- D pour renommer le fichier readme.txt

Question E.5

Dans l'architecture générale de Von Neumann, la partie qui a pour rôle d'effectuer les opérations de base est :

Réponses

- A l'unité de contrôle
- B la mémoire
- C l'unité arithmétique et logique
- D les dispositifs d'entrée-sortie




Question E.6

Une et une seule de ces affirmations est **fausse**. Laquelle ?

Réponses

- A Un système d'exploitation libre est la plupart du temps gratuit
- B Je peux contribuer à un système d'exploitation libre
- C Il est interdit d'étudier un système d'exploitation propriétaire
- D Un système d'exploitation propriétaire est plus sécurisé

Modèle CCYC : ©DNE																				
Nom de famille (naissance) : <small>(Suivi s'il y a lieu, du nom d'usage)</small>																				
Prénom(s) :																				
N° candidat :											N° d'inscription :									
 Liberté • Égalité • Fraternité RÉPUBLIQUE FRANÇAISE	<small>(Les numéros figurent sur la convocation.)</small>																			
	Né(e) le :			/			/													

1.1

Thème F : langages et programmation

Question F.1

La documentation de la bibliothèque random de Python précise que `random.randint(a,b)` renvoie un entier aléatoire N tel que $a \leq N \leq b$.

Afin d'obtenir un entier choisi aléatoirement dans l'ensemble $\{-4 ; -2 ; 0 ; 2 ; 4\}$, après avoir importé la librairie random de Python, on peut utiliser l'instruction :

Réponses

- A `random.randint(0,8)/2`
- B `random.randint(0,8)/2 - 4`
- C `random.randint(0,4)*2 - 2`
- D `(random.randint(0,4) - 2) * 2`

Question F.2

Ce programme ne renvoie pas toujours ses trois arguments dans l'ordre croissant. Parmi les tests suivants, lequel va permettre de détecter l'erreur ?

```
def ranger(a, b, c):
    if a > b :
        a, b = b, a
    if b > c:
        b, c = c, b
    return a, b, c
```

Réponses

- A `ranger(1,2,3)`
- B `ranger(3,4,1)`
- C `ranger(1,3,2)`
- D `ranger(4,2,3)`

Question F.3

On exécute le script suivant :

```
resultat = [0] * 7
```

Que contient la variable `resultat` après son exécution ?

Réponses

- A 0
- B [0]
- C [[0], [0], [0], [0], [0], [0], [0]]
- D [0, 0, 0, 0, 0, 0, 0]

**Question F.4**

Soit T un tableau de flottants, a et b deux entiers. On considère une fonction nommée somme renvoyant la somme des éléments du tableau d'indice compris entre a et b définie par :

```
def somme(T, a, b):
    S = 0
    for i in range(a, b+1) :
        S = S + T[i]
    return S
```

Quel ensemble de préconditions doit-on prévoir pour cette fonction ?

Réponses

- A a < b
- B a < longueur(T) et b < longueur(T)
- C a <= b < longueur(T)
- D a <= b < longueur(T) et T est un tableau trié

Question F.5

On souhaite écrire une fonction qui renvoie le maximum d'une liste d'entiers :

```
def maximum(L):
    m = L[0]
    for i in range(1, len(L)):
        if .....:
            m = L[i]
    return m
```

Par quoi faut-il remplacer les pointillés pour que cette fonction produise bien le résultat attendu ?

Réponses

- A i > m
- B L[i] > m
- C L[i] > L[i-1]
- D L[i] > L[i+1]

Question F.6


On définit la fonction suivante :

```
def f(x,y,z):
    if x+y == z:
        return True
    else:
        return False
```

Quel type de paramètres est-il déconseillé d'utiliser avec cette fonction ?

Réponses

- A les entiers
- B les chaînes de caractères
- C les flottants
- D les tableaux

Modèle CCYC : ©DNE																				
Nom de famille (naissance) : <small>(Suivi s'il y a lieu, du nom d'usage)</small>																				
Prénom(s) :																				
N° candidat :											N° d'inscription :									
 RÉPUBLIQUE FRANÇAISE	<small>(Les numéros figurent sur la convocation.)</small>																			
	Né(e) le :			/			/													

1.1

Thème G : algorithmique

Question G.1

Pour pouvoir utiliser un algorithme de recherche par dichotomie dans une liste, quelle précondition doit être vraie ?

Réponses

- A la liste doit être triée
- B la liste ne doit pas comporter de doublons
- C la liste doit comporter uniquement des entiers positifs
- D la liste doit être de longueur inférieure à 1024

Question G.2

Un algorithme de recherche dichotomique dans une liste triée de taille n nécessite, dans le pire des cas, exactement k comparaisons.

Combien cet algorithme va-t-il utiliser, dans le pire des cas, de comparaisons sur une liste de taille $2n$?

Réponses

- A k
- B $k + 1$
- C $2k$
- D $2k + 1$

Question G.3

On définit la fonction suivante :

```
def traitement(liste) :
    m = liste[0]
    for i in range (len(liste)) :
        if liste[i] > m:
            m = liste[i]
    return m
```

Que vaut traitement([-2,5,6,-10,35]) ?

Réponses

- A None
- B -10
- C -6
- D 35

Question G.4

On considère la fonction suivante :

```
def comptage(phrase,lettre):
    i = 0
    for j in phrase:
        if j == lettre:
            i = i+1
    return i
```

Que renvoie l'appel comptage("Vive l'informatique","e") ?



Réponses

- A 0
- B 2
- C 19
- D 'e'

Question G.5

On considère la fonction suivante :

```
def f(x,L):
    i = 0
    j = len(L)-1
    while i<j:
        k = (i+j)//2
        if x <= L[k]:
            j = k
        else:
            i = k + 1
    return i
```

Cette fonction implémente :

Réponses

- A le tri par insertion
- B le tri par sélection
- C la recherche dichotomique
- D la recherche du plus proche voisin

Question G.6

On suppose qu'au début de l'exécution la variable K contient un entier positif non nul.

Lequel des scripts suivants va boucler indéfiniment ?

Réponses

A

```
i = K+1
while i < K:
    i = i + 1
```

B

```
i = K-1
while i < K:
    i = i - 1
```

C

```
i = K-1
while i < K:
    i = i + 1
```

D

```
i = K+1
while i >= K:
    i = i - 1
```