

SUJET

2020-2021

PHYSIQUE-CHIMIE
POUR LA SANTÉ
SPÉ première ST2S

ÉVALUATIONS
COMMUNES

Modèle CCYC : ©DNE

Nom de famille (naissance) :

(Suivi s'il y a lieu, du nom d'usage)

Prénom(s) :

N° candidat : N° d'inscription :

(Les numéros figurent sur la convocation.)

Né(e) le : / /



Liberté • Égalité • Fraternité
RÉPUBLIQUE FRANÇAISE

1.1

ÉVALUATION COMMUNE

CLASSE : Première ST2S

EC : EC1 EC2 EC3

VOIE : Générale Technologique Toutes voies (LV)

ENSEIGNEMENT : Physique-chimie pour la santé

DURÉE DE L'ÉPREUVE : 2h

Niveaux visés (LV) : LVA LVB

Axes de programme :

CALCULATRICE AUTORISÉE : Oui Non

DICTIONNAIRE AUTORISÉ : Oui Non

Ce sujet contient des parties à rendre par le candidat avec sa copie. De ce fait, il ne peut être dupliqué et doit être imprimé pour chaque candidat afin d'assurer ensuite sa bonne numérisation.

Ce sujet intègre des éléments en couleur. S'il est choisi par l'équipe pédagogique, il est nécessaire que chaque élève dispose d'une impression en couleur.

Ce sujet contient des pièces jointes de type audio ou vidéo qu'il faudra télécharger et jouer le jour de l'épreuve.

Nombre total de pages : 12



Exercice 1 : Perte de poids pour un étudiant (5 points)

Un matin d'été, un étudiant décide d'aller faire un jogging. Il aimerait bien perdre un peu de « poids » avant de partir en vacances avec ses amis.

Document 1 : Caractéristiques physiques de l'étudiant	
Âge (années)	24
Masse (kg)	75
Taille (m)	1,78
Température du corps (°C)	37

Document 2 : Modèle donnant le métabolisme de base en kilocalories d'un être humain
Équation de Harris et Benedict :
$MB(\text{Homme}) = 13,7 \times \text{Masse (kg)} + 4,9 \times \text{Taille (cm)} - 6,7 \times \text{Âge (années)} + 77,6$

Document 3 : Besoins énergétiques quotidiens de l'étudiant selon son activité		
Profil étudiant	Signification	Besoins énergétiques réels
Sédentaire	Aucun exercice quotidien ou presque	$MB \times 1,2$
Légèrement actif	Exercices physiques (1 à 3 fois par semaine)	$MB \times 1,375$
Actif	Exercices physiques réguliers (3 à 5 fois par semaine)	$MB \times 1,55$
Très actif	Sport quotidien ou exercices physiques soutenus	$MB \times 1,725$
Extrêmement actif	Sportif de haut niveau	$MB \times 1,9$

Cet étudiant souhaite comprendre quels peuvent être les différents facteurs qui interagissent pour déterminer la perte de poids.

1. Calculer le métabolisme de base MB (exprimé en kilocalories) de l'étudiant en utilisant les **documents 1 et 2**.

Ce métabolisme de base correspond à l'énergie minimale dont l'étudiant a besoin pour survivre au repos.

2. Sachant que l'étudiant a fait du sport deux fois par semaine durant cette année universitaire, calculer ses besoins énergétiques journaliers réels en utilisant les données du **document 3**.

Modèle CCYC : ©DNE																				
Nom de famille (naissance) : <small>(Suivi s'il y a lieu, du nom d'usage)</small>																				
Prénom(s) :																				
N° candidat :											N° d'inscription :									
 <small>Liberté • Égalité • Fraternité RÉPUBLIQUE FRANÇAISE</small>	<small>(Les numéros figurent sur la convocation.)</small>																			
Né(e) le :			/			/														

1.1

Cet étudiant consomme par semaine en nourriture l'équivalent énergétique de 19635 kcal.

3. Expliquer pourquoi l'étudiant ne peut pas perdre du « poids » en courant deux fois par semaine.

4. Donner un conseil argumenté à cet étudiant sur sa pratique sportive pour qu'il arrive à perdre du « poids » sans modifier son alimentation.

Dans l'après-midi, l'un de ses amis invite cet étudiant à la piscine. La température de l'eau de la piscine est égale à 23°C et la température de l'air atteint la valeur de 30°C. L'étudiant, un peu frileux, rencontre quelques difficultés à rentrer dans la piscine car il trouve que l'eau est plutôt froide.

5. Expliquer pourquoi l'étudiant ressent cette sensation.

Dans la piscine, cet échange de chaleur, au niveau de l'organisme de l'étudiant, se fait principalement selon deux modes de transferts thermiques.

6. Quels sont les mécanismes à l'origine des pertes thermiques de l'organisme de l'étudiant ? Choisir les bonnes réponses parmi la liste suivante :

- Convection
- Conduction
- Evaporation
- Rayonnement

7. Nommer et décrire brièvement le mode de transfert thermique qui permet au soleil de chauffer l'eau de la piscine ?

En fin d'après-midi, Eddie et son ami se désaltèrent avec une boisson contenant des glaçons. Ils constatent que les glaçons fondent très vite.

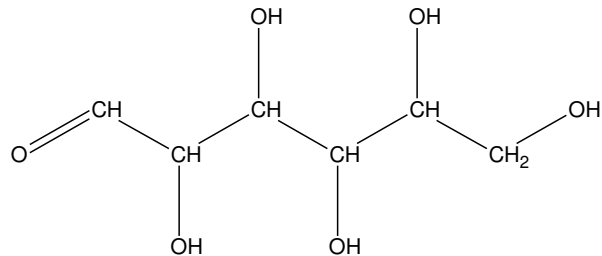
8. Indiquer, en justifiant la réponse, si la fonte des glaçons consomme ou fournit de l'énergie.

Exercice 2 : Étude de la composition du lait (5 points)

Le lait fait partie intégrante d'une alimentation équilibrée. Il contient notamment des glucides, des lipides et des protéines. Les glucides du lait font l'objet des questions 1 à 5, les lipides du lait sont étudiés dans les questions 6 et 7 et les protéines du lait dans les questions 8 et 9.

Données nécessaires à la résolution de l'exercice :

- Formule semi-développée du glucose :



- Formule d'un acide gras saturé : $C_nH_{2n+1} - COOH$
- Formule de l'acide myristique : $C_{13}H_{27} - COOH$
- Quelques acides aminés :

Acide glutamique	$ \begin{array}{c} \text{HOOC} - \text{CH}_2 - \text{CH}_2 - \text{CH} - \text{COOH} \\ \\ \text{NH}_2 \end{array} $
Molécule a	$ \begin{array}{c} \text{HO} - \text{C}_6\text{H}_4 - \text{CH}_2 - \text{CH} - \text{NH}_2 \\ \\ \text{COOH} \end{array} $
Molécule b	$ \begin{array}{c} \text{HOOC} - \text{C}_6\text{H}_4 - \text{CH}_2 - \text{CH} - \text{OH} \\ \\ \text{NH}_2 \end{array} $
Molécule c	$ \begin{array}{c} \text{H}_2\text{N} - \text{C}_6\text{H}_4 - \text{CH}_2 - \text{CH} - \text{COOH} \\ \\ \text{OH} \end{array} $

- Masses molaires atomiques (en $\text{g}\cdot\text{mol}^{-1}$) :
 $M(\text{H})=1,0$; $M(\text{C})=12,0$; $M(\text{O})=16,0$

Le lactose est le sucre du lait, l'hydrolyse enzymatique du lactose en glucose et en galactose est modélisée par la réaction chimique dont l'équation est :



1. Nommer la molécule A présente dans l'équation de la réaction modélisant l'hydrolyse enzymatique du lactose.
2. Après avoir recopié la formule de la molécule de glucose sur la copie, entourer et nommer les fonctions présentes.

Modèle CCYC : ©DNE

Nom de famille (naissance) :


(Suivi s'il y a lieu, du nom d'usage)

Prénom(s) :

N° candidat : N° d'inscription :

(Les numéros figurent sur la convocation.)

Né(e) le : / /



RÉPUBLIQUE FRANÇAISE

1.1

3. Le glucose et le galactose sont deux isomères. Donner la formule brute du galactose.

4. Calculer la masse molaire M du glucose.

5. Sachant qu'un litre de lait contient environ 24 g de glucose, calculer la quantité de matière n en mole de glucose dans un litre de lait.

Le lait et ses nombreux dérivés renferment près de 60 % à 65 % d'acides gras saturés dont les acides myristique, palmitique, stéarique, etc.

6. Donner la définition d'un acide gras.

7. Montrer que l'acide myristique est un acide gras saturé.

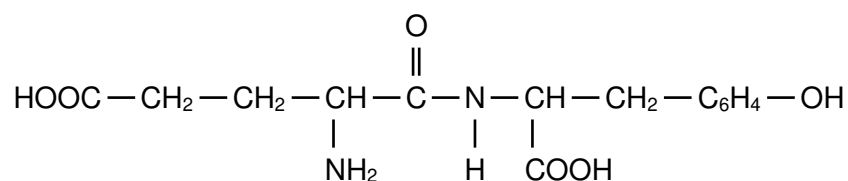
Le lait contient deux types de protéines : le lactosérum et la caséine. Pour l'organisme, la caséine est une source d'acides α -aminés, notamment la tyrosine et l'acide glutamique.

8. Justifier que l'acide glutamique est un acide α -aminé.

Les deux acides α -aminés, la tyrosine et l'acide glutamique, réagissent ensemble lors d'une réaction de condensation. L'équation qui modélise la réaction de condensation de des deux acides α aminés d'écrit comme suit :



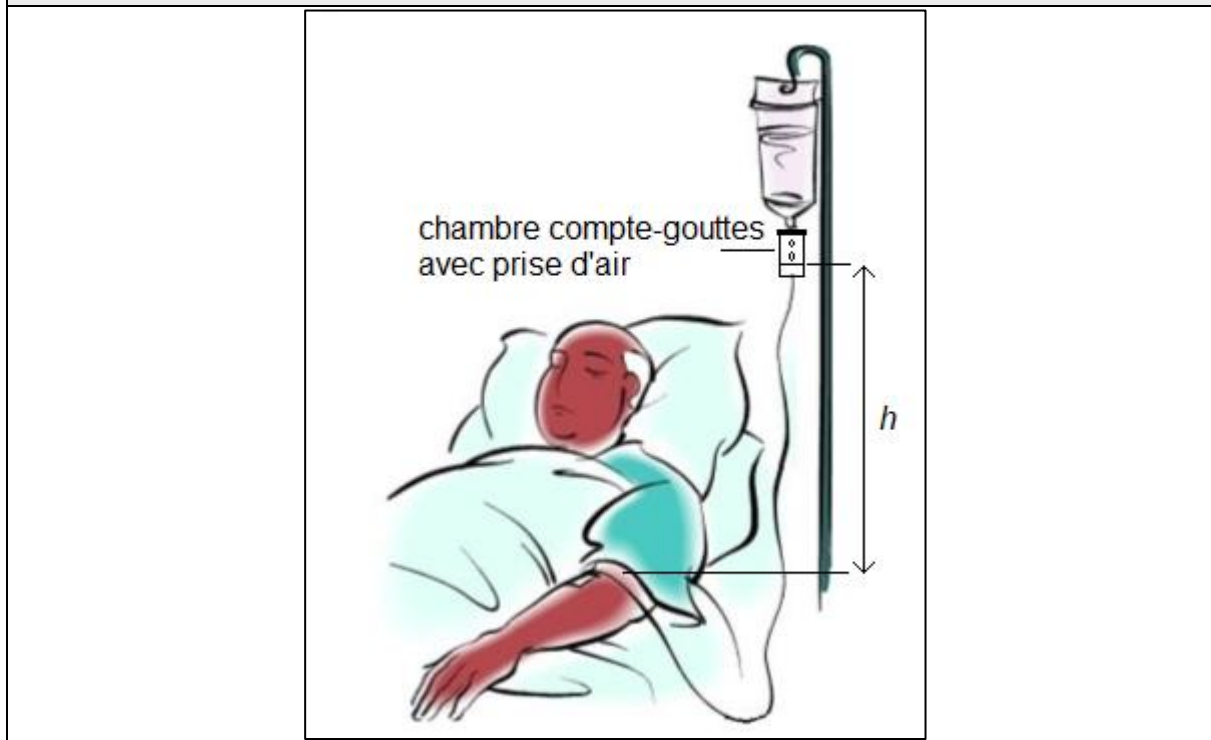
Le dipeptide formé a pour formule semi-développée :



9. Déterminer la formule semi-développée de la tyrosine parmi les molécules a, b et c figurant dans les données.

**Exercice 3 : Perfusion** (5 points)

Un patient hospitalisé est examiné par un médecin qui prescrit un bilan sanguin. En attendant les résultats de l'analyse sanguine, une perfusion d'une solution de chlorure de sodium à 0,9 g pour 100 mL est mise en place. Le dispositif est schématisé sur le **document 1** ; il comporte une chambre compte-gouttes avec prise d'air.

Document 1 : schéma de positionnement de la chambre compte-gouttes

La solution perfusée est décrite dans le **document 2**. Le **document 3** est un graphe montrant l'évolution de la masse volumique d'une solution de chlorure de sodium en fonction de sa concentration massique.

Modèle CCYC : ©DNE

Nom de famille (naissance) :

(Suivi s'il y a lieu, du nom d'usage)

Prénom(s) :

N° candidat : N° d'inscription :

(Les numéros figurent sur la convocation.)

Né(e) le : / /



1.1

Document 2 : extrait de la notice de la solution perfusée

Substance active : chlorure de sodium 0,9 g pour 100 mL de solution pour perfusion.

Une ampoule de 10 mL contient 0,09 g de chlorure de sodium.

Un flacon de 500 mL contient 4,5 g de chlorure de sodium.

Un flacon de 1000 mL contient 9 g de chlorure de sodium.

Sodium (Na⁺) : 154 mmol/L, soit 0,154 mmol/mL

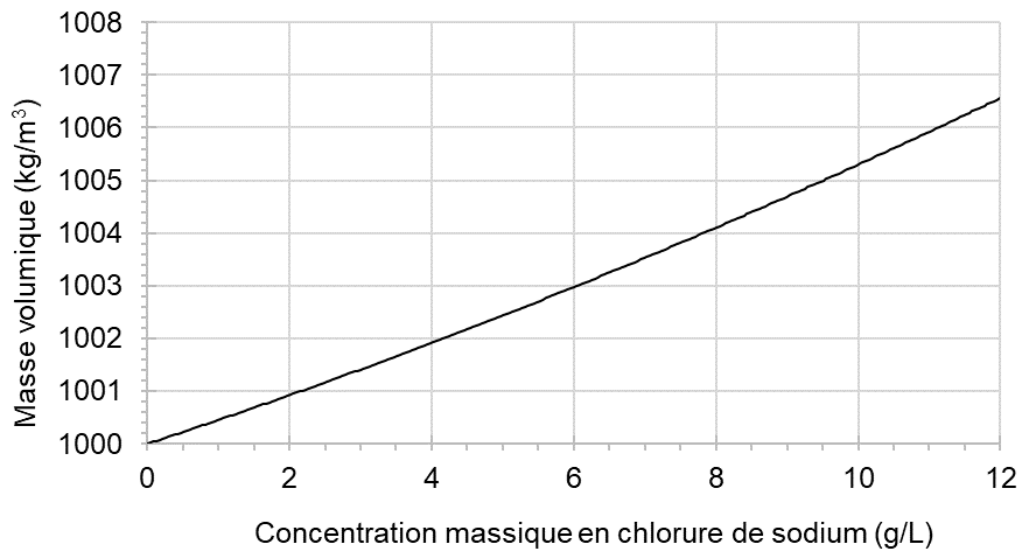
Chlorure (Cl⁻) : 154 mmol/L, soit 0,154 mmol/mL

Osmolarité : 308 mOsm/L

pH compris entre 4,5 et 7

L'autre composant est : l'eau pour préparations injectables.

Document 3 : masse volumique d'une solution de chlorure de sodium en fonction de la concentration massique



Données :

- Pression atmosphérique : $p_{atm} = 1,013 \times 10^5 \text{ Pa} = 76,0 \text{ cm Hg}$
- Loi fondamentale de la statique des fluides : $p_2 - p_1 = \rho \times g \times h$
- Intensité de la pesanteur : $g = 9,81 \text{ N} \cdot \text{kg}^{-1}$

Lors de l'examen, le médecin mesure la tension artérielle du patient. En centimètre de mercure (cm Hg), elle s'exprime par deux valeurs : 10 ; 6.

1. Donner la définition de la tension artérielle.



2. Nommer les deux grandeurs représentées par les valeurs 10 et 6.

La perfusion est réalisée de telle manière que le niveau de la surface libre du liquide dans la chambre compte-gouttes soit placé à la hauteur h égale à 70 cm par rapport au niveau de l'aiguille entrant dans la veine du patient, ainsi que le montre le

document 1.

3. Expliquer pourquoi la pression dans la chambre compte-gouttes est égale à la pression atmosphérique.

4. Dans l'expression de la loi fondamentale de la statique des fluides, fournie dans les données, indiquer ce que représentent $p_2 - p_1$ et ρ , ainsi que les unités internationales à employer.

5. En utilisant les données fournies dans les **documents 2 et 3** et en expliquant chaque étape de la résolution, calculer la valeur de la pression de la solution perfusée au niveau du bras du patient.

6. Comparer cette valeur avec la pression du sang dans la veine du patient égale à $1,04 \times 10^5$ Pa. Proposer un commentaire.

Exercice 4 : Observation d'une chenille à travers une lentille (5 points)

MATERIEL ELEVE NECESSAIRE : règle graduée, crayon de bois, gomme et calculatrice

Une chenille, matérialisée par un objet AB est observée à travers une lentille convergente, ainsi que le représente le **schéma 1** de l'**annexe à rendre avec la copie**. Le rayon issu de B, parallèle à l'axe optique, a été tracé.

1. Mesurer, en mm, la distance focale de la lentille symbolisée sur le schéma 1 de l'**annexe à rendre avec la copie**.

2. Sur le **schéma 1** de l'**annexe à rendre avec la copie**, tracer le rayon issu de B passant par le centre optique de la lentille.

3. Sur le **schéma 1** de l'**annexe à rendre avec la copie**, tracer l'image A'B' de la chenille qui sera symbolisée par une flèche.

4. Choisir la bonne proposition qui caractérise l'image A'B' parmi les suivantes et expliquer le choix du mot « réelle » ou du mot « virtuelle » dans la bonne proposition.

Cette image A'B' est :

- a. virtuelle, droite
- b. virtuelle, renversée
- c. réelle, renversée

Modèle CCYC : ©DNE																				
Nom de famille (naissance) : <small>(Suivi s'il y a lieu, du nom d'usage)</small>																				
Prénom(s) :																				
N° candidat :											N° d'inscription :									
 Liberté • Égalité • Fraternité RÉPUBLIQUE FRANÇAISE	<small>(Les numéros figurent sur la convocation.)</small>																			
Né(e) le :	/		/																	
1.1																				

d. réelle, droit

5. Définir et évaluer le grandissement γ à partir de la construction réalisée sur le **schéma 1** de l'**annexe à rendre avec la copie**.

6. En déduire une utilisation pratique de cette lentille dans cette configuration.

7. On rapproche la lentille de la chenille, ainsi que le montre le **schéma 2** de l'**annexe à rendre avec la copie**.

a. Sur ce **schéma 2**, construire la nouvelle image de la chenille, notée A"B".

b. Déduire de cette construction l'effet de ce rapprochement sur la taille de l'image.



Modèle CCYC : ©DNE

Nom de famille (naissance) :


(Suivi s'il y a lieu, du nom d'usage)

Prénom(s) :

N° candidat : N° d'inscription :

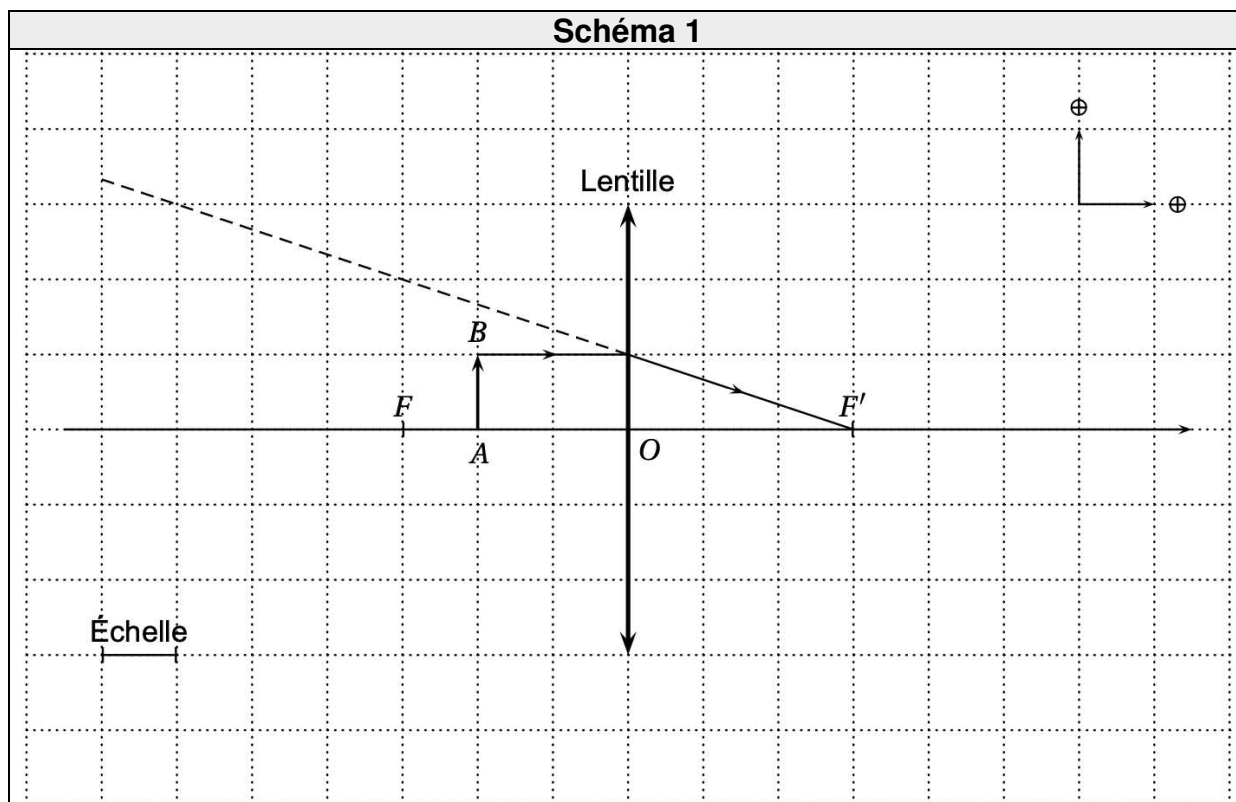
(Les numéros figurent sur la convocation.)

Né(e) le : / /



1.1

Exercice 4 (schéma 1) : annexe à rendre avec la copie





Exercice 4 (schéma 2) : annexe à rendre avec la copie

