

SUJET

2020-2021

PHYSIQUE-CHIMIE
POUR LA SANTÉ
SPÉ première ST2S

ÉVALUATIONS
COMMUNES

Modèle CCYC : ©DNE

Nom de famille (naissance) :

(Suivi s'il y a lieu, du nom d'usage)

Prénom(s) :

N° candidat : N° d'inscription :

(Les numéros figurent sur la convocation.)

Né(e) le : / /



1.1

ÉVALUATION COMMUNE

CLASSE : Première ST2S

EC : EC1 EC2 EC3

VOIE : Générale Technologique Toutes voies (LV)

ENSEIGNEMENT : Physique-chimie pour la santé

DURÉE DE L'ÉPREUVE : 2h

Niveaux visés (LV) : LVA LVB

Axes de programme :

CALCULATRICE AUTORISÉE : Oui Non

DICTIONNAIRE AUTORISÉ : Oui Non

Ce sujet contient des parties à rendre par le candidat avec sa copie. De ce fait, il ne peut être dupliqué et doit être imprimé pour chaque candidat afin d'assurer ensuite sa bonne numérisation.

Ce sujet intègre des éléments en couleur. S'il est choisi par l'équipe pédagogique, il est nécessaire que chaque élève dispose d'une impression en couleur.

Ce sujet contient des pièces jointes de type audio ou vidéo qu'il faudra télécharger et jouer le jour de l'épreuve.

Nombre total de pages : 13



Exercice 1 : Un antiseptique : l'eau oxygénée (5 points)

L'eau oxygénée est une solution aqueuse de peroxyde d'hydrogène H_2O_2 . C'est un antiseptique de la famille des oxydants, dont la concentration est exprimée dans le commerce par un titre en volume. Ainsi une solution à 10 volumes est utilisée comme antiseptique et hémostatique pour des plaies et des brûlures superficielles peu étendues. Une eau oxygénée à 40 volumes est 4 fois plus concentrée qu'une solution à 10 volumes ; elle est employée pour blanchir certains bois et traiter l'eau d'un aquarium.

Le **document 1** indique les conditions d'utilisation et de conservation d'une eau oxygénée.

Données : le peroxyde d'hydrogène intervient dans deux couples oxydant/réducteur.

Couple oxydant/réducteur	Demi-équation d'oxydoréduction
Peroxyde d'hydrogène / eau : $H_2O_{2(aq)} / H_2O_{(l)}$	$H_2O_{2(aq)} + 2H^+_{(aq)} + 2e^- = 2H_2O_{(l)}$
Dioxygène / peroxyde d'hydrogène : $O_{2(g)} / H_2O_{2(aq)}$	$O_{2(g)} + 2H^+_{(aq)} + 2e^- = H_2O_{2(aq)}$

Document 1 : conditions d'utilisation et de conservation de l'eau oxygénée.

L'eau oxygénée est généralement conditionnée dans un flacon en verre ou en polyéthylène, ces flacons sont à conserver à l'abri de la lumière et de la chaleur.

Pour les médicaments à usage multiple comme l'eau oxygénée, il est primordial d'inscrire la date d'ouverture de l'emballage. Le produit fini qui est vendu en pharmacie ou parapharmacie est stable 12 mois, toutefois après une première utilisation, le liquide restant doit être utilisé dans les 30 jours qui suivent l'ouverture du flacon.



Modèle CCYC : ©DNE																				
Nom de famille (naissance) : <small>(Suivi s'il y a lieu, du nom d'usage)</small>																				
Prénom(s) :																				
N° candidat :											N° d'inscription :									
 <small>Liberté • Égalité • Fraternité RÉPUBLIQUE FRANÇAISE</small>	<small>(Les numéros figurent sur la convocation.)</small>																			
Né(e) le :			/			/														

1.1

1. En exploitant les données fournies, expliquer si le peroxyde d'hydrogène se comporte : toujours comme un oxydant, toujours comme un réducteur ou parfois comme un oxydant et parfois comme un réducteur.
2. En déduire qu'une molécule de peroxyde d'hydrogène peut réagir avec une autre molécule de peroxyde d'hydrogène.
3. En utilisant les demi-équations fournies, écrire l'équation de la réaction dite de décomposition de l'eau oxygénée.
4. Identifier le gaz libéré par cette réaction de décomposition.
5. Expliquer pourquoi l'utilisation d'une eau oxygénée à 10 volumes, dont le flacon a été ouvert pour la première fois il y a six mois, n'est pas judicieuse.

On dispose d'une eau oxygénée à 40 volumes trop concentrée pour soigner des plaies. On souhaite donc la diluer pour fabriquer un volume d'eau oxygénée à 10 volumes égal à 100,0 mL.

6. Déterminer la valeur du volume de solution mère nécessaire pour fabriquer par dilution un volume d'eau oxygénée à 10 volumes égal à 100,0 mL.
7. Décrire les étapes du protocole de dilution en choisissant le matériel nécessaire dans la liste suivante :
 - éprouvettes graduées de 5 mL, 25 mL, 50 mL et 100 mL ;
 - bécher de 50 mL ;
 - pipettes jaugées de 5,0 mL, 10,0 mL, 20,0 mL et 25,0 mL ;
 - fioles jaugées de 20,0 mL, 50,0 mL et 100,0 mL.



Exercice : Adolescents et fast-food (5 points)

Document 1 : Apports nutritionnels des produits les plus consommés

Les fast-foods sont particulièrement appréciés des adolescents qui les fréquenteraient en moyenne deux fois par mois, selon une enquête publiée en 2014 par le CERIN (Centre de recherche et d'informations nutritionnelles).

Outre la nourriture que l'on y sert, rapide et peu chère, ils aiment particulièrement le fait de s'y retrouver en groupe.

Si certains s'y rendent de façon occasionnelle, d'autres font du fast-food leur cantine quotidienne, engendrant de ce fait une consommation importante de graisses et de sucres. Quel peut être l'impact sur la santé d'une fréquentation régulière du fast-food ? Dans ce cas, quels sont les conseils nutritionnels que l'on peut donner ?

Produit	Portion (g)	Apport énergétique (kcal)	Protéines (g)	Lipides (g)	Glucides (g)
Hamburger	103	262	13,1	9,2	31,5
Cheeseburger	117	305	15,6	12,9	31,8
Double hamburger	214	512	25,9	25,8	43,8
Frites (petite portion)	106	299	3,8	14,7	37,9
Nuggets de poulet	200	496	2,6	20,6	42,4
Salade César au poulet	309	349	25,7	16,4	19,2
Fruits à croquer	80	44	-	-	11
Muffin chocolat	100	347	5	19	39
Sundae caramel	178	309	8,5	15,1	34,8
Milk shake vanille	345	385	11,6	10,4	61,2
Soda au cola	150	67	-	-	16,7

Modèle CCYC : ©DNE

Nom de famille (naissance) :

(Suivi s'il y a lieu, du nom d'usage)

Prénom(s) :

N° candidat : N° d'inscription :

(Les numéros figurent sur la convocation.)

Né(e) le : / /



RÉPUBLIQUE FRANÇAISE

1.1

Document 2 : Groupes d'aliments et besoins alimentaires journaliers

Les besoins caloriques journaliers dépendent essentiellement du sexe, de l'âge, du poids et du niveau d'activité physique. En cas d'activité physique de faible intensité, le besoin calorique à 18 ans se monte à environ 2000 kcal par jour chez la jeune femme et de 2500 kcal par jour chez le jeune homme (d'après Inpes, Institut national de prévention et d'éducation pour la santé).

Il est parfois conseillé de suivre, pour la répartition des différents nutriments, la règle du « 421 GPL ».

En faisant correspondre l'ordre des lettres, on lit « 4G », « 2P » et « 1L ». Cela correspond aux nombres de parts qu'il est conseillé de consommer : 4 portions de glucides pour 2 portions de protéines pour 1 portion de lipides (Il faut entendre « portions » comme des masses égales).

En nutrition, les aliments sont classés en 7 groupes principaux. Ce classement se fait par leurs teneurs en nutriments (protéines, lipides, glucides), minéraux (fer, calcium, magnésium...) et vitamines (liposolubles : A, D, E, K et hydrosolubles : B, C...).

En pratique, pour avoir une alimentation équilibrée, il faut puiser chaque jour une ou plusieurs fois dans ces groupes d'aliments.

Groupes d'aliments	Nutriments
Produits laitiers	Protéines, lipides et calcium, phosphore
Viandes, poissons, œufs	Protéines, lipides et fer, zinc, sélénium
Matières grasses	Acides gras et vitamines
Céréales, féculents, légumes secs	Glucides complexes, fibres et magnésium
Fruits et légumes	Vitamines, minéraux et fibres
Produits sucrés (chocolat, miel, confiture...)	Glucides simples
Boissons (eau à volonté!)	Minéraux

Données :

1 g de protéine apporte 4 kcal.

1 g de lipide apporte 9 kcal.

1 g de glucide apporte 4 kcal.

On souhaite vérifier l'apport énergétique d'une petite portion de frites indiqué dans le **document 1**.

1. Rappeler la définition de la calorie.



2. En utilisant les données, vérifier que l'apport énergétique d'une petite portion de frites est bien de 299 kcal.

Un jeune homme décide de se rendre au fast-food pour le dîner. Dans la journée, son alimentation lui a apporté environ 1500 kcal. Voici le menu qu'il choisit :

- un cheeseburger,
- une petite portion de frites,
- un sundae caramel,
- un soda au cola.

3. Calculer l'apport énergétique de ce repas à l'aide du **document 1**.

4. Proposer un commentaire, à l'aide des informations contenues dans le **document 2**, permettant d'envisager si ce menu convient au jeune homme pour compléter ses besoins caloriques journaliers.

5. Indiquer si ce menu vérifie la règle du « 421 GPL » décrite dans le **document 2**, à partir du calcul des masses de protéines, glucides et lipides apportées par le menu.

6. Porter un regard critique sur ce menu. Donner alors quelques conseils au jeune homme en termes de nutrition à l'appui du **document 2**.

7. Prévoir quelles peuvent être les conséquences d'une fréquentation quotidienne des fast-foods sur la santé des adolescents.

Exercice 3 : Mesurer et réguler la température lors d'une mission sanitaire (5 points)

Simple élévation de température, la fièvre n'est pas une maladie à combattre. Cette élévation de la température (hyperthermie) est le signe que le corps humain se défend activement contre un agresseur, comme une infection. La température corporelle normale moyenne a une valeur égale à 37 °C (entre 36,5 °C et 37,5 °C selon les individus). On parle de fièvre légère jusqu'à 38 °C, de fièvre modérée entre 38 °C et 38,5 °C et de forte fièvre au-delà.

La cause la plus fréquente de fièvre est l'infection microbienne mais il peut aussi s'agir d'un empoisonnement (aliments avariés, champignons toxiques, venins de serpent...), d'allergènes chez les personnes allergiques, ou encore d'une destruction importante de tissus par une blessure ou une opération. Dans le domaine médical, différents types de thermomètres peuvent être utilisés pour détecter une élévation de la température corporelle.

Le thermomètre à infrarouges comporte un détecteur à infrarouges intégré au thermomètre ; il est utilisé pour un diagnostic médical et permet des mesures de températures corporelles comprises entre 35 °C et 45 °C.

Modèle CCYC : ©DNE

Nom de famille (naissance) :


(Suivi s'il y a lieu, du nom d'usage)

Prénom(s) :

N° candidat : N° d'inscription :

(Les numéros figurent sur la convocation.)

Né(e) le : / /



RÉPUBLIQUE FRANÇAISE

1.1

Document 1 : différents détecteurs à infrarouges	
Détecteur A	détection des infrarouges de valeurs de longueurs d'onde comprises entre 9,0 μm et 10,0 μm
Détecteur B	détection des infrarouges de valeurs de longueurs d'onde comprises entre 9,0 μm et 9,5 μm
Détecteur C	détection des infrarouges de valeurs de longueurs d'onde comprises entre 9,5 μm et 10,0 μm

Document 2 : l'utilisation du rayonnement infrarouge en médecine

La plupart des objets du quotidien et les êtres vivants émettent des rayonnements infrarouges. Ce sont des rayonnements électromagnétiques, invisibles pour l'œil humain, qui trouvent des applications dans le secteur industriel, dans les systèmes d'alarme pour la détection des intrusions ou encore pour le chauffage. Le rayonnement infrarouge est également utilisé dans le domaine médical et en particulier dans les thermomètres à infrarouges qui permettent, à partir de ces rayonnements émis par le corps humain, de déterminer la température de ce dernier sans nécessiter de contact direct.

Le rayonnement infrarouge émis par le corps humain suit la loi de Wien qui permet de relier la température de surface T d'un corps chaud à la longueur d'onde λ_{max} de la radiation émise par ce corps avec le maximum d'intensité lumineuse :

$$\lambda_{max} = \frac{\text{constante}}{T}$$

avec : λ_{max} en mètre (m)
 T en Kelvin (K)
 constante = $2,89 \times 10^{-3}$ m.K

Pour convertir une température θ exprimée en degrés Celsius (°C) en une température T exprimée en Kelvin (K), on réalise l'opération suivante : $T(K) = 273 + \theta(^{\circ}C)$.

Lors de prise de température corporelle, la longueur d'onde du rayonnement électromagnétique émis est d'autant plus petite que la température du corps est élevée, et inversement.

Le thermomètre à infrarouges comporte un détecteur thermique qui transforme le rayonnement capté de longueur d'onde donnée en un signal électrique de valeur proportionnelle à l'intensité du rayonnement reçu. Ce signal est converti, grâce à une chaîne électronique, en une température indiquée sur l'afficheur du thermomètre.

Document 3 : la maladie à virus Ebola






d'après l'Organisation Mondiale de la Santé

La maladie à virus Ebola (autrefois appelée aussi fièvre hémorragique à virus Ebola) est une maladie grave, souvent mortelle chez l'homme. Le virus se transmet à l'homme à partir des animaux sauvages et se propage ensuite dans les populations par transmission interhumaine. Le taux de létalité moyen est d'environ 50 %. Au cours des flambées précédentes, les taux sont allés de 25 % à 90 %.

La participation de la communauté est essentielle pour juguler les flambées. Pour être efficace, la lutte doit se fonder sur un ensemble d'interventions : prise en charge des cas, mesures de prévention des infections et de lutte, surveillance et recherche des contacts, services de laboratoire de qualité, inhumations sans risque et dans la dignité et mobilisation sociale.

Les soins de soutien précoces axés sur la réhydratation et le traitement symptomatique améliorent les taux de survie. Aucun traitement homologué n'a pour l'instant démontré sa capacité à neutraliser le virus, mais plusieurs traitements (dérivés du sang, immunologiques ou médicamenteux) sont à l'étude.

Document 4 : Tableau comparatif des différents types de thermomètres

Thermomètre	Au gallium	Électronique	À infrarouges
Photographie	 On observe 10 graduations pour un degré Celsius		 Valeur affichée : 24,2 °C
Mesure	Par contact direct avec le patient - Temps de réponse d'environ 1 min	Par contact direct avec le patient - Temps de réponse d'environ 1 min	Sans contact, à quelques centimètres de l'oreille - Temps de réponse d'environ 5 s
Gamme de température	De 35 °C à 42 °C	De 32 °C à 42 °C	De 10 °C à 50 °C
Prix unitaire	8,46 €	7,49 €	37,44 €

Donnée :

$$1 \mu\text{m} = 1000 \text{ nm}$$

1. Reproduire sur la copie la **figure 1** ci-dessous et la compléter en indiquant les domaines des ondes électromagnétiques à l'extérieur du domaine de la lumière visible, les valeurs limites de longueurs d'onde des radiations du domaine du visible ainsi que les couleurs correspondant à ces limites dans le domaine de la lumière visible.

Modèle CCYC : ©DNE

Nom de famille (naissance) :

(Suivi s'il y a lieu, du nom d'usage)

Prénom(s) :

N° candidat : N° d'inscription :

(Les numéros figurent sur la convocation.)

Né(e) le : / /



1.1

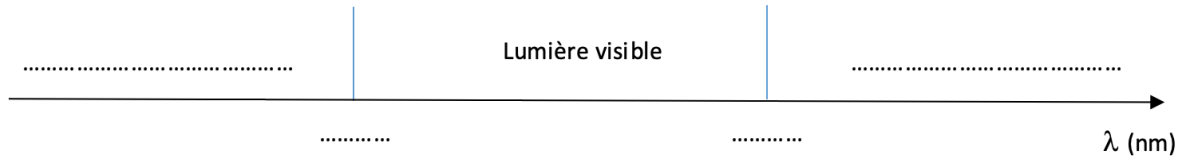


Figure 1 : Extrait du spectre des ondes électromagnétiques

2. À l'aide de la **figure 2** sur l'**annexe à rendre avec la copie**, déterminer les valeurs de longueurs d'onde des radiations émises avec une intensité maximale pour des corps dont les valeurs de température sont égales à 32 °C, 37 °C et 45 °C. On fera apparaître les traits de construction.

3. Indiquer en exploitant le **document 1**, le (ou les) détecteur(s) à infrarouges adapté(s) à la mesure d'une température corporelle comprise entre 35 °C et 45 °C.

4. En explicitant la démarche et en exploitant le **document 2** et/ou **la figure 2**, comparer la longueur d'onde du rayonnement émis par un corps humain en bonne santé λ_B à celle λ_F du rayonnement émis par un corps fiévreux.

L'épidémie d'Ebola en République Démocratique du Congo (RDC), déclarée en août 2018, a fait plus de 750 morts, selon l'Organisation Mondiale de la Santé (OMS). Une équipe de médecins d'une Organisation Non Gouvernementale (ONG), exerçant des missions humanitaires, se rend sur les lieux de l'épidémie. Plusieurs thermomètres se trouvent dans la trousse médicale des médecins.

5. À l'aide des **documents 3 et 4**, comparer les trois thermomètres en termes de rapidité de lecture, de coût et d'utilisation sanitaire.

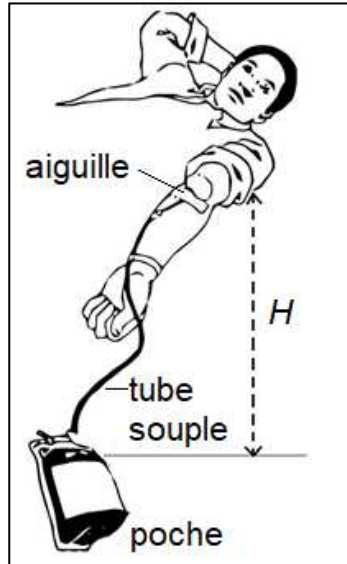
6. Choisir, en proposant une argumentation, le thermomètre le plus adapté à la mission « RDC ».

Exercice 4 : Le don du sang (5 points)

Le don de sang permet de prélever en même temps tous les composants du sang – globules rouges, plasma et plaquettes – qui sont ensuite séparés.



Document 1 : Disposition du donneur lors du don de sang



Le volume de sang prélevé lors d'un don se situe toujours entre 420 mL et 480 mL. Il est évalué par le médecin qui reçoit le donneur. Ce volume est déterminé en fonction de la masse corporelle du donneur à raison de 7 mL/kg.

Un étudiant de 75 kg remplit toutes les conditions de santé pour donner son sang.

Donnée : $1 \text{ mL} = 10^{-6} \text{ m}^3$

1. Montrer que cet étudiant peut effectuer le don maximum autorisé, soit un volume de sang égal à 480 mL.

2. Dans les conditions opératoires, le débit sanguin D lors du prélèvement vaut $0,80 \text{ mL}\cdot\text{s}^{-1}$. Déterminer la durée du prélèvement.

Pour réaliser le prélèvement, l'infirmier utilise une aiguille de 14 gauges, c'est-à-dire une aiguille dont la section intérieure a une surface S égale à $2,1 \times 10^{-6} \text{ m}^2$.

3. Déterminer la valeur de la vitesse d'écoulement du sang dans l'aiguille.

4. La vitesse d'écoulement du sang dans le tube souple reliant l'aiguille à la poche de récupération du sang est plus faible que la vitesse d'écoulement dans l'aiguille. Proposer une explication.

L'infirmier constate que la valeur du débit sanguin diminue s'il réduit la hauteur H indiquée sur le **document 1**. Il observe même que le débit sanguin ne s'annule pas lorsque la poche de recueil est placée à la même hauteur que le bras (ce qui correspond à $H = 0$).

Modèle CCYC : ©DNE	
Nom de famille (naissance) : <i>(Suivi s'il y a lieu, du nom d'usage)</i>	
Prénom(s) :	
N° candidat :	N° d'inscription :
 Liberté • Égalité • Fraternité RÉPUBLIQUE FRANÇAISE	(Les numéros figurent sur la convocation.)
Né(e) le :	

1.1

5. En vous appuyant sur l'observation que le débit sanguin ne s'annule pas lorsque $H=0$, comparer les pressions du sang dans la veine et dans la poche de recueil.



Modèle CCYC : ©DNE

Nom de famille (naissance) :


(Suivi s'il y a lieu, du nom d'usage)

Prénom(s) :

N° candidat : N° d'inscription :

(Les numéros figurent sur la convocation.)

Né(e) le : / /



RÉPUBLIQUE FRANÇAISE

1.1

Exercice 3 : annexe à rendre avec la copie

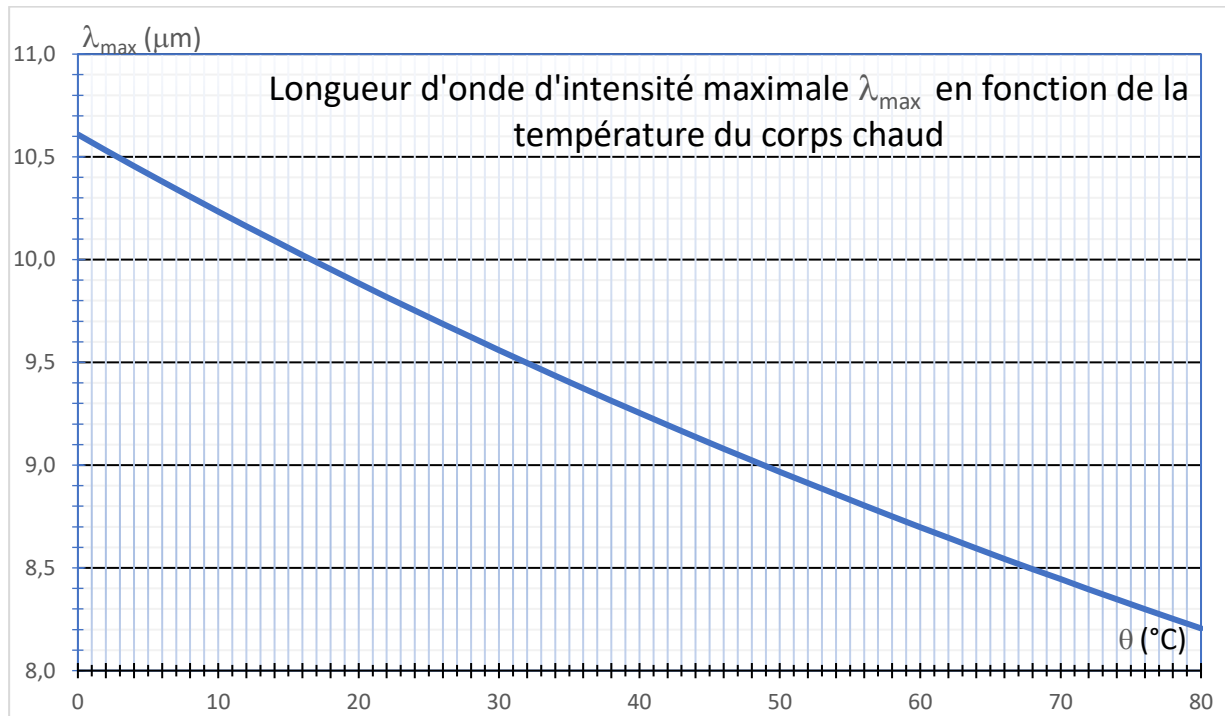


Figure 2 : Graphique permettant de déterminer la température d'une source à l'aide de la Loi de Wien