

# SUJET

## 2020-2021

PHYSIQUE-CHIMIE  
POUR LA SANTÉ  
SPÉ première ST2S

ÉVALUATIONS  
COMMUNES

Modèle CCYC : ©DNE

Nom de famille (naissance) :


(Suivi s'il y a lieu, du nom d'usage)

Prénom(s) :

N° candidat :  N° d'inscription :

(Les numéros figurent sur la convocation.)

Né(e) le :  /  /



1.1

## ÉVALUATION COMMUNE

**CLASSE :** Première ST2S

**EC :**  EC1  EC2  EC3

**VOIE :**  Générale  Technologique  Toutes voies (LV)

**ENSEIGNEMENT :** Physique-chimie pour la santé

**DURÉE DE L'ÉPREUVE :** 2h

Niveaux visés (LV) : LVA LVB

Axes de programme :

**CALCULATRICE AUTORISÉE :**  Oui  Non

**DICTIONNAIRE AUTORISÉ :**  Oui  Non

Ce sujet contient des parties à rendre par le candidat avec sa copie. De ce fait, il ne peut être dupliqué et doit être imprimé pour chaque candidat afin d'assurer ensuite sa bonne numérisation.

Ce sujet intègre des éléments en couleur. S'il est choisi par l'équipe pédagogique, il est nécessaire que chaque élève dispose d'une impression en couleur.

Ce sujet contient des pièces jointes de type audio ou vidéo qu'il faudra télécharger et jouer le jour de l'épreuve.

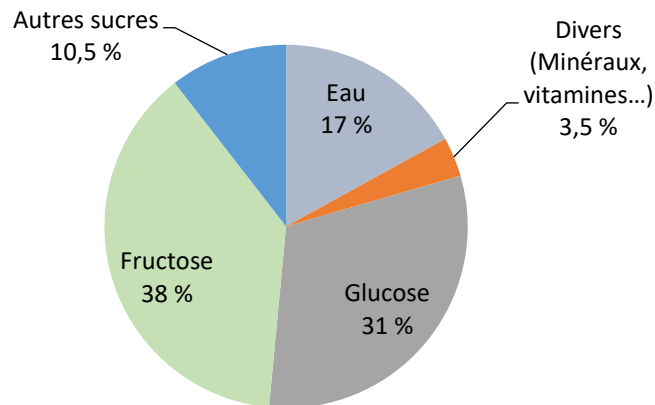
**Nombre total de pages :** 12



### Exercice 1 : Le miel et la santé (5 points)

Certaines personnes adorent le miel : au cours de la journée, on peut en consommer avec les yaourts nature, les tartines, les boissons chaudes... L'Organisation Mondiale de la Santé (OMS) recommande de diminuer sa consommation journalière de sucre afin de limiter son impact sur la santé. Dans cet exercice, on souhaite savoir si une consommation importante de miel peut avoir un effet négatif sur la santé.

**Document 1** : Diagramme circulaire représentant la composition moyenne du miel en pourcentage en masse



D'après : <https://aurore.unilim.fr/theses/>

### Document 2 : Le sucre et la santé

Glucose, galactose, fructose, saccharose, lactose, maltose... sont ce qu'on appelle couramment les sucres. Compte tenu des effets sur la santé que peut provoquer une consommation excessive de sucre, l'Anses (Agence nationale de sécurité sanitaire de l'alimentation, de l'environnement et du travail) recommande de ne pas consommer plus de 100 g de sucres par jour (hors lactose et galactose) et pas plus d'une boisson sucrée. L'excès de sucre peut entraîner surpoids, obésité et maladies qui y sont associées, comme le diabète de type 2, des maladies cardiovasculaires et certains cancers.

D'après <https://www.anses.fr/fr/content/sucres>

Modèle CCYC : ©DNE

Nom de famille (naissance) :


(Suivi s'il y a lieu, du nom d'usage)

Prénom(s) :

N° candidat :  N° d'inscription :

(Les numéros figurent sur la convocation.)


Né(e) le :  /  /



RÉPUBLIQUE FRANÇAISE

1.1

**Données :** Représentations des molécules de glucose et de fructose :



Les glucides sont classifiés en deux catégories : les glucides simples et les glucides complexes.

1. Définir un glucide simple et un glucide complexe.

Lorsque les abeilles ouvrières butinent, le nectar est ramené à la ruche. Sous l'effet de l'*invertase*, une enzyme présente dans le jabot des abeilles, les sucres présents dans ce nectar sont lentement modifiés : le saccharose, de formule brute  $\text{C}_{12}\text{H}_{22}\text{O}_{11}$ , est hydrolysé en fructose et glucose. Le nectar se transforme ainsi en miel.

2. Recopier les formules semi-développées des molécules de glucose et de fructose et entourer puis nommer les fonctions chimiques présentes.

3. Déterminer les formules brutes du glucose et du fructose.

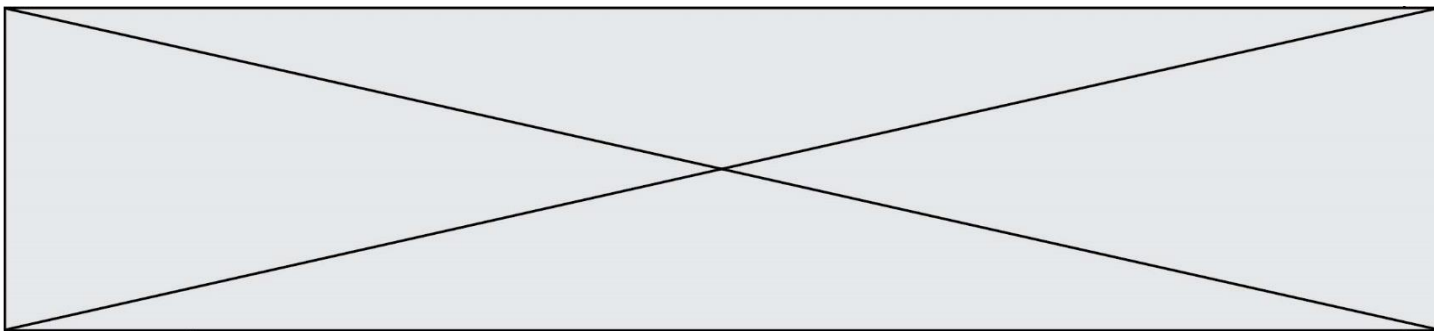
4. En déduire la relation qui existe entre les deux molécules de glucose et de fructose. Expliquer la réponse.

5. Écrire l'équation chimique de la réaction d'hydrolyse du saccharose, en utilisant les formules brutes des molécules.

On souhaite déterminer quelle quantité maximale de miel il est possible de manger afin de ne pas dépasser la dose journalière de sucre recommandée. Les réponses aux deux questions suivantes s'appuient sur les documents présentés en introduction.

6. Calculer le pourcentage total, en masse, de sucres présents dans un miel.

7. Montrer que la valeur de la masse journalière maximale de miel que l'on peut ingérer est de 126 g.



La relation qui permet de calculer la masse volumique  $\rho$  (en  $\text{g.L}^{-1}$ ) d'un corps en fonction de la masse  $m$  (en g) et du volume  $V$  (en L) d'un échantillon de ce corps est :

$$\rho = \frac{m}{V}$$

8. Sachant que le miel possède une masse volumique de  $1410 \text{ g.L}^{-1}$ , déterminer le volume maximal de miel que l'on peut consommer.
9. Sachant qu'une cuillère à café correspond à un volume de  $5,0 \text{ mL}$ , déterminer le nombre de cuillères à café de miel que l'on peut consommer par jour pour respecter les consignes de l'Anses. Commenter ce résultat.

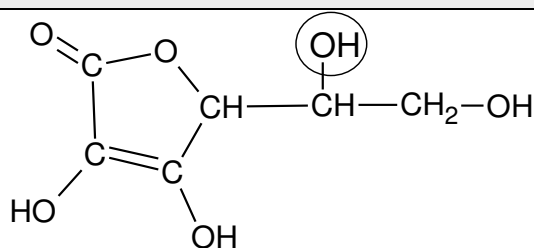
### Exercice 2 : Les propriétés acides de la vitamine C (5 points)

« Que ton aliment soit ton médicament » était l'un des principes essentiels de la médecine d'Hippocrate (460 av JC).

Connue pour ses vertus énergisantes, la vitamine C, ou acide ascorbique, possède de nombreuses propriétés. Elle est indispensable au bon fonctionnement de l'organisme dont elle renforce les défenses immunitaires.

L'acide ascorbique doit son nom à la maladie qu'il prévient : le [scorbut](#), une affection autrefois fréquente chez les marins, qui n'avaient pas accès aux végétaux frais au cours de leurs longues expéditions.

#### Document 1 : Formule semi-développée de l'acide ascorbique



1. Donner le nom de la fonction entourée dans la formule semi-développée de l'acide ascorbique représentée dans le **document 1**.
2. Citer l'autre fonction présente dans la molécule d'acide ascorbique représentée dans le **document 1**.

Modèle CCYC : ©DNE

Nom de famille (naissance) :

(Suivi s'il y a lieu, du nom d'usage)

Prénom(s) :

N° candidat :  N° d'inscription :

(Les numéros figurent sur la convocation.)

Né(e) le :  /  /

Liberté • Égalité • Fraternité  
RÉPUBLIQUE FRANÇAISE

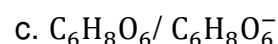
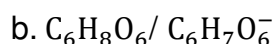
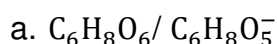
1.1

3. Ecrire la formule brute de l'acide ascorbique à partir des informations contenues dans le **document 1**.

L'acide ascorbique et l'ion ascorbate constituent un couple acide-base noté AH / A<sup>-</sup>.

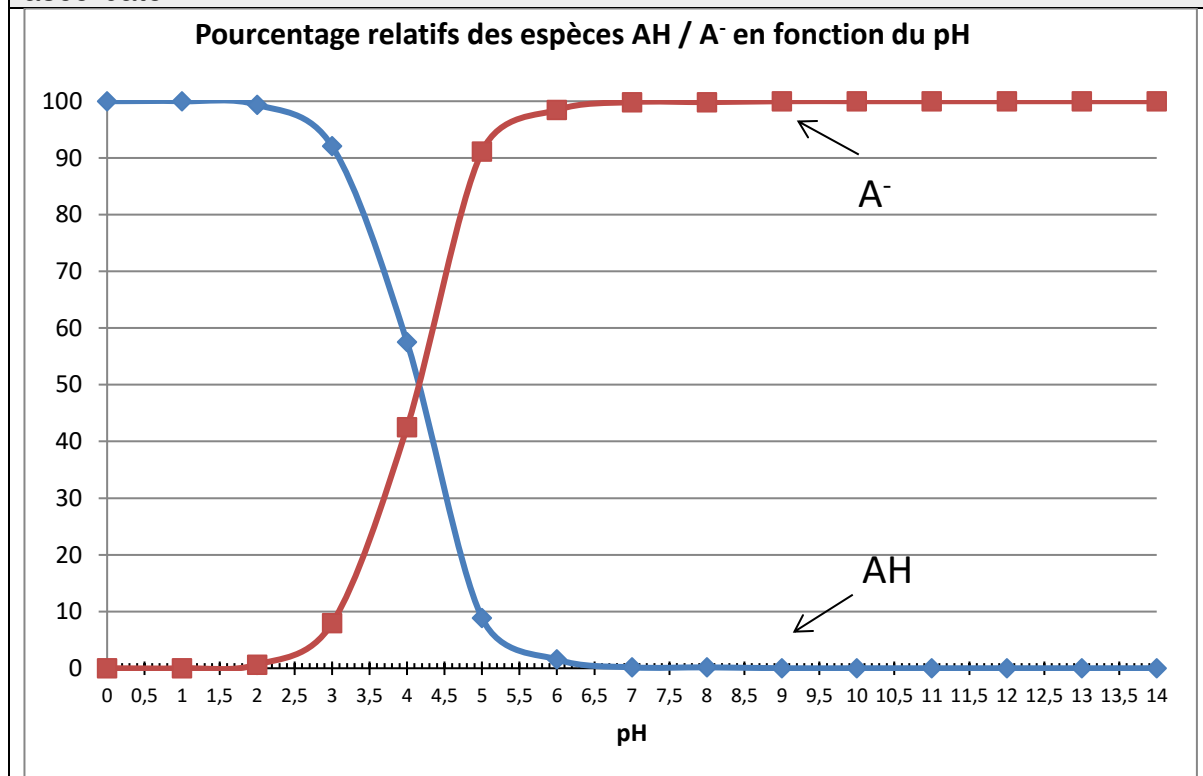
4. Donner la définition d'un acide selon Brønsted.

5. Parmi les propositions a, b, et c, ci-dessous, choisir le couple acide/base correspondant à l'acide ascorbique et l'ion ascorbate.

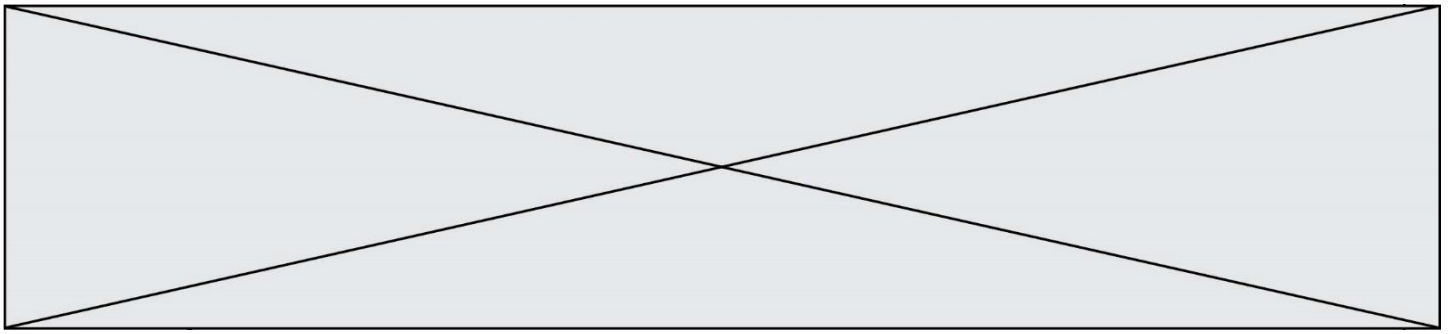


Le diagramme de distribution de l'acide ascorbique et de l'ion ascorbate donne les pourcentages relatifs des deux espèces en milieu aqueux en fonction du pH.

**Document 2** : diagramme de distribution de l'acide ascorbique et de l'ion ascorbate.


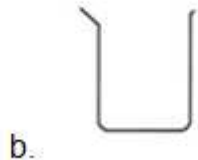
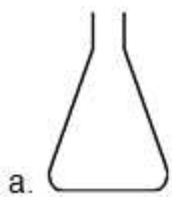


6. A l'aide du **document 2**, et en explicitant la démarche, donner la forme prédominante de la vitamine C dans l'estomac sachant que le pH de l'estomac est de 1,5.



En cas d'apport insuffisant en vitamine C, il existe des compléments alimentaires sous forme de comprimés. On souhaite préparer une solution aqueuse de volume  $V$  égal à 100,0 mL par dissolution d'un comprimé préalablement broyé.

7. Choisir et nommer parmi le matériel ci-dessous, la verrerie nécessaire à la préparation de cette solution.



On mesure le pH de cette solution. On obtient une valeur de  $pH$  égale à 4,1.

8. En exploitant le **document 2**, déterminer les pourcentages relatifs approximatifs de l'acide ascorbique et de l'ion ascorbate dans la solution.

### Exercice 3 : Perfusion (5 points)

Un patient hospitalisé est examiné par un médecin qui prescrit un bilan sanguin. En attendant les résultats de l'analyse sanguine, une perfusion d'une solution de chlorure de sodium à 0,9 g pour 100 mL est mise en place. Le dispositif est schématisé sur le **document 1** ; il comporte une chambre compte-gouttes avec prise d'air.

Modèle CCYC : ©DNE

Nom de famille (naissance) :


(Suivi s'il y a lieu, du nom d'usage)

Prénom(s) :

N° candidat :  N° d'inscription :

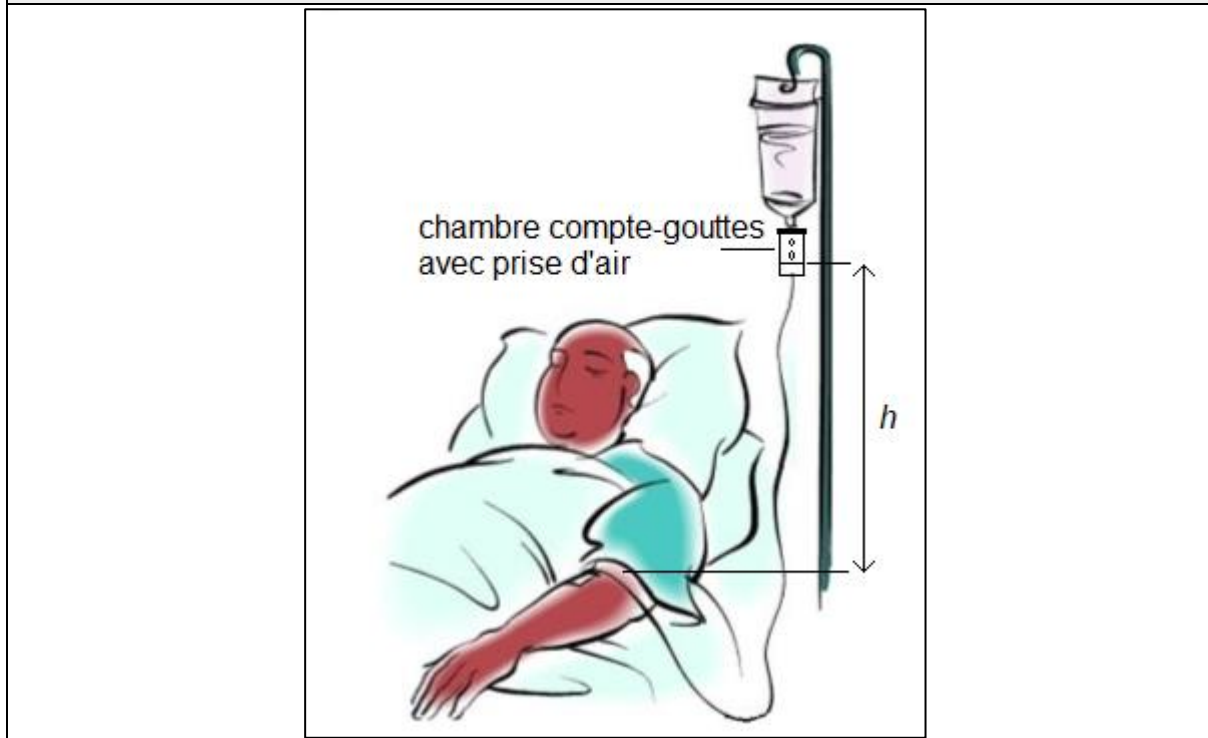
(Les numéros figurent sur la convocation.)

Né(e) le :  /  /



1.1

**Document 1** : schéma de positionnement de la chambre compte-gouttes



La solution perfusée est décrite dans le **document 2**. Le **document 3** est un graphe montrant l'évolution de la masse volumique d'une solution de chlorure de sodium en fonction de sa concentration massique.

**Document 2** : extrait de la notice de la solution perfusée

Substance active : chlorure de sodium 0,9 g pour 100 mL de solution pour perfusion.

Une ampoule de 10 mL contient 0,09 g de chlorure de sodium.

Un flacon de 500 mL contient 4,5 g de chlorure de sodium.

Un flacon de 1000 mL contient 9 g de chlorure de sodium.

Sodium ( $\text{Na}^+$ ) : 154 mmol/L, soit 0,154 mmol/mL

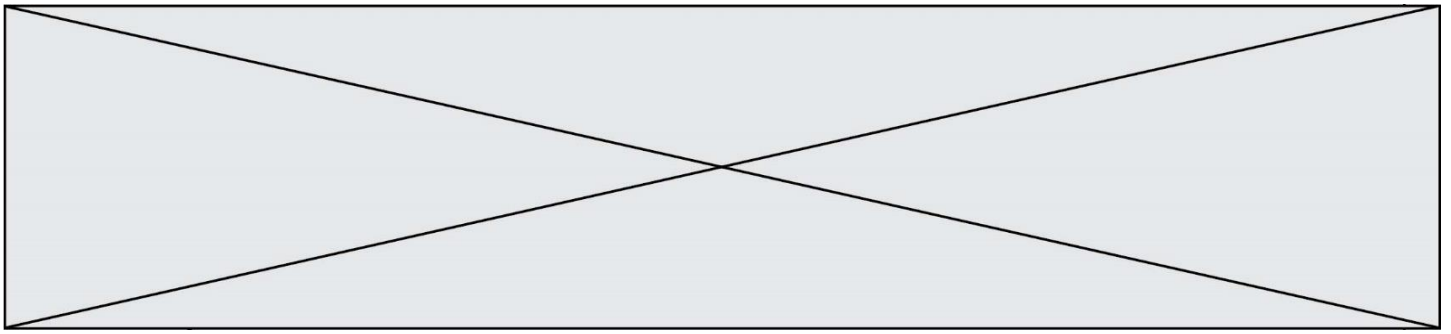
Chlorure ( $\text{Cl}^-$ ) : 154 mmol/L, soit 0,154 mmol/mL

Osmolarité : 308 mOsm/L

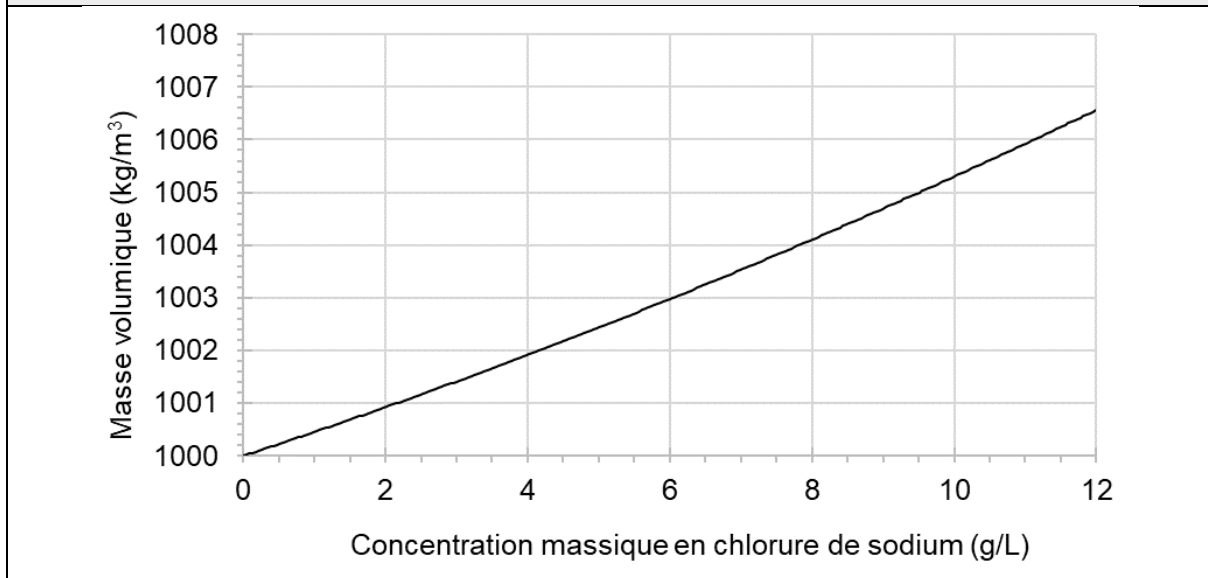
pH compris entre 4,5 et 7

L'autre composant est : l'eau pour préparations injectables.





**Document 3** : masse volumique d'une solution de chlorure de sodium en fonction de la concentration massique



**Données :**

- Pression atmosphérique :  $p_{atm} = 1,013 \times 10^5 \text{ Pa} = 76,0 \text{ cm Hg}$
- Loi fondamentale de la statique des fluides :  $p_2 - p_1 = \rho \times g \times h$
- Intensité de la pesanteur :  $g = 9,81 \text{ N}\cdot\text{kg}^{-1}$

Lors de l'examen, le médecin mesure la tension artérielle du patient. En centimètre de mercure (cm Hg), elle s'exprime par deux valeurs : 10 ; 6.

1. Donner la définition de la tension artérielle.


2. Nommer les deux grandeurs représentées par les valeurs 10 et 6.

La perfusion est réalisée de telle manière que le niveau de la surface libre du liquide dans la chambre compte-gouttes soit placé à la hauteur  $h$  égale à 70 cm par rapport au niveau de l'aiguille entrant dans la veine du patient, ainsi que le montre le

**document 1.**

3. Expliquer pourquoi la pression dans la chambre compte-gouttes est égale à la pression atmosphérique.

4. Dans l'expression de la loi fondamentale de la statique des fluides, fournie dans les données, indiquer ce que représentent  $p_2 - p_1$  et  $\rho$ , ainsi que les unités internationales à employer.

Modèle CCYC : ©DNE																				
Nom de famille (naissance) : <small>(Suivi s'il y a lieu, du nom d'usage)</small>																				
Prénom(s) :																				
N° candidat :											N° d'inscription :									
 <small>Liberté • Égalité • Fraternité RÉPUBLIQUE FRANÇAISE</small>	<small>(Les numéros figurent sur la convocation.)</small>																			
Né(e) le :			/			/														

1.1

5. En utilisant les données fournies dans les **documents 2 et 3** et en expliquant chaque étape de la résolution, calculer la valeur de la pression de la solution perfusée au niveau du bras du patient.

6. Comparer cette valeur avec la pression du sang dans la veine du patient égale à  $1,04 \times 10^5$  Pa. Proposer un commentaire.

**Exercice 4 : Observation d'une chenille à travers une lentille (5 points)**

**MATERIEL ELEVE NECESSAIRE : règle graduée, crayon de bois, gomme et calculatrice**

Une chenille, matérialisée par un objet AB est observée à travers une lentille convergente, ainsi que le représente le **schéma 1** de l'**annexe à rendre avec la copie**. Le rayon issu de B, parallèle à l'axe optique, a été tracé.

1. Mesurer, en mm, la distance focale de la lentille symbolisée sur le schéma 1 de l'**annexe à rendre avec la copie**.

2. Sur le **schéma 1** de l'**annexe à rendre avec la copie**, tracer le rayon issu de B passant par le centre optique de la lentille.

3. Sur le **schéma 1** de l'**annexe à rendre avec la copie**, tracer l'image A'B' de la chenille qui sera symbolisée par une flèche.

4. Choisir la bonne proposition qui caractérise l'image A'B' parmi les suivantes et expliquer le choix du mot « réelle » ou du mot « virtuelle » dans la bonne proposition. Cette image A'B' est :

- virtuelle, droite
- virtuelle, renversée
- réelle, renversée
- réelle, droit

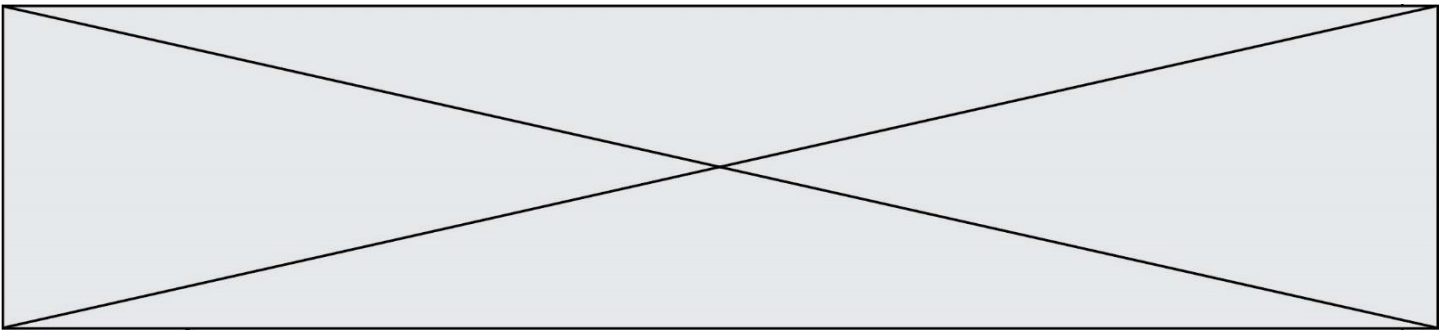
5. Définir et évaluer le grandissement  $\gamma$  à partir de la construction réalisée sur le **schéma 1** de l'**annexe à rendre avec la copie**.

6. En déduire une utilisation pratique de cette lentille dans cette configuration.

7. On rapproche la lentille de la chenille, ainsi que le montre le **schéma 2** de l'**annexe à rendre avec la copie**.

a. Sur ce **schéma 2**, construire la nouvelle image de la chenille, notée A''B''.

b. Déduire de cette construction l'effet de ce rapprochement sur la taille de l'image.



Modèle CCYC : ©DNE

Nom de famille (naissance) :

(Suivi s'il y a lieu, du nom d'usage)

Prénom(s) :

N° candidat :

N° d'inscription :



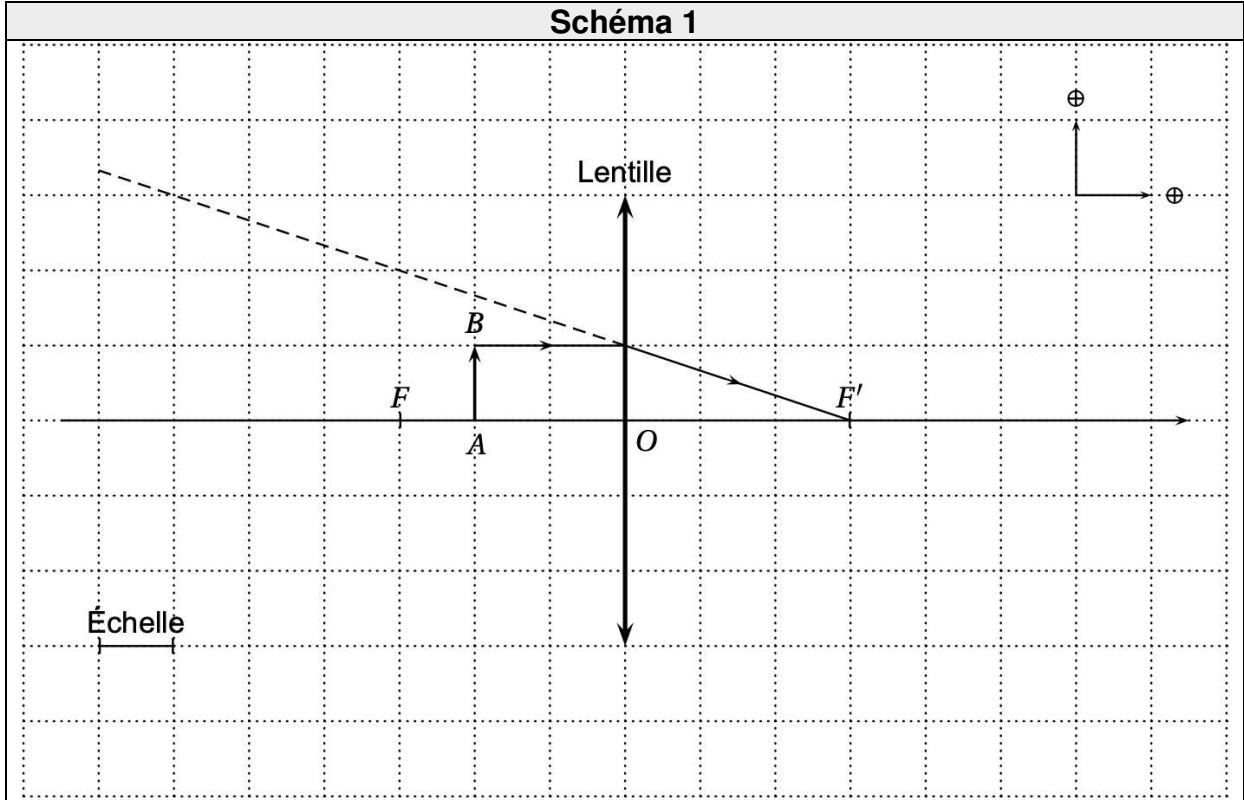
Liberté • Égalité • Fraternité  
RÉPUBLIQUE FRANÇAISE

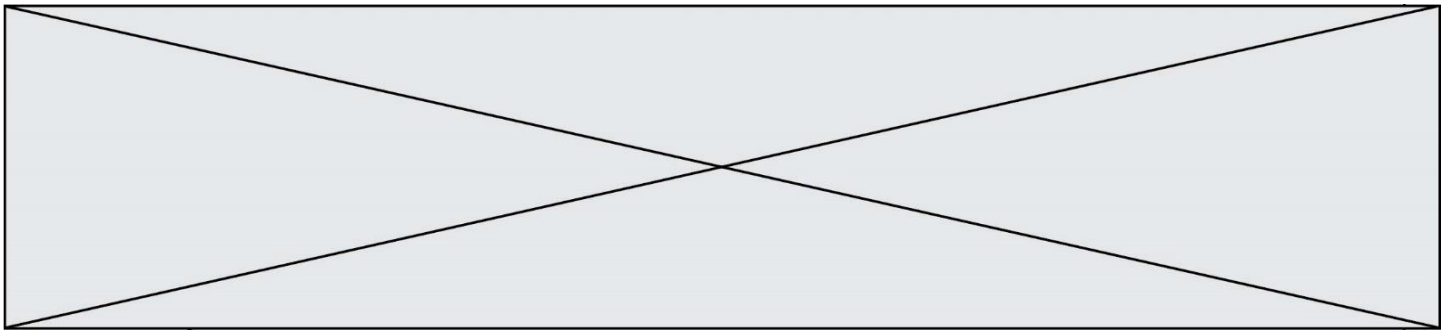
Né(e) le :

(Les numéros figurent sur la convocation.)

1.1

Exercice 4 (schéma 1) : annexe à rendre avec la copie





Exercice 4 (schéma 2) : annexe à rendre avec la copie

