

SUJET

2020-2021

PHYSIQUE-CHIMIE
POUR LA SANTÉ
SPÉ première ST2S

ÉVALUATIONS
COMMUNES

Modèle CCYC : ©DNE

Nom de famille (naissance) :

(Suivi s'il y a lieu, du nom d'usage)

Prénom(s) :

N° candidat : N° d'inscription :

(Les numéros figurent sur la convocation.)

Né(e) le : / /



1.1

ÉVALUATION COMMUNE

CLASSE : Première ST2S

EC : EC1 EC2 EC3

VOIE : Générale Technologique Toutes voies (LV)

ENSEIGNEMENT : Physique-chimie pour la santé

DURÉE DE L'ÉPREUVE : 2h

Niveaux visés (LV) : LVA LVB

Axes de programme :

CALCULATRICE AUTORISÉE : Oui Non

DICTIONNAIRE AUTORISÉ : Oui Non

Ce sujet contient des parties à rendre par le candidat avec sa copie. De ce fait, il ne peut être dupliqué et doit être imprimé pour chaque candidat afin d'assurer ensuite sa bonne numérisation.

Ce sujet intègre des éléments en couleur. S'il est choisi par l'équipe pédagogique, il est nécessaire que chaque élève dispose d'une impression en couleur.

Ce sujet contient des pièces jointes de type audio ou vidéo qu'il faudra télécharger et jouer le jour de l'épreuve.

Nombre total de pages : 13



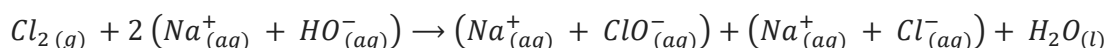
Exercice 1 : Quand le mélange de deux produits d'entretien comporte un risque
(5 points)

L'eau de Javel est un produit ménager présent dans plus de 95 % des foyers, prisé pour ses propriétés désinfectantes, décolorantes mais également utilisé dans le traitement des eaux. L'acide chlorhydrique est souvent utilisé en solution afin de détartrer lavabos et éviers, mais également pour abaisser le pH des eaux de piscines.

Fréquemment cité dans les causes d'intoxication relevées dans les centres anti-poison, le mélange de l'eau de Javel avec l'acide chlorhydrique (13 % des cas d'exposition relevés) est à proscrire ainsi qu'en témoigne cet extrait d'article de presse publié dans les Dernières Nouvelles d'Alsace le 06 juillet 2016 : « Les pompiers ont été alertés peu après 8 h ce mercredi. Un homme de 67 ans venait de mélanger de l'eau de javel à de l'acide chlorhydrique dans le local technique de sa piscine, au sous-sol de son domicile à Waltenheim-sur-Zorn, près de Brumath. L'association des deux produits a entraîné un dégagement de vapeurs irritantes dans l'habitation. Les secours ont dépêché d'importants moyens sur place : 25 sapeurs-pompiers répartis dans sept engins, dont la cellule mobile d'intervention chimique de Strasbourg. ». Quel a été le risque encouru par le résident de la maison lorsqu'il a inhalé ces vapeurs ?

Document 1 : La préparation des solutions d'eau de Javel

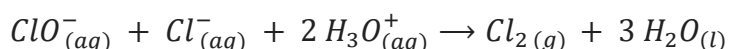
Industriellement, l'eau de Javel est obtenue par dissolution du dichlore gazeux dans un excès de solution aqueuse d'hydroxyde sodium (soude) selon la réaction d'équation :



Cette réaction fortement exothermique est une dismutation du dichlore en ions chlorure Cl^- et en ions hypochlorite ClO^- . La solution obtenue est corrosive et, à cause des ions hypochlorite, instable à la chaleur. Selon sa concentration, le pH de l'eau de Javel est compris entre 11,5 et 12,5.

Document 2 : La réaction des ions de l'eau de Javel avec un acide

Lorsqu'on mélange de l'eau de Javel avec un produit acide, une réaction chimique se produit, dont l'équation est la suivante :



Modèle CCYC : ©DNE

Nom de famille (naissance) :

(Suivi s'il y a lieu, du nom d'usage)

Prénom(s) :

N° candidat : N° d'inscription :

(Les numéros figurent sur la convocation.)

Né(e) le : / /



RÉPUBLIQUE FRANÇAISE

1.1

Document 3 : Extrait de la fiche toxicologique du chlore (source INRS)



CHLORE

Danger

H270 - Peut provoquer ou aggraver un incendie ; comburant
 H315 - Provoque une irritation cutanée
 H319 - Provoque une sévère irritation des yeux
 H331 - Toxique par inhalation
 H335 - Peut irriter les voies respiratoires
 H400 - Très toxique pour les organismes aquatiques

Nota : Les conseils de prudence P sont sélectionnés selon les critères de l'annexe 1 du règlement CE n° 1272/2008.
 231-959-5

Document 4 : Le produit « pH minus » utilisé par le résident de la maison

La valeur du pH joue un rôle essentiel dans l'apparition des algues, les irritations de la peau, la corrosion des pièces, la clarté de l'eau, la formation du calcaire, ... Il est donc important de la contrôler régulièrement et de l'ajuster si nécessaire afin de garantir une qualité optimale de l'eau de baignade.

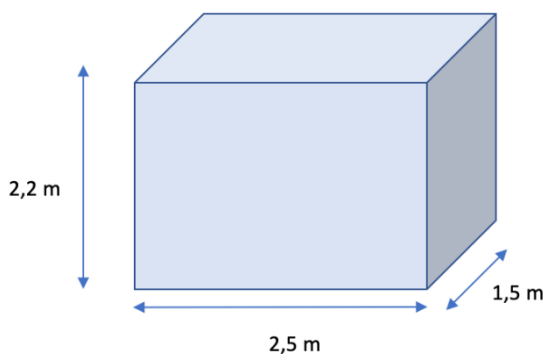
Le produit « pH minus » utilisé par le résident de la maison afin de faire chuter la valeur du pH de l'eau de la piscine est une solution aqueuse d'acide chlorhydrique dont la concentration en ions oxonium vaut $3,0 \text{ mol. L}^{-1}$

Document 5 : Le local piscine au sous-sol de la maison

Le local piscine est un abri indispensable pour garder les différents équipements de la piscine, notamment la pompe, le filtre, le coffret électrique, les passages et les raccordements des canalisations, au sec et à l'abri des intempéries.

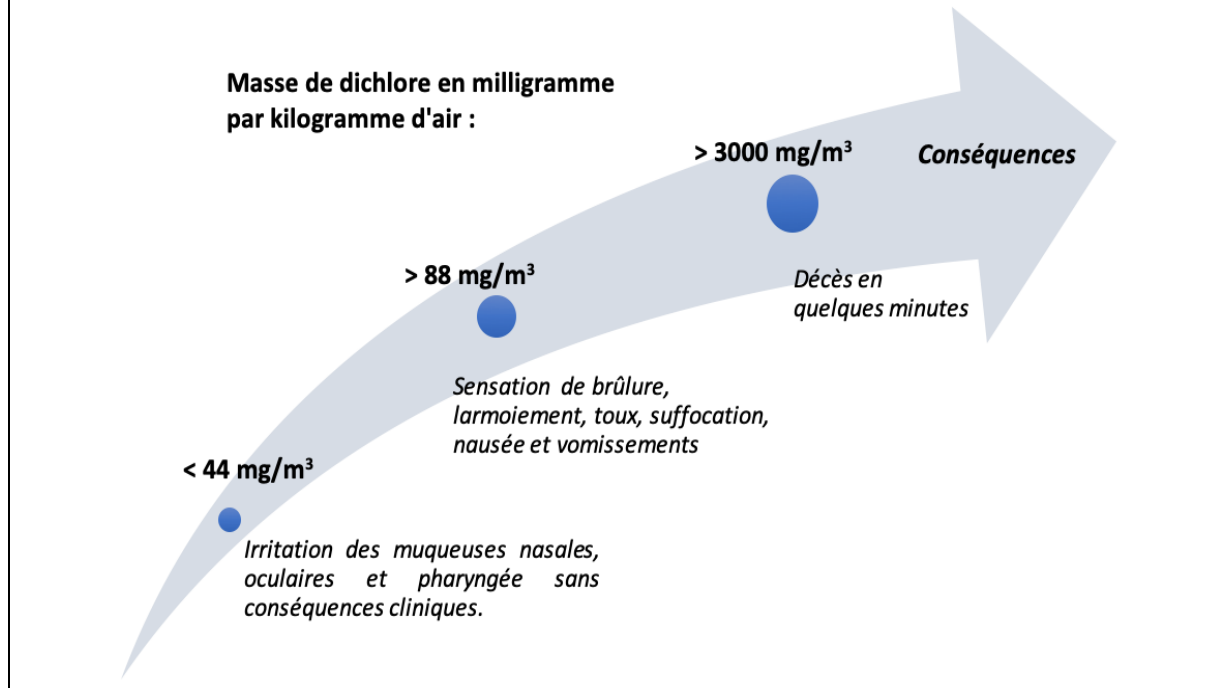
C'est un local ventilé dans lequel sont également entreposés les produits d'entretien de la piscine.

Les dimensions de ce local sont indiquées sur le schéma ci-contre.





Document 6 : Les dangers du dichlore (source INRS)



Données :

- valeur du produit ionique de l'eau : $K_e = 10^{-14}$
- masse molaire du dichlore : $M(\text{Cl}_2) = 71,0 \text{ g.mol}^{-1}$

Les pictogrammes présents sur les bouteilles d'eau de Javel sont les suivants :



1. Indiquer la signification de ces pictogrammes. En exploitant les connaissances acquises et le **document 1**, préciser quelles sont les précautions à prendre pour manipuler et stocker les solutions d'eau de Javel.
2. Préciser, à l'aide du **document 1**, le caractère acide, basique ou neutre des solutions d'eau de Javel. Proposer, toujours à l'aide du document 1, une explication aux valeurs élevées de pH de ces solutions.
3. Comparer la valeur de la concentration molaire en ions oxonium H_3O^+ à celle en ions hydroxyde HO^- d'une solution d'eau de Javel ayant un pH de valeur égale à 12. Préciser, en justifiant la réponse, si le résultat trouvé est cohérent avec la réponse formulée à la question 2.

Modèle CCYC : ©DNE

Nom de famille (naissance) :

(Suivi s'il y a lieu, du nom d'usage)

Prénom(s) :

N° candidat : N° d'inscription :

(Les numéros figurent sur la convocation.)

Né(e) le : / /



RÉPUBLIQUE FRANÇAISE

1.1

4. Expliquer, en utilisant les **documents 2 et 3**, le dégagement de vapeurs irritantes évoqué dans l'article de presse en introduction de cet exercice.

Le résident de la maison a utilisé un volume V égal à 100 mL de solution d'acide chlorhydrique (produit « pH minus ») qu'il a, par mégarde, mélangé avec de l'eau de Javel. Le **document 2** précise que deux moles d'ions oxonium permettent de former une mole de dichlore lors du mélange.

5. Vérifier, par le calcul, en exploitant le **document 4**, que la valeur de la quantité de matière de dichlore, $n(\text{Cl}_2)$, formé lors du mélange est égale à 0,15 mol.

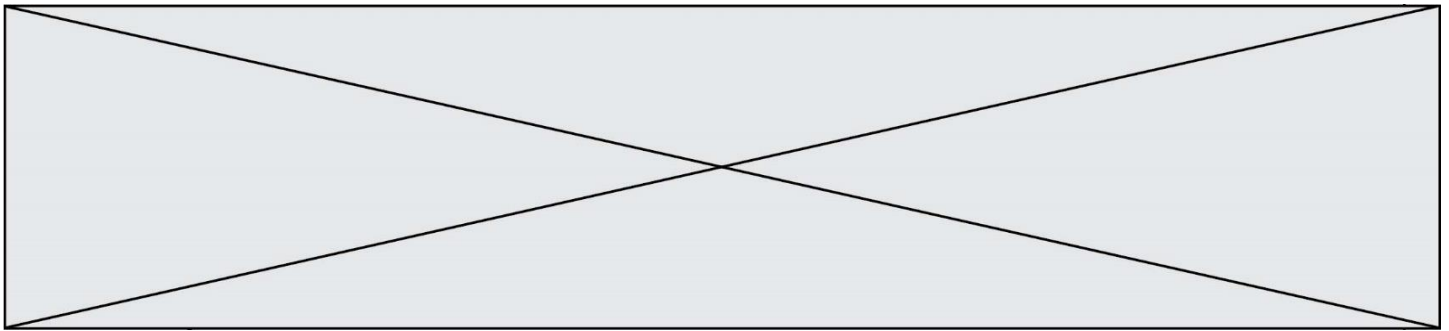
6. En exploitant les **documents 5 et 6** ainsi que le résultat de la question précédente, conclure quant aux risques encourus par le résident de la maison lors du mélange accidentel de l'eau de Javel avec le produit « pH minus ». Argumenter la réponse.

Exercice 2 : Eau de source (5 points)

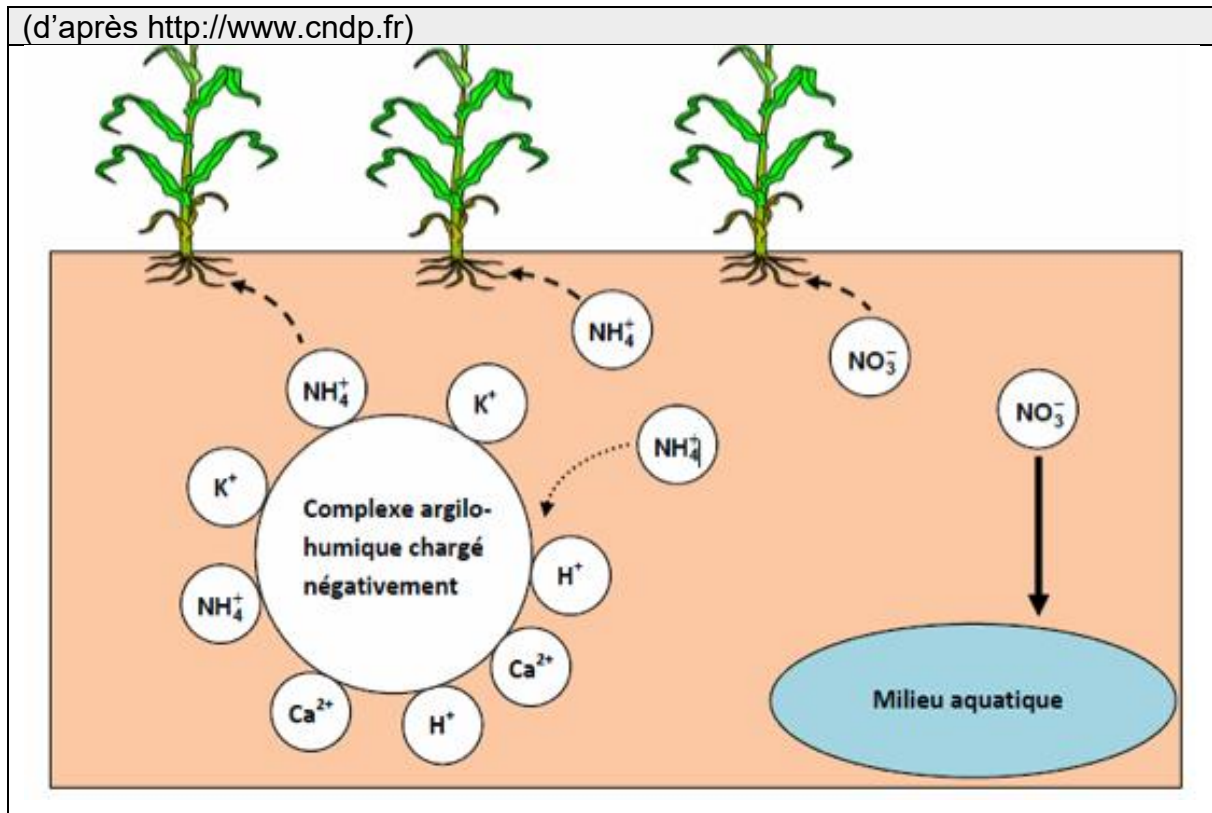
Monsieur X décide de partir vivre à la campagne. Sa maison, isolée, ne dispose pas d'eau de la ville mais d'une source qui peut lui permettre d'alimenter sa maison. Il décide donc de procéder à une analyse de l'eau de cette source avant de la consommer.

Document 1 : extrait du rapport d'analyse de l'eau de la source de Monsieur X		
Paramètres physico chimiques	Valeur limite (arrêté du 11 juin 2007)	Eau de la source
Ion nitrate NO_3^-	50 $\text{mg}\cdot\text{L}^{-1}$	135 $\text{mg}\cdot\text{L}^{-1}$
Ion ammonium NH_4^+	0,10 $\text{mg}\cdot\text{L}^{-1}$	0,2 $\text{mg}\cdot\text{L}^{-1}$
Ion chlorure Cl^-	250 $\text{mg}\cdot\text{L}^{-1}$	4,5 $\text{mg}\cdot\text{L}^{-1}$
Ion sulfate SO_4^{2-}	250 $\text{mg}\cdot\text{L}^{-1}$	54 $\text{mg}\cdot\text{L}^{-1}$
Ion sodium Na^+	200 $\text{mg}\cdot\text{L}^{-1}$	53 $\text{mg}\cdot\text{L}^{-1}$
pH	Entre 6,5 et 9	9,8
Bilan : Eau non potable. Ne peut être utilisée que pour les sanitaires ou pour le nettoyage.		

Document 2 : schéma du complexe argilo humique présent dans le sol



(d'après <http://www.cndp.fr>)



Document 3 : Composition de trois eaux minérales

Ions	Eau minérale A Concentration en $\text{mg}\cdot\text{L}^{-1}$	Eau minérale B Concentration en $\text{mg}\cdot\text{L}^{-1}$	Eau minérale C Concentration en $\text{mg}\cdot\text{L}^{-1}$
Sodium Na^+	1708	9,4	9,1
Potassium K^+	132	5,7	3,2
Calcium Ca^{2+}	90	9,9	486
Magnésium Mg^{2+}	158	6,1	98
Chlorure Cl^-	322	8,4	8,6
Hydrogénocarbonate HCO_3^-	4368	65,3	230
Sulfate SO_4^{2-}	174	6,9	118

Modèle CCYC : ©DNE																				
Nom de famille (naissance) : <small>(Suivi s'il y a lieu, du nom d'usage)</small>																				
Prénom(s) :																				
N° candidat :											N° d'inscription :									
 <small>Liberté • Égalité • Fraternité RÉPUBLIQUE FRANÇAISE</small>	<small>(Les numéros figurent sur la convocation.)</small>																			
Né(e) le :			/			/														

1.1

1. À partir de l'extrait du rapport d'analyse figurant dans le **document 1**, donner deux arguments justifiant que l'eau de Monsieur X n'est pas potable.

La source de monsieur X est proche d'un champ sur lequel un agriculteur répand régulièrement de l'engrais riche en azote contenant des ions nitrate NO_3^- et des ions ammonium NH_4^+ . L'engrais utilisé par l'agriculteur est particulièrement riche en azote N. Monsieur X pense que c'est peut-être pour cette raison que l'eau de source dont il dispose n'est pas potable.

2. Indiquer les deux autres éléments chimiques nécessaires à la croissance d'une plante et qui sont aussi présents dans un engrais.

3. En utilisant le **document 2**, rappeler le rôle du complexe argilo humique dans le développement d'une plante.

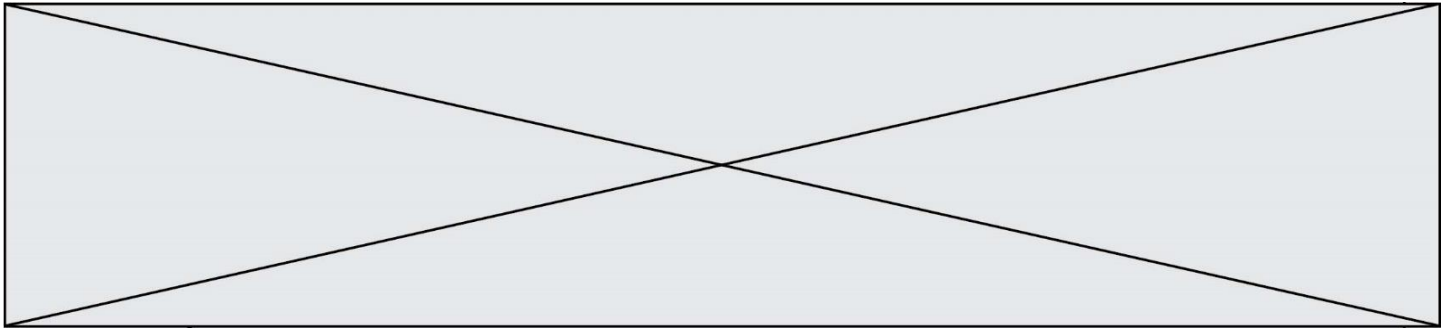
4. À l'aide des **documents 1 et 2**, expliquer pourquoi l'hypothèse de Monsieur X sur l'origine de la pollution de sa source est raisonnable.

Monsieur X décide donc d'acheter des bouteilles d'eau minérale pour sa consommation. Cependant, monsieur X présente des risques cardiovasculaires et souffre fréquemment de constipation. Son médecin lui a conseillé de diminuer sa consommation en sel (chlorure de sodium) par rapport à ses risques cardiovasculaires et de consommer une eau riche en magnésium pour résoudre ses problèmes de constipation.

5. À partir du **document 3**, déterminer l'eau minérale la plus adaptée aux problèmes de santé de monsieur X et qu'il aura avantage à choisir. Justifier soigneusement la réponse à l'aide de deux arguments distincts.

Pour un être humain sans problème de santé particulier, il est conseillé de boire un volume de 1,5 litres d'eau par jour. Par ailleurs les apports journaliers en magnésium recommandés à un être humain sans problème de santé particulier sont d'environ 400 mg.

6. Apprécier, en justifiant la réponse par un commentaire argumenté, comment la consommation de l'eau minérale choisie par monsieur X pourra être suffisante pour satisfaire ses besoins en magnésium.



Exercice 3 : Mesurer et réguler la température lors d'une mission sanitaire (5 points)

Simple élévation de température, la fièvre n'est pas une maladie à combattre. Cette élévation de la température (hyperthermie) est le signe que le corps humain se défend activement contre un agresseur, comme une infection. La température corporelle normale moyenne a une valeur égale à 37 °C (entre 36,5 °C et 37,5 °C selon les individus). On parle de fièvre légère jusqu'à 38 °C, de fièvre modérée entre 38 °C et 38,5 °C et de forte fièvre au-delà.

La cause la plus fréquente de fièvre est l'infection microbienne mais il peut aussi s'agir d'un empoisonnement (aliments avariés, champignons toxiques, venins de serpent...), d'allergènes chez les personnes allergiques, ou encore d'une destruction importante de tissus par une blessure ou une opération. Dans le domaine médical, différents types de thermomètres peuvent être utilisés pour détecter une élévation de la température corporelle.

Le thermomètre à infrarouges comporte un détecteur à infrarouges intégré au thermomètre ; il est utilisé pour un diagnostic médical et permet des mesures de températures corporelles comprises entre 35 °C et 45 °C.

Document 1 : différents détecteurs à infrarouges

Détecteur A	détection des infrarouges de valeurs de longueurs d'onde comprises entre 9,0 μm et 10,0 μm
Détecteur B	détection des infrarouges de valeurs de longueurs d'onde comprises entre 9,0 μm et 9,5 μm
Détecteur C	détection des infrarouges de valeurs de longueurs d'onde comprises entre 9,5 μm et 10,0 μm

Document 2 : l'utilisation du rayonnement infrarouge en médecine

La plupart des objets du quotidien et les êtres vivants émettent des rayonnements infrarouges. Ce sont des rayonnements électromagnétiques, invisibles pour l'œil humain, qui trouvent des applications dans le secteur industriel, dans les systèmes d'alarme pour la détection des intrusions ou encore pour le chauffage. Le rayonnement infrarouge est également utilisé dans le domaine médical et en particulier dans les thermomètres à infrarouges qui permettent, à partir de ces rayonnements émis par le corps humain, de déterminer la température de ce dernier sans nécessiter de contact direct.

Le rayonnement infrarouge émis par le corps humain suit la loi de Wien qui permet de relier la température de surface T d'un corps chaud à la longueur d'onde λ_{max} de la radiation émise par ce corps avec le maximum d'intensité lumineuse :

$$\lambda_{max} = \frac{\text{constante}}{T}$$

avec : λ_{max} en mètre (m)

Modèle CCYC : ©DNE

Nom de famille (naissance) :


(Suivi s'il y a lieu, du nom d'usage)

Prénom(s) :

N° candidat : N° d'inscription :

(Les numéros figurent sur la convocation.)

Né(e) le : / /



Liberté • Égalité • Fraternité
RÉPUBLIQUE FRANÇAISE

1.1

T en Kelvin (K)

$$\text{constante} = 2,89 \times 10^{-3} \text{ m.K}$$

Pour convertir une température θ exprimée en degrés Celsius ($^{\circ}\text{C}$) en une température T exprimée en Kelvin (K), on réalise l'opération suivante : $T(\text{K}) = 273 + \theta(^{\circ}\text{C})$.

Lors de prise de température corporelle, la longueur d'onde du rayonnement électromagnétique émis est d'autant plus petite que la température du corps est élevée, et inversement.

Le thermomètre à infrarouges comporte un détecteur thermique qui transforme le rayonnement capté de longueur d'onde donnée en un signal électrique de valeur proportionnelle à l'intensité du rayonnement reçu. Ce signal est converti, grâce à une chaîne électronique, en une température indiquée sur l'afficheur du thermomètre.

Document 3 : la maladie à virus Ebola d'après l'Organisation Mondiale de la Santé




La maladie à virus Ebola (autrefois appelée aussi fièvre hémorragique à virus Ebola) est une maladie grave, souvent mortelle chez l'homme. Le virus se transmet à l'homme à partir des animaux sauvages et se propage ensuite dans les populations par transmission interhumaine. Le taux de létalité moyen est d'environ 50 %. Au cours des flambées précédentes, les taux sont allés de 25 % à 90 %.

La participation de la communauté est essentielle pour juguler les flambées. Pour être efficace, la lutte doit se fonder sur un ensemble d'interventions : prise en charge des cas, mesures de prévention des infections et de lutte, surveillance et recherche des contacts, services de laboratoire de qualité, inhumations sans risque et dans la dignité et mobilisation sociale.

Les soins de soutien précoces axés sur la réhydratation et le traitement symptomatique améliorent les taux de survie. Aucun traitement homologué n'a pour l'instant démontré sa capacité à neutraliser le virus, mais plusieurs traitements (dérivés du sang, immunologiques ou médicamenteux) sont à l'étude.



Document 4 : Tableau comparatif des différents types de thermomètres

Thermomètre	Au gallium	Électronique	À infrarouges
Photographie	 On observe 10 graduations pour un degré Celsius	 36,2 °C	 Valeur affichée : 24,2 °C
Mesure	Par contact direct avec le patient - Temps de réponse d'environ 1 min	Par contact direct avec le patient - Temps de réponse d'environ 1 min	Sans contact, à quelques centimètres de l'oreille - Temps de réponse d'environ 5 s
Gamme de température	De 35 °C à 42 °C	De 32 °C à 42 °C	De 10 °C à 50 °C
Prix unitaire	8,46 €	7,49 €	37,44 €

Donnée :

$1 \mu\text{m} = 1000 \text{ nm}$

1. Reproduire sur la copie la **figure 1** ci-dessous et la compléter en indiquant les domaines des ondes électromagnétiques à l'extérieur du domaine de la lumière visible, les valeurs limites de longueurs d'onde des radiations du domaine du visible ainsi que les couleurs correspondant à ces limites dans le domaine de la lumière visible.

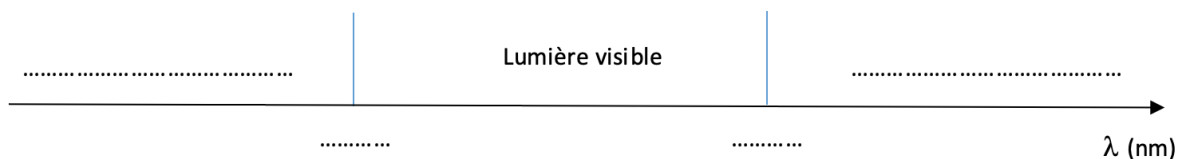


Figure 1 : Extrait du spectre des ondes électromagnétiques

2. À l'aide de la **figure 2** sur l'**annexe à rendre avec la copie**, déterminer les valeurs de longueurs d'onde des radiations émises avec une intensité maximale pour des corps dont les valeurs de température sont égales à 32 °C, 37 °C et 45 °C. On fera apparaître les traits de construction.

3. Indiquer en exploitant le **document 1**, le (ou les) détecteur(s) à infrarouges adapté(s) à la mesure d'une température corporelle comprise entre 35 °C et 45 °C.

4. En explicitant la démarche et en exploitant le **document 2** et/ou la **figure 2**, comparer la longueur d'onde du rayonnement émis par un corps humain en bonne santé λ_B à celle λ_F du rayonnement émis par un corps fébrile.

Modèle CCYC : ©DNE

Nom de famille (naissance) :

(Suivi s'il y a lieu, du nom d'usage)

Prénom(s) :

N° candidat : N° d'inscription :

(Les numéros figurent sur la convocation.)

Né(e) le : / /

 Liberté • Égalité • Fraternité
RÉPUBLIQUE FRANÇAISE

1.1

L'épidémie d'Ebola en République Démocratique du Congo (RDC), déclarée en août 2018, a fait plus de 750 morts, selon l'Organisation Mondiale de la Santé (OMS). Une équipe de médecins d'une Organisation Non Gouvernementale (ONG), exerçant des missions humanitaires, se rend sur les lieux de l'épidémie. Plusieurs thermomètres se trouvent dans la trousse médicale des médecins.

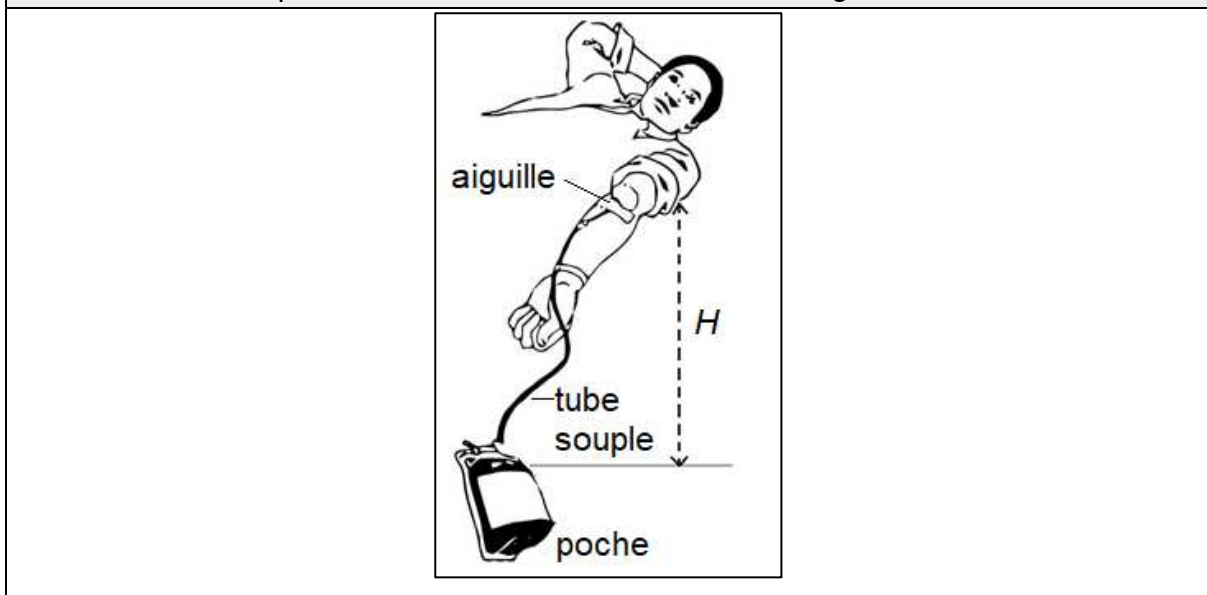
5. À l'aide des **documents 3 et 4**, comparer les trois thermomètres en termes de rapidité de lecture, de coût et d'utilisation sanitaire.

6. Choisir, en proposant une argumentation, le thermomètre le plus adapté à la mission « RDC ».

Exercice 4 : Le don du sang (5 points)

Le don de sang permet de prélever en même temps tous les composants du sang – globules rouges, plasma et plaquettes – qui sont ensuite séparés.

Document 1 : Disposition du donneur lors du don de sang



Le volume de sang prélevé lors d'un don se situe toujours entre 420 mL et 480 mL. Il est évalué par le médecin qui reçoit le donneur. Ce volume est déterminé en fonction de la masse corporelle du donneur à raison de 7 mL/kg.

Un étudiant de 75 kg remplit toutes les conditions de santé pour donner son sang.

Donnée : 1 mL = 10^{-6} m³



1. Montrer que cet étudiant peut effectuer le don maximum autorisé, soit un volume de sang égal à 480 mL.

2. Dans les conditions opératoires, le débit sanguin D lors du prélèvement vaut $0,80 \text{ mL}\cdot\text{s}^{-1}$. Déterminer la durée du prélèvement.

Pour réaliser le prélèvement, l'infirmier utilise une aiguille de 14 gauges, c'est-à-dire une aiguille dont la section intérieure a une surface S égale à $2,1 \times 10^{-6} \text{ m}^2$.

3. Déterminer la valeur de la vitesse d'écoulement du sang dans l'aiguille.

4. La vitesse d'écoulement du sang dans le tube souple reliant l'aiguille à la poche de récupération du sang est plus faible que la vitesse d'écoulement dans l'aiguille. Proposer une explication.

L'infirmier constate que la valeur du débit sanguin diminue s'il réduit la hauteur H indiquée sur le **document 1**. Il observe même que le débit sanguin ne s'annule pas lorsque la poche de recueil est placée à la même hauteur que le bras (ce qui correspond à $H = 0$).

5. En vous appuyant sur l'observation que le débit sanguin ne s'annule pas lorsque $H=0$, comparer les pressions du sang dans la veine et dans la poche de recueil.

Modèle CCYC : ©DNE

Nom de famille (naissance) :


(Suivi s'il y a lieu, du nom d'usage)

Prénom(s) :

N° candidat : N° d'inscription :

(Les numéros figurent sur la convocation.)

Né(e) le : / /



1.1

Exercice 3 : annexe à rendre avec la copie

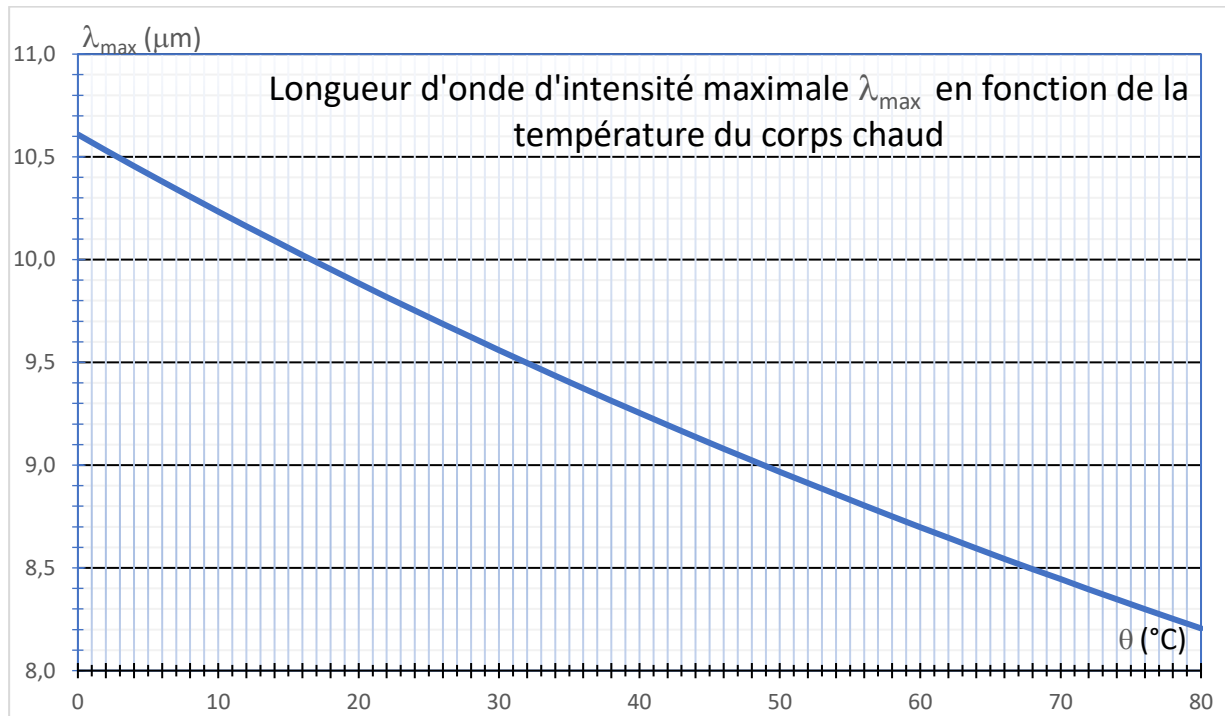


Figure 2 : Graphique permettant de déterminer la température d'une source à l'aide de la Loi de Wien