

# SUJET

## 2020-2021

PHYSIQUE-CHIMIE  
POUR LA SANTÉ  
SPÉ première ST2S

ÉVALUATIONS  
COMMUNES

Modèle CCYC : ©DNE

Nom de famille (naissance) :

(Suivi s'il y a lieu, du nom d'usage)

Prénom(s) :

N° candidat :  N° d'inscription :

(Les numéros figurent sur la convocation.)

Né(e) le :  /  /



Liberté • Égalité • Fraternité  
RÉPUBLIQUE FRANÇAISE

1.1

## ÉVALUATION COMMUNE

**CLASSE :** Première ST2S

**EC :**  EC1  EC2  EC3

**VOIE :**  Générale  Technologique  Toutes voies (LV)

**ENSEIGNEMENT :** Physique-chimie pour la santé

**DURÉE DE L'ÉPREUVE :** 2h

Niveaux visés (LV) : LVA LVB

Axes de programme :

**CALCULATRICE AUTORISÉE :**  Oui  Non

**DICTIONNAIRE AUTORISÉ :**  Oui  Non

Ce sujet contient des parties à rendre par le candidat avec sa copie. De ce fait, il ne peut être dupliqué et doit être imprimé pour chaque candidat afin d'assurer ensuite sa bonne numérisation.

Ce sujet intègre des éléments en couleur. S'il est choisi par l'équipe pédagogique, il est nécessaire que chaque élève dispose d'une impression en couleur.

Ce sujet contient des pièces jointes de type audio ou vidéo qu'il faudra télécharger et jouer le jour de l'épreuve.

**Nombre total de pages :** 13



### Exercice 1 : Un déboucheur de canalisation (5 points)

Qui n'a pas, un jour ou l'autre, eu la mauvaise surprise d'avoir un lavabo ou un évier bouché ? L'objectif de cet exercice est d'étudier les caractéristiques de diverses solutions de déboucheurs de canalisations.

#### Document 1 : Recette d'un déboucheur « écologique »

Mélanger 100 g de bicarbonate de soude, 100 g de sel, 80 cL de vinaigre et le jus d'un demi-citron.

Verser le mélange dans la canalisation bouchée : une effervescence se produit. Attendre quelques heures et rincer à l'eau bouillante une fois l'opération terminée pour entraîner les résidus solides.

#### Document 2 : Extrait de l'étiquette d'un déboucheur commercial

##### Débouch'tout

10 % en masse environ de soude caustique

À utiliser avec précautions



Éviter d'utiliser dans les eaux stagnantes, si possible attendre l'infiltration des eaux résiduelles à travers le bouchon formé

Verser 500 mL de déboucheur - Attendre une demi-heure.

Renouveler si nécessaire l'opération en laissant agir toute la nuit.

#### Document 3 : Extrait de la fiche de sécurité de l'hydroxyde de sodium (source : INRS)

##### Hydroxyde de sodium en solution

(soude caustique) NaOH

$M = 40,0g \cdot mol^{-1}$

Mention d'avertissement (CLP) :



Mention de danger (CLP) :

H290 - Peut être corrosif pour les métaux.

H314 - Provoque des brûlures de la peau et des lésions oculaires graves.

Modèle CCYC : ©DNE																				
Nom de famille (naissance) : <small>(Suivi s'il y a lieu, du nom d'usage)</small>																				
Prénom(s) :																				
N° candidat :											N° d'inscription :									
 Liberté • Égalité • Fraternité RÉPUBLIQUE FRANÇAISE	(Les numéros figurent sur la convocation.)																			
Né(e) le :			/			/														

1.1

#### Document 4 : Définition du pourcentage en masse d'hydroxyde de sodium dans le déboucheur

Un « pourcentage en masse » de n% correspond à une masse d'hydroxyde de sodium NaOH égale à une fraction  $\frac{n}{100}$  de la masse d'un litre de déboucheur :

$$m_{\text{NaOH}} = \frac{n}{100} \times m_{1,0\text{L de déboucheur}}$$

La masse d'un litre de déboucheur est égale à 1210 g.

#### Document 5 : Liste du matériel disponible

Liste du matériel disponible :

- une balance électronique,
- une spatule,
- un compte-goutte,
- une burette graduée de 25 mL,
- une coupelle de pesée,
- un dispositif de pipetage,
- des tubes à essais,
- des-éprouvettes graduées de 250 mL, 500 mL et 1 L,
- des-béchers de 250 mL, 500 mL et 1 L,
- des fioles jaugées de 250 mL, 500,0 mL et 1,0 L,
- des pipettes graduées de 10,0 mL et 25,0 mL,
- des pipettes jaugées de 10,0 mL, 25,0 mL, 50,0 mL et 100,0 mL
- une pissette d'eau distillée.

#### Données :

Couples acide / base :  $C_2H_4O_2 / C_2H_3O_2^-$  ;  $CO_2, H_2O / HCO_3^-$

Grâce à une simple recherche sur Internet, le grand public accède désormais facilement à la connaissance de protocoles issus de la chimie, que l'on peut mettre en œuvre afin d'éliminer le bouchon formé dans une canalisation. Il convient toutefois de garder un esprit critique à l'égard de ces informations.

Le document 1 illustre un exemple de « recette » simple pour confectionner un déboucheur « écologique ». Lors du mélange du vinaigre avec le bicarbonate de soude, l'effervescence observée contribue à la dissolution du bouchon.

**1.** Écrire l'équation de la réaction acido-basique se produisant entre l'acide éthanoïque  $C_2H_4O_2$  présent dans le vinaigre et les ions hydrogénocarbonate  $HCO_3^-$  contenus dans le bicarbonate de soude. Expliquer alors l'origine de l'effervescence signalée dans le **document 1**.

Lorsque le déboucheur « écologique » n'agit pas assez rapidement ou ne dissout qu'une partie du bouchon, il est conseillé d'utiliser un déboucheur commercial en prenant quelques précautions.



2. Indiquer, en utilisant le **document 2**, dans quel intervalle de valeurs se situe le pH d'une solution de déboucheur commercial « Débouch'tout ». Justifier la réponse.

3. Lors du contact de la solution d'un déboucheur tel que le déboucheur « Débouch'tout » avec l'eau stagnante, une réaction exothermique se produit. Indiquer la signification du terme exothermique et le risque encouru lors du mélange.

4. En exploitant les **documents 2 à 4** et les connaissances acquises, prouver que la concentration molaire  $C_1$  en hydroxyde de sodium dans le flacon, de volume égal à 1,0 L, de déboucheur « Débouch'tout » a une valeur voisine de  $3,0 \text{ mol.L}^{-1}$ .

On souhaite préparer une solution d'hydroxyde de sodium de concentration identique à celle de l'hydroxyde de sodium dans la solution commerciale « Débouch'tout ». À cet effet, on dispose d'une solution d'hydroxyde de sodium de concentration molaire  $C_2$  égale à  $12,0 \text{ mol.L}^{-1}$ .

5. Indiquer le nom de la technique expérimentale à mettre en œuvre pour cette préparation. À l'aide du **document 5**, identifier (nom et contenance) et schématiser les éléments de verrerie nécessaires à cette opération. Argumenter la réponse.

6. Indiquer les précautions qu'il convient de prendre afin de préparer, en toute sécurité, la solution de déboucheur.

### Exercice 2 : Les nanomédicaments, une autre approche thérapeutique (5 points)

Lors de l'introduction d'un médicament dans l'organisme, le principe actif rencontre des barrières naturelles qui peuvent limiter son efficacité. C'est ainsi que de nombreuses molécules peinent à traverser les membranes cellulaires lorsqu'elles sont trop hydrophiles ou ont une masse moléculaire trop élevée. Au lieu d'exercer sa fonction thérapeutique de manière ciblée, le médicament peut alors produire des effets toxiques imprévus et il n'est pas garanti qu'il atteigne bien sa cible.

Pour résoudre ces difficultés, une nouvelle approche consiste à employer un nanomédicament, constitué de l'association d'un principe actif avec un nanovecteur dont le rôle est d'enfermer et de transporter efficacement ce principe actif vers sa cible. Les phospholipides, présentés dans le **document 1**, sont utilisés pour former des nanovecteurs. Deux exemples de nanovecteurs, le liposome et la micelle, sont schématisés dans le **document 2**.

Modèle CCYC : ©DNE

Nom de famille (naissance) :

(Suivi s'il y a lieu, du nom d'usage)

Prénom(s) :

N° candidat :

N° d'inscription :



Liberté • Égalité • Fraternité  
RÉPUBLIQUE FRANÇAISE

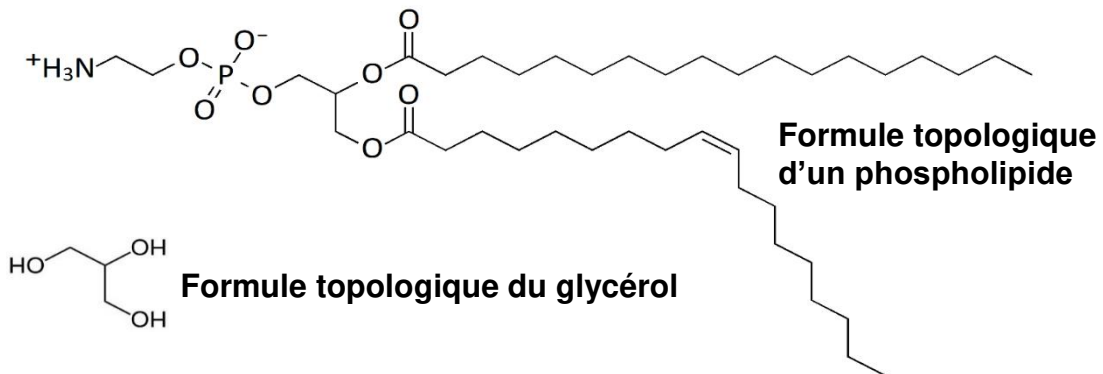
Né(e) le :

(Les numéros figurent sur la convocation.)

1.1

### Document 1 : les phospholipides


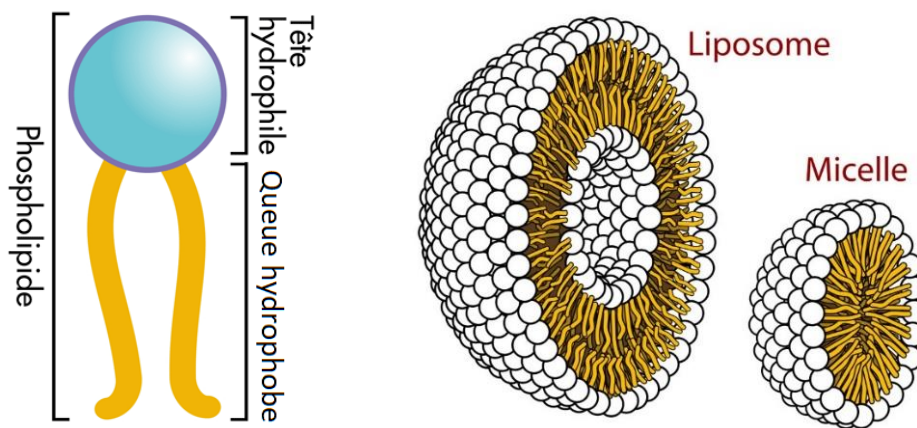
Utilisés pour former des nanovecteurs, les phospholipides composent aussi la membrane plasmique des cellules. Ils sont formés à partir d'une molécule de glycérol dans laquelle une fonction alcool est remplacée par un groupement phosphate et les deux autres fonctions alcools sont remplacées par un acide gras.





**Document 2** : deux exemples de nanovecteurs

Il existe une grande variété de nanovecteurs qui se distinguent par leur composition (organique ou non), leur architecture ou encore leur taille. Le liposome et la micelle, schématisés ci-dessous, sont deux exemples de nanovecteurs constitués de l'assemblage d'un grand nombre de phospholipides.




Photographie de liposomes au microscope électronique

**Données :**

micromètre :  $1 \mu\text{m} = 10^{-6} \text{ m}$

nanomètre :  $1 \text{ nm} = 10^{-9} \text{ m}$

Modèle CCYC : ©DNE																				
Nom de famille (naissance) : <small>(Suivi s'il y a lieu, du nom d'usage)</small>																				
Prénom(s) :																				
N° candidat :											N° d'inscription :									
 Liberté • Égalité • Fraternité RÉPUBLIQUE FRANÇAISE	<small>(Les numéros figurent sur la convocation.)</small>																			
Né(e) le :			/			/														

1.1

1. L'atome d'oxygène est plus électronégatif que l'atome d'hydrogène. Expliquer, à l'aide d'un schéma, pourquoi la molécule d'eau est polaire.
2. Donner la formule semi-développée du glycérol et y entourer les fonctions alcool.
3. Recopier la formule topologique d'un phospholipide figurant sur le **document 1** et entourer la partie hydrophile du phospholipide. Expliquer l'origine du caractère hydrophile de cette partie du phospholipide.
4. Sur la formule topologique d'un phospholipide qui a été recopiée à la question 3, repérer en l'encadrant la partie du phospholipide issue d'un acide gras saturé. Justifier la réponse.
5. Le **document 2** présente deux exemples de nanovecteurs : le liposome et la micelle.

Indiquer en le justifiant, éventuellement à l'aide d'un schéma simple, lequel de ces nanovecteurs peut être utilisé pour véhiculer un médicament hydrophobe.

6. Dans une revue scientifique, on peut lire « certains liposomes sont environ 70 fois plus petits qu'un globule rouge mesurant  $7\ \mu\text{m}$  ».

En le justifiant, indiquer si cette affirmation est en accord avec les informations disponibles dans le **document 2**.

### Exercice 3 : les risques encourus par l'usage d'un appareil électrique défectueux (5 points)

L'électricien des services techniques de l'hôpital est en intervention dans une pièce du sous-sol. Afin d'éclairer les lieux, il tient dans une main une baladeuse c'est-à-dire une lampe électrique portative puis il saisit avec l'autre main la porte d'un autoclave dédié à la stérilisation du matériel médical. Dès qu'il touche cette porte, il est très rapidement projeté en arrière et perd connaissance. Le disjoncteur coupe alors le circuit électrique au bout de 200 ms.

Un médecin réanime la victime après avoir débranché la baladeuse et écarté la main crispée de l'électricien de cette dernière. L'enquête permet d'établir que cette lampe baladeuse n'est pas conforme aux normes électriques NF C15-100. L'isolation des conducteurs d'alimentation de cette dernière est détériorée au niveau de leur entrée dans le manche de la lampe.

L'objectif de cet exercice est de comprendre les constatations du médecin ayant secouru l'électricien.

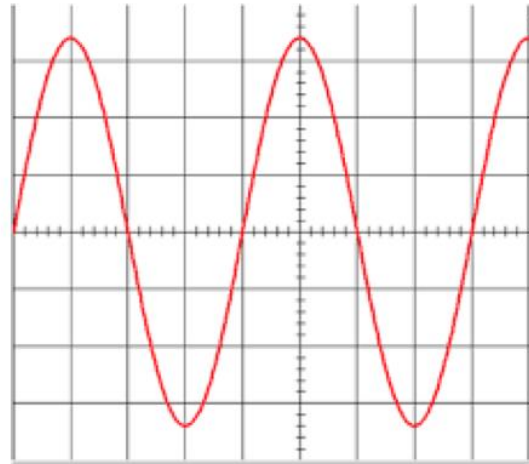




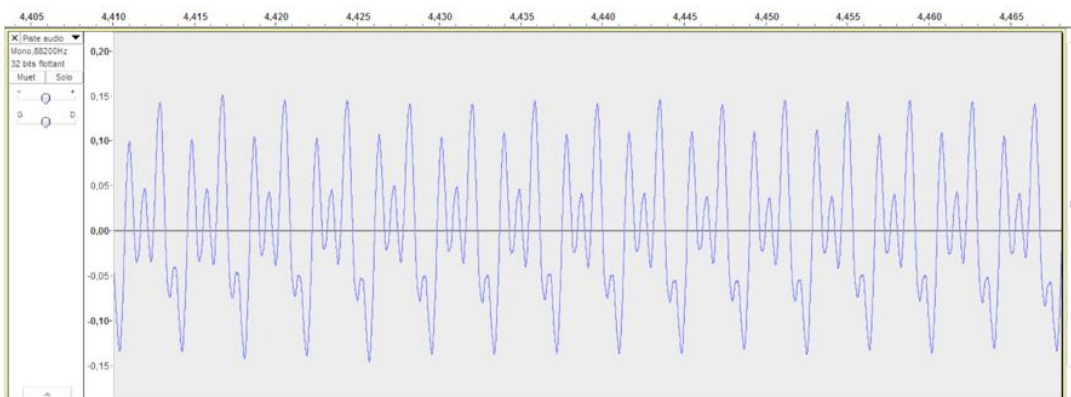
**Document 1 : Enregistrements de signaux de la vie quotidienne**



**1 : Enregistrement d'un électrocardiogramme**



**2 : Oscillogramme d'un signal inconnu**



**3 : Enregistrement de la note Do3 d'un orgue**

Réglages réalisés sur l'oscilloscope de la figure 2 :

- sensibilité verticale : 100 V / div
- base de temps : 5 ms / div

**Document 2 : La résistance du corps humain en fonction de la tension de contact  $U_c$  et de l'état de la peau (d'après <http://www.ac-poitiers.fr>)**

Le corps humain, est conducteur du courant électrique. Si une personne est soumise à une tension électrique, par exemple entre sa main droite et sa main gauche, ou entre sa main et le sol, un courant électrique va traverser son corps. La résistance électrique du corps humain varie et dépend de plusieurs paramètres : type de courant, intensité du courant, durée du passage du courant, état de la peau (sèche, humide, mouillée), nature du sol, capacité d'isolation des chaussures portées, etc. On peut considérer que la résistance moyenne du corps humain est

Modèle CCYC : ©DNE

Nom de famille (naissance) :

(Suivi s'il y a lieu, du nom d'usage)

Prénom(s) :

N° candidat :

N° d'inscription :



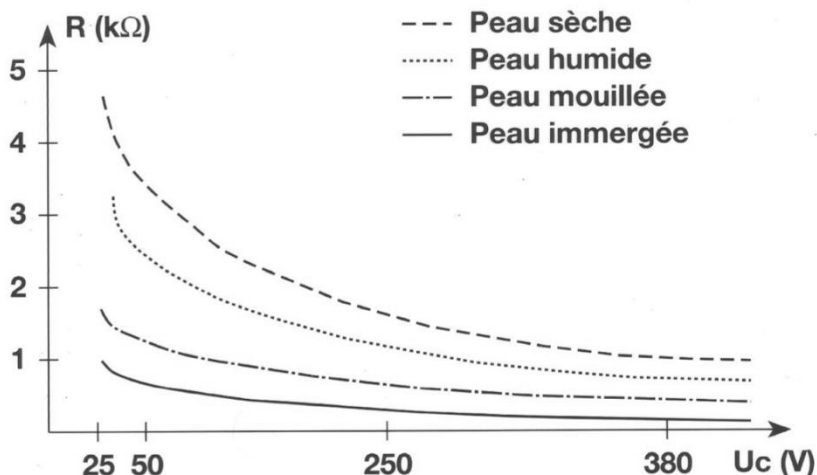
Né(e) le :

(Les numéros figurent sur la convocation.)

1.1

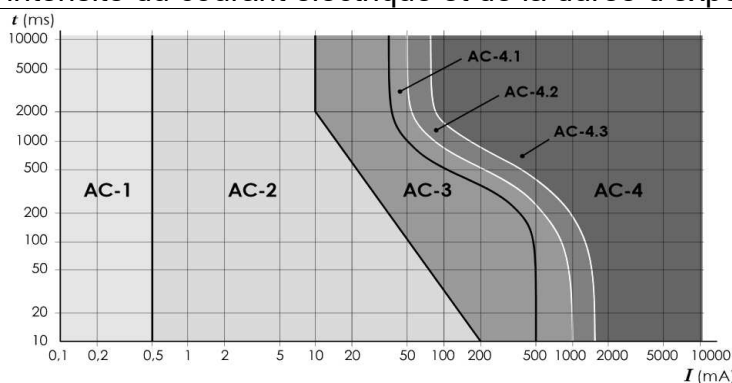
de l'ordre de 2 kΩ. Le graphique suivant indique les variations de la résistance du corps humain en fonction de la tension de contact et de l'état de la peau.

## RÉSISTANCE DU CORPS HUMAIN



### Document 3 : Effets physiologiques du courant sur le corps humain

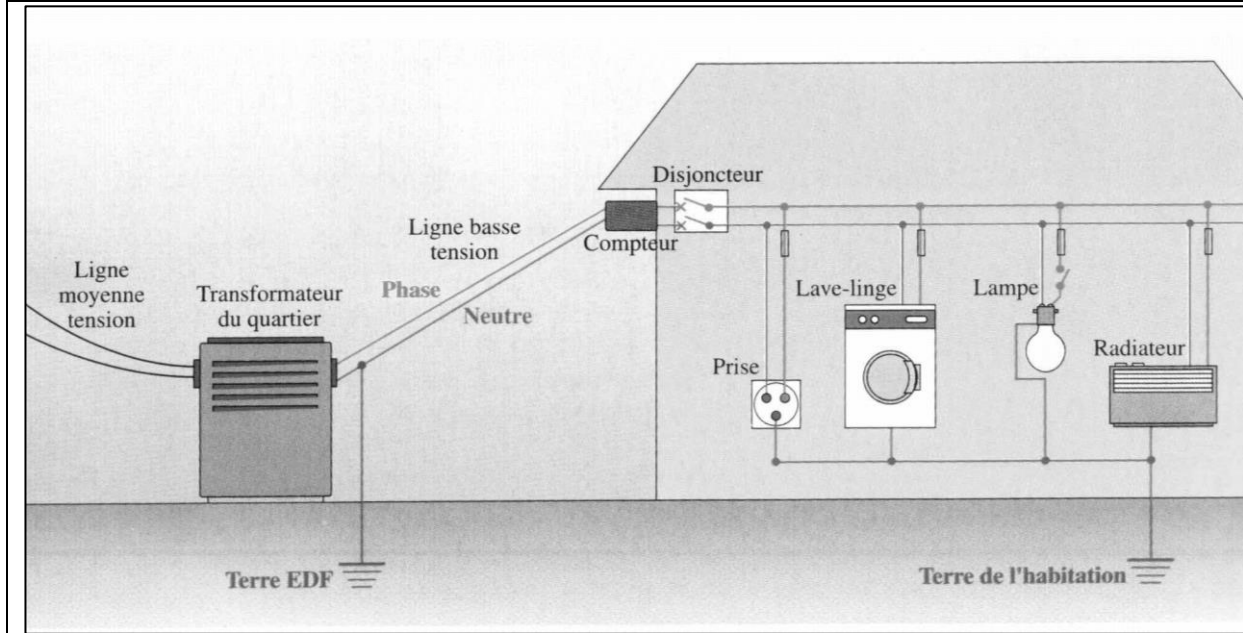
Les données ci-dessous explicitent les effets physiologiques du courant alternatif en fonction de l'intensité du courant électrique et de la durée d'exposition



Zone	Principaux effets physiologiques constatés
AC-1	Aucune réaction
AC-2	Sensations désagréables mais pas d'effets physiologiques dangereux
AC-3	Tétanisation musculaire avec risque de paralysie respiratoire mais sans fibrillation ventriculaire
AC-4	Fibrillation ventriculaire, possibilités d'arrêt respiratoire, d'arrêt cardiaque, de brûlures graves, etc



**Document 4** : Schéma de principe d'une installation électrique



**Donnée :**

Loi d'Ohm reliant la tension  $U$  exprimée en volt (V) aux bornes d'un dipôle, l'intensité  $I$  exprimée en ampère (A) du courant qui le traverse et la résistance  $R$  exprimée en ohm ( $\Omega$ ) du dipôle étudié :  $U = R \times I$ .

1. Citer une propriété commune aux trois signaux représentés sur le **document 1**, relativement à l'allure de ces signaux.
2. Expliciter les calculs de la fréquence et de la tension efficace du signal inconnu à partir de son oscillogramme figurant dans le **document 1**, et conclure qu'il peut s'agir de l'oscillogramme de la tension du secteur.

Le risque électrique est lié à la résistance du corps humain qui peut varier en fonction de l'individu et de l'état de la peau. Lors de son accident, l'électricien se trouvait dans un local parfaitement sec et sa peau était sèche lorsqu'il est entré en contact avec la phase du secteur.

3. Évaluer, en exploitant le **document 2**, la valeur approchée de l'intensité du courant (exprimée en milliampère) ayant traversé le corps de l'électricien.
4. À l'aide de l'étude précédente et du **document 3**, déduire la nature des constatations effectuées par le médecin lors de l'accident de l'électricien.

Modèle CCYC : ©DNE

Nom de famille (naissance) :


(Suivi s'il y a lieu, du nom d'usage)

Prénom(s) :

N° candidat :  N° d'inscription :

(Les numéros figurent sur la convocation.)

Né(e) le :  /  /



1.1

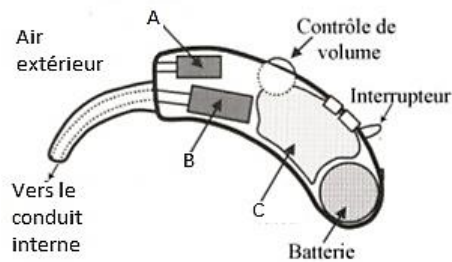
5. Citer deux règles de sécurité, dans la vie quotidienne à la maison, à respecter afin d'éviter les risques d'électrisation.

6. Identifier, sur le schéma de l'installation électrique figurée sur le **document 4**, les éléments utilisés afin de protéger les usagers du réseau électrique.

#### Exercice 4 : L'appareillage auditif (5 points)

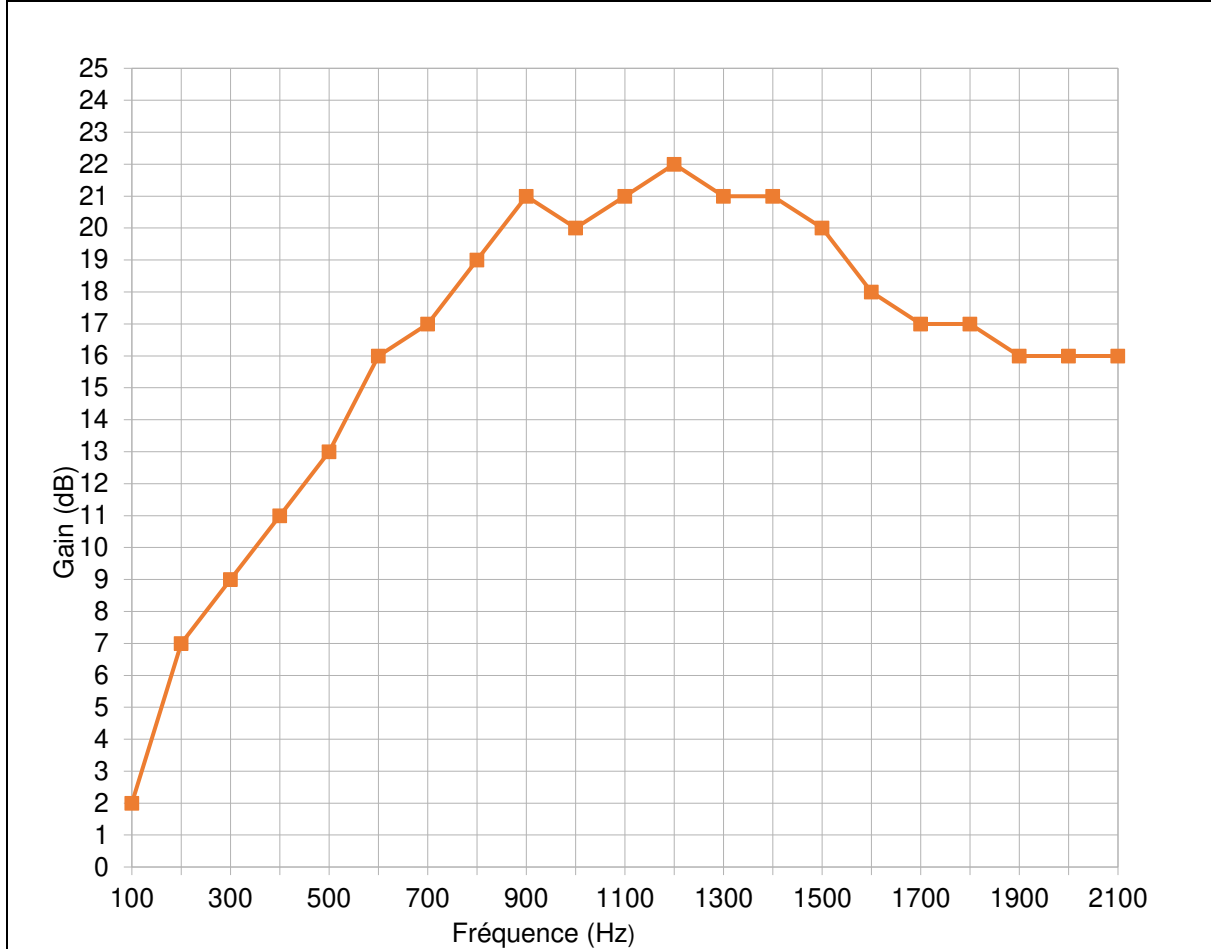
À la fois puissantes et discrètes, les prothèses auditives sont aujourd'hui efficaces et faciles d'utilisation. Elles ont évolué au même rythme que les avancées technologiques. De l'appareil d'entrée de gamme à des modèles plus sophistiqués, les prothèses auditives actuelles ont une excellente qualité de restitution sonore.

#### Document 1 : Schéma simplifié d'une prothèse auditive





**Document 2** : Gain de la prothèse auditive en fonction de la fréquence



**Donnée :**

La période  $T$  d'une onde est égale à l'inverse de sa fréquence  $f$ .

1. Associer aux lettres A, B et C, figurant sur le schéma simplifié d'une prothèse auditive dans le **document 1**, les termes suivants : amplificateur ; haut-parleur et microphone.

2. Expliquer brièvement le principe de fonctionnement d'une prothèse auditive de même type que celle décrite au **document 1**.

Un fabricant de prothèses auditives effectue une série de tests avant de commercialiser une prothèse auditive. Il obtient alors la courbe tracée au **document 2**.

3. Expliquer l'intérêt de réaliser la série de tests dans la gamme de fréquence indiquée dans le **document 2**.

Modèle CCYC : ©DNE

Nom de famille (naissance) :

(Suivi s'il y a lieu, du nom d'usage)

Prénom(s) :

N° candidat :  N° d'inscription :

(Les numéros figurent sur la convocation.)

Né(e) le :  /  /



1.1

4. Indiquer le nom de l'unité dont le symbole est dB.
5. Calculer la période temporelle d'un son dont la fréquence est égale à 440Hz.
6. Déterminer graphiquement, en expliquant la démarche, le gain de la prothèse pour le son dont la fréquence est égale à 440 Hz.
7. Déterminer graphiquement, en expliquant la démarche, la fréquence pour laquelle la prothèse auditive est la plus efficace.