

SUJET

2020-2021

PHYSIQUE-CHIMIE
POUR LA SANTÉ
SPÉ première ST2S

ÉVALUATIONS
COMMUNES

Modèle CCYC : ©DNE

Nom de famille (naissance) :

(Suivi s'il y a lieu, du nom d'usage)

Prénom(s) :

N° candidat : N° d'inscription :

(Les numéros figurent sur la convocation.)

Né(e) le : / /



1.1

ÉVALUATION COMMUNE

CLASSE : Première ST2S

EC : EC1 EC2 EC3

VOIE : Générale Technologique Toutes voies (LV)

ENSEIGNEMENT : Physique-chimie pour la santé

DURÉE DE L'ÉPREUVE : 2h

Niveaux visés (LV) : LVA LVB

Axes de programme :

CALCULATRICE AUTORISÉE : Oui Non

DICTIONNAIRE AUTORISÉ : Oui Non

Ce sujet contient des parties à rendre par le candidat avec sa copie. De ce fait, il ne peut être dupliqué et doit être imprimé pour chaque candidat afin d'assurer ensuite sa bonne numérisation.

Ce sujet intègre des éléments en couleur. S'il est choisi par l'équipe pédagogique, il est nécessaire que chaque élève dispose d'une impression en couleur.

Ce sujet contient des pièces jointes de type audio ou vidéo qu'il faudra télécharger et jouer le jour de l'épreuve.

Nombre total de pages : 11



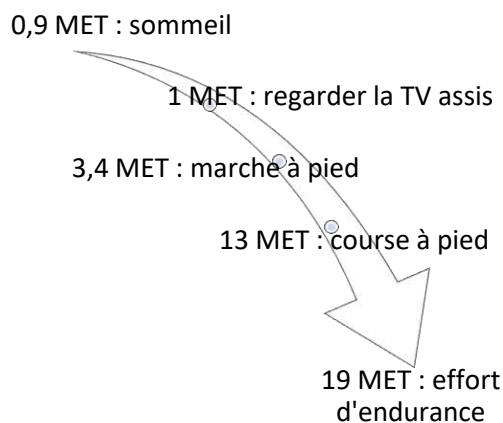
Exercice 1 : Le secret des marathoniens éthiopiens et kenyans (5 points)

Sans conteste, les athlètes originaires d'Ethiopie et du Kenya dominent les marathons, course de fond et d'endurance sur 42,2 km. Le palmarès du marathon de Paris en témoigne : en 2018, le kenyan Paul Lonyangata et la kenyane Betsy Saina remportent l'épreuve ; en 2019 les coureurs éthiopiens Gelete Burka chez les femmes et Abrha Milaw chez les hommes sont déclarés vainqueurs.

Leur réussite repose sur différents facteurs parmi lesquels on trouve un régime alimentaire hyper-glucidique : 67 à 76 % de l'apport énergétique total alors que l'apport des glucides ne représente que 49 % de l'apport énergétique quotidien d'un marathonien européen.

L'objectif de cet exercice est de s'intéresser à quelques aspects du régime alimentaire particulier de ces marathoniens.

Document 1 : Activité physique et dépense énergétique



L'intensité d'une activité physique pour un individu est le plus souvent exprimée en équivalent métabolique ou MET (*metabolic equivalent of task*).

1 MET représente approximativement une **une** dépense énergétique égale à $4,18 \text{ kJ} \cdot \text{kg}^{-1} \cdot \text{h}^{-1}$ (kilojoule par kilogramme de masse corporelle et par heure d'activité).

Document 2 : Le régime alimentaire des marathoniens éthiopiens et kenyans

À chaque repas, les marathoniens éthiopiens et kenyans consomment beaucoup de fruits et de légumes, très peu de lipides, un ratio de protides légèrement supérieur aux apports recommandés. Leur régime alimentaire est par contre hyperglucidique : l'apport quotidien moyen de glucides dans leur alimentation s'élève à 600 g.

Les quatre principales sources de glucides sont : l'ugali* (25 %), le saccharose utilisé en grande quantité dans le thé (20 %), le riz (14 %) et le lait (13 %).

Les glucides sont dégradés, plus ou moins rapidement, en glucose qui est soit utilisé directement par les cellules de l'organisme pour leur survie, soit, pour l'excès, stocké sous forme de glycogène (polymère du glucose), dans le foie et dans les muscles, pour une utilisation ultérieure grâce à une réaction d'hydrolyse.

* purée de farine de maïs cuite à l'eau et agglomérée en boules

Modèle CCYC : ©DNE

Nom de famille (naissance) :

(Suivi s'il y a lieu, du nom d'usage)

Prénom(s) :

N° candidat : N° d'inscription :

(Les numéros figurent sur la convocation.)

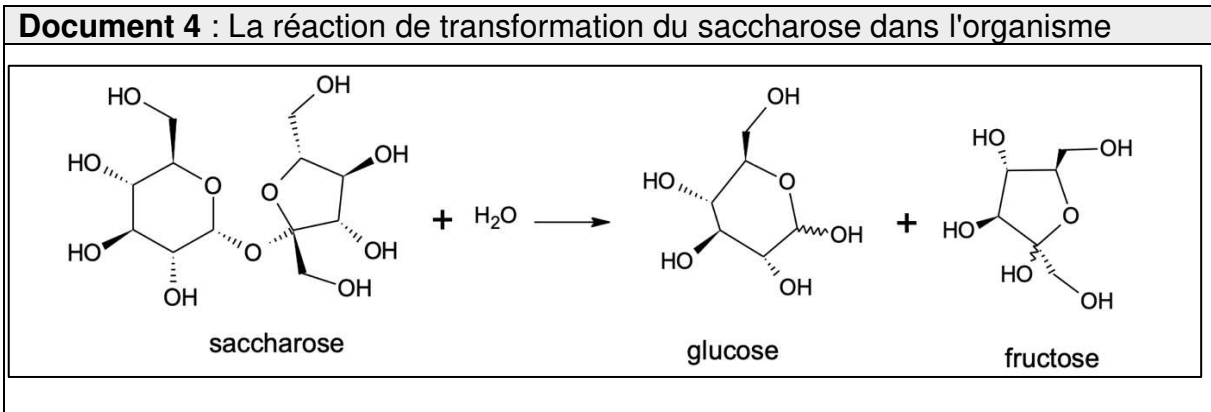
Né(e) le : / /



RÉPUBLIQUE FRANÇAISE

1.1

Document 3 : La farine de maïs (source https://www.lanutrition.fr)	
Répartition nutritionnelle	Valeurs nutritionnelles pour une portion de 100 g
Lipides : 4,4% Glucides : 87,7 % Protéines : 7,9 %	Protéines 6,93 g
	Lipides 3,86 g
	Glucides 76,85 g
	Cendres 1,45 g
	Alcool 0 g
	Eau 10,91 g
	Fibres 7,3 g
	Acide alpha-linolénique 0,053 g



Document 5 : La combustion du glucose

La combustion d'une mole de glucose libère une énergie de valeur égale à 2860 kJ ; la trame de l'équation de la réaction de combustion s'écrit :

$$\text{glucose} + \dots\dots O_2 \rightarrow \dots\dots CO_2 + \dots\dots H_2O.$$

Seuls 35 % de l'énergie libérée sont directement utilisés par l'organisme, les 65 % restant sont libérés sous forme de chaleur.

- Données :**
- 1 kcal = 4,18 kJ
 - Apports énergétiques des macronutriments : 4 kcal.g⁻¹ pour les protides et les glucides ; 9 kcal.g⁻¹ pour les lipides

1. La durée de la course de Gelete Burka (1,60 m, 43 kg) lors du marathon de Paris en avril 2019 est voisine de 2 h 30 min. En s'appuyant sur le **document 1**, évaluer la dépense énergétique globale occasionnée par la course et montrer qu'elle est voisine de 2043 kcal.
2. Montrer que le régime alimentaire du **document 2** sera adapté à la bonne gestion et récupération de la course de Gelete Burka.



3. Évaluer, à l'aide du **document 3**, la masse d'ugali que devra consommer Gelete Burka pour reconstituer 25 % des réserves énergétiques brûlées pendant la course.

4. Expliquer, en s'appuyant sur le **document 2**, l'intérêt de la pratique d'un régime hyperglucidique dans le cadre de la préparation des marathoniens kenyans et éthiopiens.

5. En s'appuyant sur le **document 4**, écrire la formule développée de la molécule de glucose puis entourer et nommer les fonctions chimiques qu'elle contient.

6. Écrire, en exploitant le **document 5**, l'équation ajustée de la transformation du glucose par la voie aérobie puis expliquer l'intérêt pour les marathoniens de consommer en grande quantité du thé sucré y compris pendant la course. Conclure en proposant et justifiant, à l'aide d'éléments de culture générale, une autre solution à mettre en œuvre pendant la course.

Exercice 2 : Cryothérapie (5 points)

En dermatologie, la cryothérapie (thérapie par le froid) est utilisée afin de détruire des lésions cutanées de natures très diverses : kératoses séborrhéiques, adénomes sébacées, hamartomes verruqueux, angiomes séniles, angiokératomes, etc.

Cette technique consiste à appliquer sur la lésion à traiter du diazote liquide afin de créer une congélation rapide des tissus. Le diazote se vaporise lorsque le dermatologue le met en contact avec la peau du patient et cela permet d'atteindre, en une durée de 30 secondes, une température pouvant se situer entre -25 °C et -50 °C . L'abaissement très brutal de la température aboutit à la destruction de la membrane et des structures cellulaires. Suite à la congélation, le réchauffement progressif des tissus prolonge le processus de destruction cellulaire.

Données :

Températures de changement d'état du diazote à la pression atmosphérique :

- $T_{\text{fusion}}(\text{N}_2) = -210\text{ °C}$
- $T_{\text{ébullition}}(\text{N}_2) = -196\text{ °C}$

Électronégativité de quelques atomes :

- Hydrogène H : 2,2 ; oxygène O : 3,4 ; azote N : 3,0

Masses volumiques :

Modèle CCYC : ©DNE																				
Nom de famille (naissance) : <small>(Suivi s'il y a lieu, du nom d'usage)</small>																				
Prénom(s) :																				
N° candidat :											N° d'inscription :									
 <small>Liberté • Égalité • Fraternité RÉPUBLIQUE FRANÇAISE</small>	<small>(Les numéros figurent sur la convocation.)</small>																			
Né(e) le :			/			/														

1.1

- Eau liquide : $1,0 \text{ g}\cdot\text{cm}^{-3}$
- Eau solide : $0,92 \text{ g}\cdot\text{cm}^{-3}$

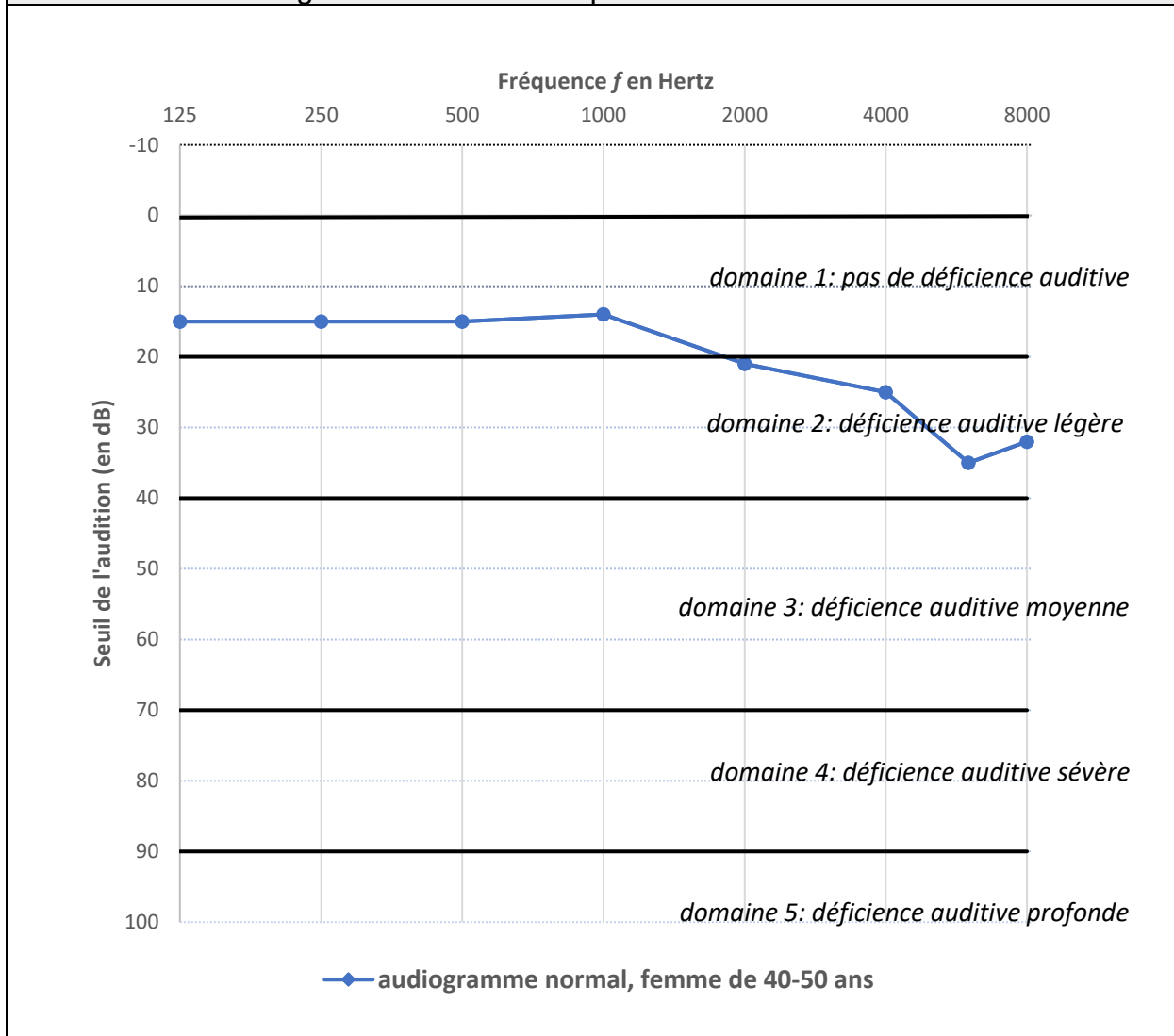
1. Expliquer pourquoi une liaison O-H est polaire.
2. Schématiser la molécule d'eau et expliquer précisément l'origine de son caractère polaire.
3. Préciser, en le justifiant par un raisonnement à l'échelle moléculaire, si le volume de l'eau augmente ou diminue lorsqu'elle passe de l'état liquide à l'état solide.
4. En considérant un gramme d'eau, vérifier à l'aide de calculs si les valeurs des masses volumiques fournies dans les données sont en accord avec la réponse à la question 3.
5. Le diazote liquide bout lorsqu'il est mis en contact avec la peau du patient. En déduire, en le justifiant, la température du diazote juste au moment de ce contact.
6. Indiquer, en le justifiant, la nature du changement d'état que subit l'eau contenue dans les cellules de l'épiderme.
7. En prenant appui sur les réponses précédentes, proposer une explication à la destruction de la membrane cellulaire lors du processus de congélation.

Exercice 3 : Identification et compensation d'une perte auditive (5 points)

L'audiogramme tonal normal pour une femme dans la tranche d'âge 40-50 ans est représenté sur le **document 1**.



Document 1 : Audiogramme tonal normal pour une femme de 40 à 50 ans



Document 2 : Seuils d'audition relevés lors de l'examen de Mme B.

Fréquence (en Hertz)	125	250	500	1000	2000	4000
seuil d'audition de Mme B. (en dB)	50	58	63	64	62	74

Modèle CCYC : ©DNE

Nom de famille (naissance) :

(Suivi s'il y a lieu, du nom d'usage)

Prénom(s) :

N° candidat : N° d'inscription :

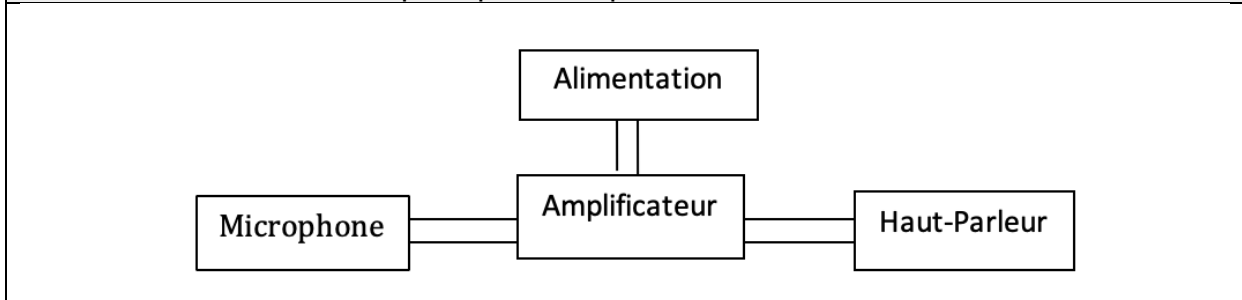
(Les numéros figurent sur la convocation.)

Né(e) le : / /



1.1

Document 3 : Schéma de principe d'une prothèse auditive



1. Compte tenu de la nature des mesures reportées dans un audiogramme tonal, proposer un protocole à suivre pendant l'examen médical afin d'obtenir le graphe présenté dans le **document 1**.

2. Donner la valeur du seuil normal d'audition pour une femme dans la tranche d'âge 40-50 ans à une fréquence de 1000 Hertz.

3. D'après l'audiogramme tonal, préciser, en expliquant la réponse, si une femme dans la tranche d'âge 40-50 ans perçoit mieux les sons graves ou les sons aigus.

Une patiente de 45 ans, Mme B., souffrant de troubles auditifs, se rend chez son médecin. Celui-ci l'oriente vers un médecin otologiste afin de réaliser un audiogramme tonal. Les seuils d'audition relevés lors de l'examen médical de Mme B. sont donnés dans le **document 2**.

4. Représenter et légender l'audiogramme tonal de Mme B. sur l'**annexe à rendre avec la copie**.

5. À l'appui de la représentation effectuée à la question précédente, qualifier la déficience auditive de Mme B. en expliquant la réponse.

Le médecin conseille à Mme B le port d'une prothèse auditive dont le schéma de principe est donné dans le **document 3**.

6. Expliquer brièvement le principe de fonctionnement de cette prothèse.



Exercice 4 : Le test d'effort (5 points)

Dans le cadre d'un suivi médical prescrit par un cardiologue, un patient de 50 ans effectue un test d'effort, c'est-à-dire un examen consistant à l'enregistrement d'un électrocardiogramme durant le déroulement d'un exercice physique calibré.

Pendant l'effort, la fréquence cardiaque du patient ne doit pas dépasser un certain seuil dont la valeur est donnée par le **document 1**.

Au cours du test, la puissance développée par le patient augmente progressivement de 0 à 350 W et sa tension artérielle suit une évolution représentée par le graphique du **document 2**.

La valeur du volume d'éjection systolique dépend de divers facteurs présentés brièvement dans le **document 3**.

Donnée : 1 mL = 10^{-6} m³

Document 1 : fréquence cardiaque maximale pendant un test d'effort

Pendant l'effort, la fréquence cardiaque f_C du patient est mesurée en continu à l'aide d'un cardiofréquencemètre. La fréquence cardiaque maximale, exprimée en battements par minute, à ne pas dépasser pendant l'effort est évaluée à l'aide de la relation empirique :

$$f_{Cmax} = (220 - \text{âge du patient}) \times 0,80$$

Par exemple, pour un patient de 60 ans :

$$f_{Cmax} = (220 - 60) \times 0,80 = 128 \text{ battements par minute.}$$

Modèle CCYC : ©DNE

Nom de famille (naissance) :

(Suivi s'il y a lieu, du nom d'usage)

Prénom(s) :

N° candidat : N° d'inscription :

(Les numéros figurent sur la convocation.)

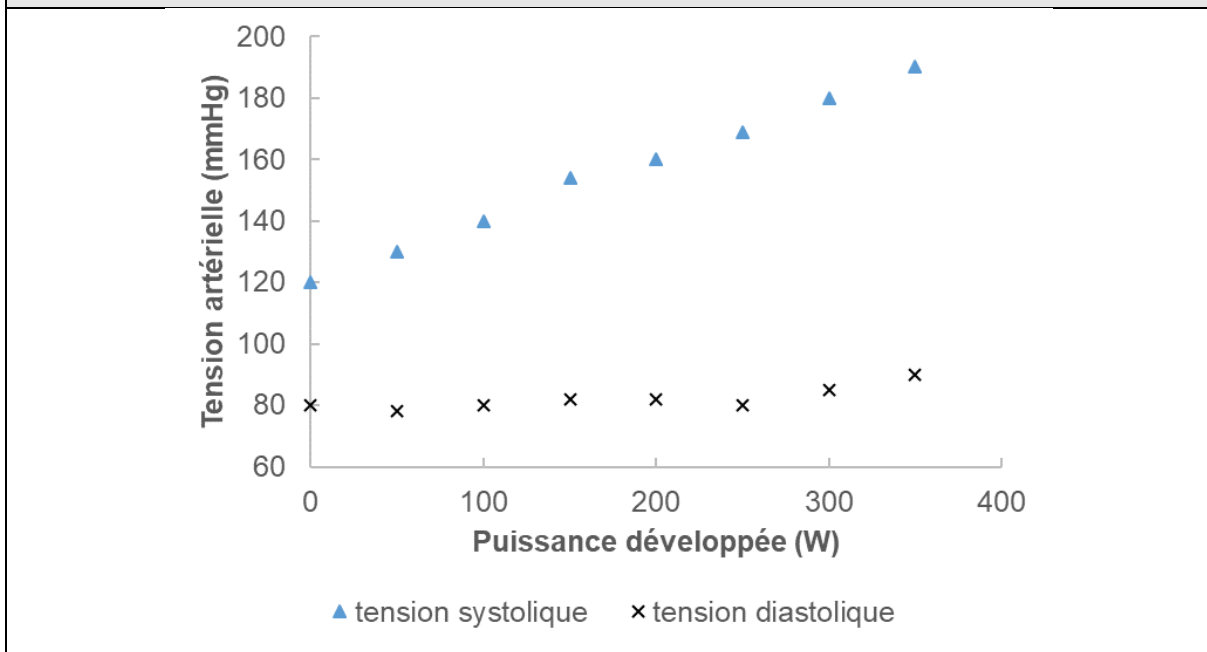
Né(e) le : / /



RÉPUBLIQUE FRANÇAISE

1.1

Document 2 : évolution de la tension artérielle au cours du test d'effort



Document 3 : le volume d'éjection systolique

Le volume d'éjection systolique V_{ES} est le volume de sang que le cœur éjecte à chaque battement (systole). Il dépend d'une multitude de facteurs, notamment de la taille du cœur, de son remplissage, de la force et de la durée de la contraction et de la résistance à l'éjection du sang dans la circulation systémique. Chez l'homme, il est proche de 100 mL. Un entraînement sportif régulier permet d'accroître la valeur du volume V_{ES} jusqu'à atteindre 150 mL en plein effort.

1. Dans le **document 1**, la fréquence cardiaque f_C est exprimée en battements par minute. Indiquer quelle est l'unité de fréquence dans le système international.
2. Montrer que la fréquence cardiaque du patient au cours du test ne doit pas dépasser une valeur de 2,3 exprimée dans l'unité du système international.
3. En exploitant le **document 2**, décrire brièvement l'évolution de la tension artérielle du patient au cours du test et notamment l'écart entre la tension systolique et la tension diastolique.

Au cours du test, le débit cardiaque D_C du patient augmente jusqu'à atteindre une valeur de $3,3 \times 10^{-4} \text{ m}^3 \cdot \text{s}^{-1}$, soit $0,33 \text{ L} \cdot \text{s}^{-1}$.



4. Indiquer la relation permettant d'exprimer le débit cardiaque D_C en fonction de la fréquence cardiaque f_C et du volume d'éjection systolique V_{ES} .
5. En effectuant un calcul et en argumentant à l'aide du **document 3**, indiquer si le patient a une pratique sportive régulière.

Modèle CCYC : ©DNE

Nom de famille (naissance) :

(Suivi s'il y a lieu, du nom d'usage)

Prénom(s) :

N° candidat :

N° d'inscription :



Liberté • Égalité • Fraternité
RÉPUBLIQUE FRANÇAISE

Né(e) le :

(Les numéros figurent sur la convocation.)

1.1

Exercice 3 : annexe à rendre avec la copie

